

Adı :
Soyadı:

2. Sınıf Matematik

Uzunluk Ölçme-3



Bir nesnenin uzunluğunu karış, ayak, adım, kulaç ile ölçebiliriz.

Ancak herkesin ölçüleri standart (eşit) olmadığından farklı sonuçlar çıkar.



Metre ve cetvel standarttır. Yani herkesin metresi ve cetveli eşittir.

Bir nesnenin uzunluğunu ölçmek için cetvel ya da metre kullanmak daha doğrudur.

Standart ölçme araçlarının isimlerini yazalım.



Gönye



Cetvel



Şerit Metre




Mezura




Kırık Metre


Aşağıdaki kalemlerin uzunluklarını yazınız.



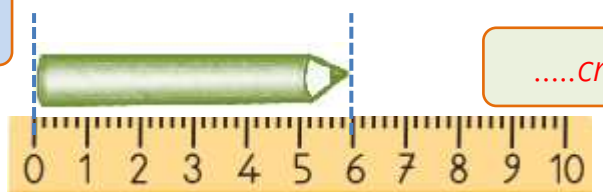
.....cm



.....cm



.....cm



.....cm

Adı :
Soyadı:

2. Sınıf Matematik


Uzunluk Ölçme-3

Aşağıdaki çubukların uzunluklarını cetvel ile ölçüm yazınız.



Cetvelle ölçerken nesnenin bir ucunu tam olarak 0'ın (sıfır) çizgisine getirmeyi

Diğer ucu hangi sayıya denk geldiyse nesnenin uzunluğunu buluruz.




..... cm



..... cm



..... cm



.....



.....



.....



.....

En uzun çubuk renklidir.
Uzunluğusantimetredir.

En kısa çubuk renklidir.
Uzunluğusantimetredir.

Yeşil çubuk pembe çubuktancm daha
.....

Kırmızı çubuk mavi çubuktancm
daha