

Adı :
Soyadı:

2. Sınıf Matematik

Uzunluk Ölçme-4



Kalem, silgi, defter, çanta gibi küçük eşyaların boylarını santimetre (cm) ile söyleriz. Bunları ölçmek için cetvel kullanabiliriz.

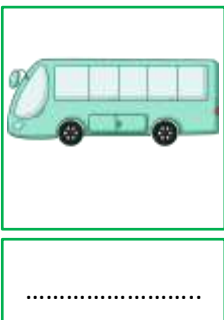



Ev, ağaç, kapı, halı, araba gibi büyük nesnelerin boylarını metre (m) ile ifade ederiz.



1 metre 100 santimetreye eşittir. Bir metrenin içinde 100 tane cm vardır.

Büyük nesnelerin uzunluğunu ölçmek için şerit metre kullanmalıyız.

Aşağıdakilerden hangisinin uzunluklarını ne ile ifade edebiliriz? (Gerçek boylarını düşününüz.)



Adı :
Soyadı:

2. Sınıf Matematik

Uzunluk Ölçme-4

Aşağıdaki varlıkların uzunluklarını tahmin ediniz. (gerçek varlıkları düşünün)



1 m



.....m



.....m



.....m



.....m



.....m.....m



.....m



.....m



.....m

Ağaçların boylarını eşleştiriniz.
(gerçek varlıkları düşünün)



12 m

6 m

8 m

4 m

2 m

Evlerin boylarını eşleştiriniz.
(gerçek varlıkları düşünün) **Not:**
Ağaçların yüksekliği 3 m

