

Adı :

Soyadı:

2. Sınıf Matematik

Uzunluk Ölçme-5

Uzunlukları kısaltma ile eşleştirelim.

20 santimetre

50 metre

5 metre

1 metre

5 santimetre

20 metre

50 santimetre

1 santimetre

50 cm

20 m

5 cm

1 cm

20 cm

1 m

50 m

5 m

Uzunlukları tahmin edelim, sonra ölçelim.



Tahminim

.....cm

Gerçek Sonuç

.....cm



Tahminim

.....cm

Gerçek Sonuç

.....cm



Tahminim

.....cm

Gerçek Sonuç

.....cm

Uzunlukları hesaplayalım.



Kalemıraşın uzunluğu : 3 cm

Kalemin uzunluğu :cm



Silginin uzunluğu : 4 cm

Çantanın uzunluğu :cm



Kalemin uzunluğu : 10 cm

Masanın uzunluğu :cm

Adı :

Soyadı:

2. Sınıf Matematik

Uzunluk Ölçme-5

Çubukların uzunluklarını tahmin ediniz.



3 cm



5 cm



..... cm



8 cm



2 cm



..... cm



10 cm



12 cm



..... cm



15 cm



13 cm



..... cm



5 cm



..... cm



..... cm



..... cm

Çocukların uzunluklarını tahmin ediniz.



1 m 12 cm




1 m cm



1 m cm




1 m 35 cm



1 m cm




1 m cm



1 m cm



1 m 15 cm



1 m cm