

1. SINIF MATEMATİK - ZAMAN ÖLÇME ETKİNLİĞİ - 1

✚ Saatlerin kaçı gösterdiğini altlarına yazınız.



→

→

→

→



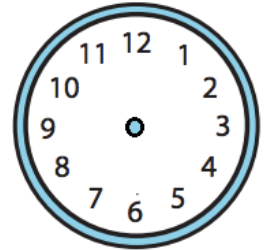
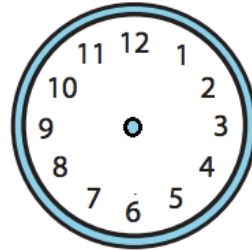
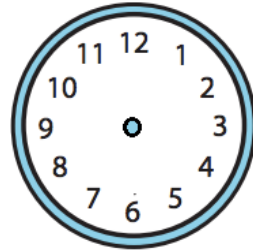
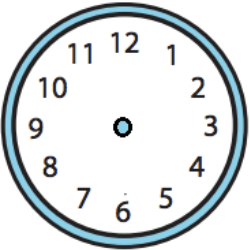
→

→

→

→

✚ Okunuşları verilen saatlerin akrep ve yelkovanlarını çiziniz.

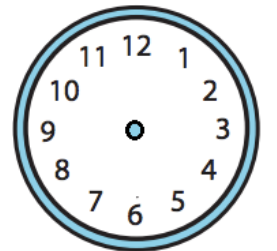
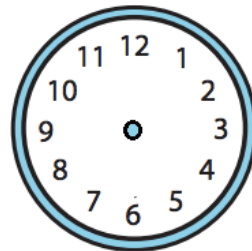
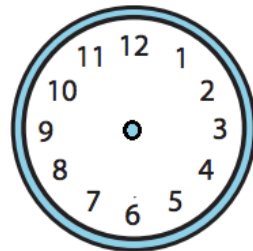
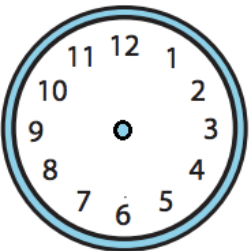


Saat iki

Dokuz buçuk

Saat beş

Üç buçuk



Saat bir

On buçuk

Saat yedi

Sekiz buçuk

✚ Tablolardaki eksik günleri yazınız.

1	2	3	4	5	6	7
Pazartesi					Cumartesi	

1	2	3	4	5	6	7
		Çarşamba		Cuma		

✚ Aşağıdaki tabloya dünü ve yarını yazınız.

1 GÜN ÖNCE	BUGÜN	1 GÜN SONRA
	Cuma	
	Salı	
	Pazar	
	Perşembe	
	Pazartesi	

✚ Yılın aylarını sırasıyla yazınız.

1.	Ocak
2.	
3.	
4.	

5.	
6.	
7.	
8.	

9.	
10.	
11.	
12.	Aralık

✚ Aşağıdaki tabloya önceki ve sonraki ayı yazınız.

ÖNCEKİ AY	AYLAR	SONRAKİ AY
	Şubat	
	Ekim	
	Nisan	
	Ağustos	
	Mayıs	