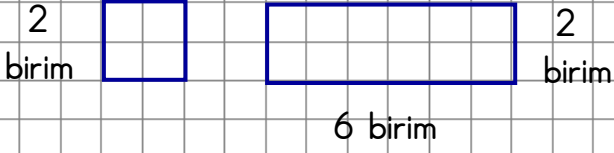


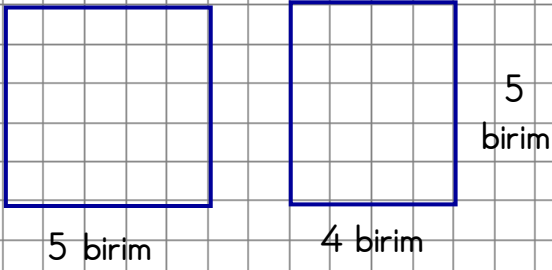


ALAN ÖLÇME

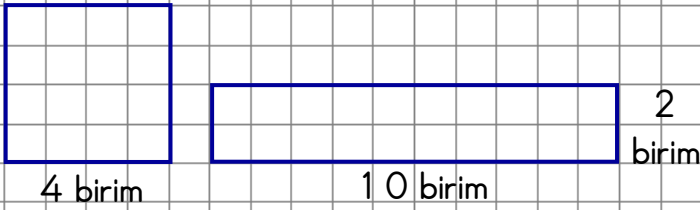
1.) Dikdörtgenin alanı karenin alanından kaç birim kare fazladır?



2.) Karenin alanı dikdörtgenin alanından kaç birim kare fazladır?



3.) Dikdörtgenin alanı karenin alanından kaç birim kare fazladır?



4.) Karenin alanı dikdörtgenin alanından kaç birim kare fazladır?

