

1) Yarın bahçeye ceviz fidanı .....

Yukarıdaki cümlede noktalı yere aşağıdaki kelimelerden hangisi yazılabilir?

- A) diktik                      B) dikmiş  
C) diyoruz                    D) dikeceğiz

2) Aşağıdaki cümlelerin hangisinde yapılan iş farklı bir zamanda yapılmıştır?

- A) Kardeşimle birlikte parka gideceğiz.  
B) Çiçekleri kurumadan sularım.  
C) Annem kuruyan elbiseleri ütülecek.  
D) Okulun bahçesinde top oynayacaklar.

3) Ozan , bayatlamış ekmeği kuşlara vermek için balkona çıktı.

Yukarıdaki ifadede aşağıdaki sorulardan hangisinin cevabı yoktur?

- A) Ne zaman çıktı?            B) Nereye çıktı?  
C) Niçin çıktı?                 D) Kim çıktı?

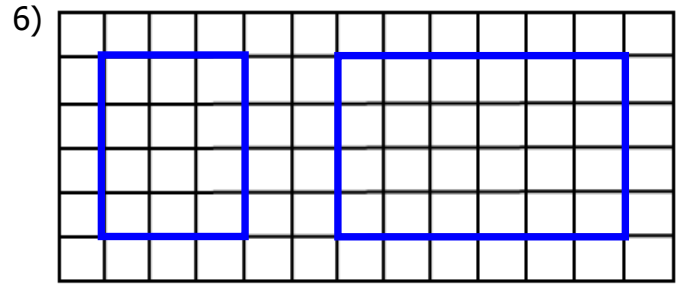
4) Çocuk karşıya geçerken az kalsın mavi araba neredeyse çarpacaktı.

Yukarıdaki cümledeki anlam bozukluğu hangi kelimenin çıkarılmasıyla giderilir?

- A)  B)  C)  D) 

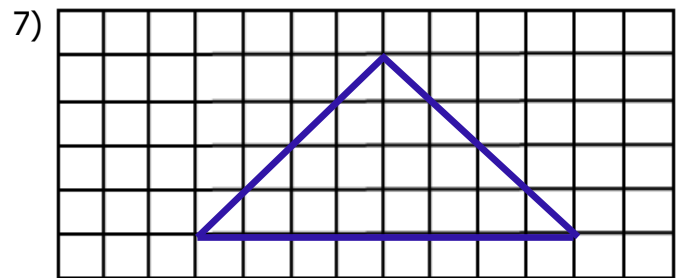
5) Aşağıdakilerden hangisi bir metnin giriş cümlesi olabilir?

- A) Taner , annesine sarılıp teşekkür etti.  
B) Ablam nasıl davranacağını bilemedi.  
C) Eski mahallemizdeki komşularımız yarın bize gelecekler.  
D) Yaren, bugün yaşadıklarını gülerек babasına anlattı.



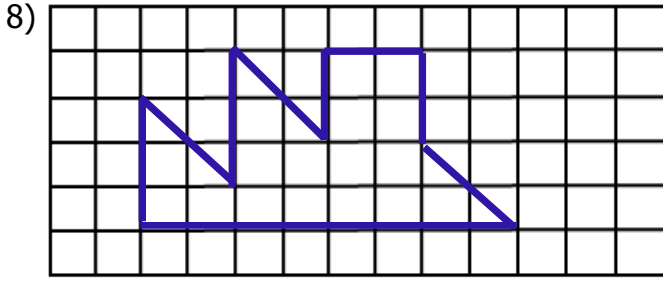
Yukarıdaki büyük dikdörtgenin alanı küçük dikdörtgenin alanından kaç birim kare fazladır?

- A) 9                                B) 10  
C) 12                              D) 14



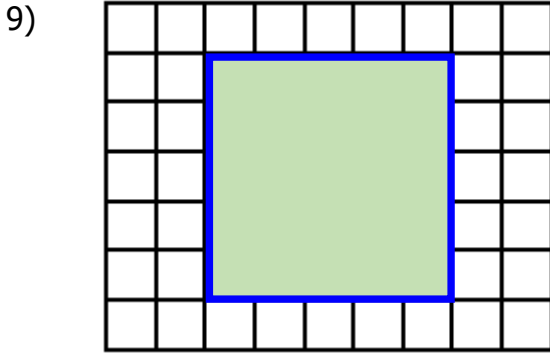
Yukarıdaki üçgenin alanı kaç birim karedir?

- A) 20                                B) 18  
C) 16                                D) 14



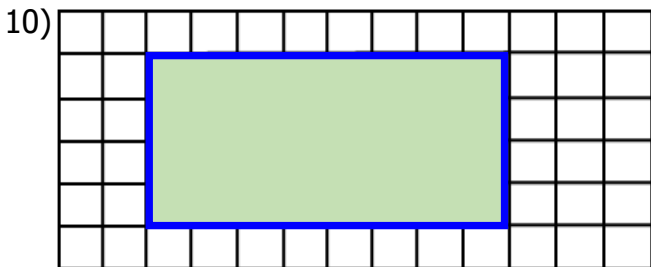
Yukarıdaki şeklin alanı kaç birim karedir?

- A) 20 B) 23 C) 18 D) 22



Yukarıdaki karenin alanını aşağıdaki işlemlerden hangisiyle bulabiliriz?

- A)  $5 + 5$  B)  $4 \times 5$   
C)  $5 + 5 + 5 + 5$  D)  $5 \times 5$



Yukarıdaki dikdörtgenin alanı kaç birim karedir?

- A) 24 B) 32 C) 28 D) 34

- 11)  Asya  Almanya  
 Rusya  Afrika

Yukarıdakilerden hangileri kıta **değildir** ?

- A)   B)    
C)   D)

- 12) Bu ülke özellikle boğa güreşleriyle tanınır. Barcelona ve Real Madrid bu ülkenin ünlü futbol takımlarıdır.

Yukarıda sözü edilen ülke aşağıdakilerden hangisidir?

- A) Fransa B) Brezilya  
C) İngiltere D) İspanya

- 13) Aşağıdakilerden hangisi Finlandiya'ya ait bir özellik **değildir**?

- A) Her evde "sauna" adı verilen hamam var.  
B) Eğitimde geri kalmışlardır.  
C) Yaz döneminde güneş hiç batmaz.  
D) Kuzey kısımları karlarla kaplıdır.

- 14) I- Çayın çok içilmesi  
II - Konuşulan dil  
III- Milli bayramlar  
IV- Geline kına gecesi yapılması  
Yukarıdakilerden hangileri Ürdün ile ülkemizin ortak özellikleri arasında gösterilebilir?

- A) I ve III B) III ve IV  
C) I ve IV D) I ve II

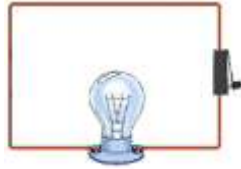
- 15) Aşağıdakilerden hangisi Almanya'ya ait özelliklerden biri **değildir**?
- A) Dünyanın en kalabalık nüfusuna sahip ülkesidir.  
 B) Yurt dışında çalışan vatandaşlarımızın çoğunluğu bu ülkede yaşamaktadır.  
 C) Otomobil sanayisi çok gelişmiştir.  
 D) Avrupa'nın en iyi ekonomisine sahip ülkelerden biridir.

- 16) Elektrik devresini açıp kapamaya yarayan devre elemanına ..... denir.

Yukarıdaki ifadede noktalı yere aşağıdakilerden hangisi yazılmalıdır?

- A) Pil                      B) Kablo  
 C) Ampul                 D) Anahtar

- 17) Yandaki basit elektrik devresinde eksik olan devre elemanı aşağıdakilerden hangisidir?



- A) Duy                      B) Kablo  
 C) Anahtar                D) Pil

- 18)  Anahtar açıldığında ampul ışık verir.  
 Anahtar kapandığında ampul ışık vermez.  
 Basit bir elektrik devresinde anahtar olmasa da olur.

Yukarıdaki ifadelerden doğru olanlara "D", yanlış olanlara "Y" yazarsak hangi sonuç ortaya çıkar?

- A) 

Y
Y
D

    B) 


D
Y
Y

    C) 

Y
D
Y

    D) 

D
D
Y

- 19)  Basit bir elektrik devresi yaptım. Ama ampul ışık vermedi.

Yukarıdaki ifadeye göre ampulün ışık vermemesinin sebebi aşağıdakilerden hangisi **olamaz**?

- A) Pil boş olabilir.  
 B) Kablo kopuk olabilir.  
 C) Anahtar açık olabilir.  
 D) Ampul patlak olabilir.

- 20) Yandaki basit elektrik devresinde ampulün yanmamasının sebebi aşağıdakilerden hangisidir?



- A) Ampul patlamış.  
 B) Kablo yanlış bağlanmış.  
 C) Pil boş.  
 D) Anahtar açık.

## CEVAP ANAHTARI

TÜRKÇE	MATEMATİK	SOSYAL BİL.	FEN BİLİM.
1) D	6) C	11) B	16) D
2) B	7) C	12) D	17) D
3) A	8) A	13) B	18) A
4) B	9) D	14) C	19) C
5) C	10) B	15) A	20) B