

19 MAYIS 1919

Yıl bin dokuz yüz on dokuz,
Bir vapur ayrıldı İstanbul'dan.
Çok şey bekleniyordu,
Mavi gözlü vatan evladından.

Samsun'da başladı bu destan,
Vatana biçilen kadere isyan.
Sesler yükseldi art arda,
Amasya, Erzurum ve Sivas'tan.

Toplandı vatansever kahramanlar,
Yurdun dört bir yanından.
Döküldü birer birer denize,
Kovuldu düşman yurdumuzdan.

...

Funda Menekşe

1 ve 2. soruları yukarıdaki şiire göre cevaplayınız.

1. Bu destan nerede başlamış?

- a) Samsun b) Ankara c) İstanbul

2. 3. dördükte üç heceli toplam kaç kelime vardır?


- a) 4 b) 5 c) 6

3. Aşağıdaki kelimelerden hangisi sözlük sırasında en sonda yer alır?

- a) Mikrop b) Mikrofon c) Mikroskop

4. Aşağıdaki cümlelerden hangisinin sonuna farklı bir noktalama işareti getirilmelidir?

- a) Siz gelmeseniz daha iyi olacak galiba
b) Duvar saati için kaç tane pil alayım
c) Pazar günü ne yapmayı planlıyorsun



5.

Yandaki harflerinin tümü kullanılarak aşağıdaki kelimelerden hangisi yazılır?

- a) Kırılğan b) Kırkağaç c) Kırlangıç


Dallar çiçek açtı, açtı.
Kırlangıç uçtu, uçtu.
Kar eridi, sular coştı ...
Oh, ne hoştu, oh ne hoştu ...
Oh! Açıldı gözüm, gönlüm.

6.

Bu şiirde anlatılan mevsim aşağıdakilerden hangisidir?

- a) İlkbahar b) Yaz c) Sonbahar

7. Aşağıdaki görsellerden hangisinin anlamı diğerlerinden farklıdır?



8. Aşağıdakilerden hangisi yanlıştır?

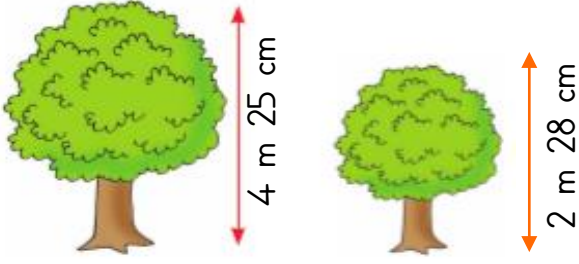
- a) 4 m = 400 cm
b) 7 m 4 cm = 740 cm
c) 6 m 55 cm = 655 cm

9. Bir terzi 6 m kumaşın 2 m 45 cm'si ile ceket, 1 m 40 cm'si ile pantolon dikti.

Buna göre, terzinin geriye kaç santimetre kumaşı kalmıştır?

- a) 215 b) 125 c) 115

Ömer USLU



10. Yukarıdaki iki ağacın toplam uzunluğu kaç cm'dir?
a) 653 cm b) 553 cm c) 603 cm




Elbise için ne kadar kumaş kullanılmıştır?

11. a) 2m 65 cm b) 2m 70 cm c) 2m 75 cm

12. Benim boyum 1 m 45 cm'dir. Babamın boyu benim boyumdan 39 cm uzundur. İkimizin boy uzunlukları toplamı kaç cm'dir?

- a) 2m 29cm b) 3m 29cm c) 3m 39cm



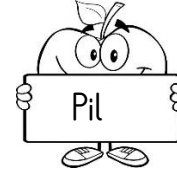
13. Yukarıdaki ağacın boyu evin boyundan ne kadar uzundur?
a) 2m 40cm b) 2m 60cm c) 3m 60cm

14. 1 metresi 65 TL olan kumaştan 800 cm alan Göktürk, kaç TL öder?
a) 580 b) 540 c) 520



Görseli verilen elektrik kaynağı hangi araçların çalıştırılmasında kullanılmaz?

15. a) Otomobil b) Traktör c) Televizyon



16. Yukarıda verilen elektrik kaynaklarının kullanım ömrü bakımından azdan çok olana doğru sıralanışı aşağıdakilerden hangisidir?

- a) Pil-Batarya-Akü b) Akü-Pil-Batarya
c) Pil-Akü-Batarya

17. Evlerimizdeki elektrik kesildiği zaman aşağıdakilerden hangisi çalışmaya devam eder?

- a) Çamaşır makinesi b) Saat
c) Buzdolabı



18. Görsellerde gördüğünüz meyve ve sebzelerin yetiştirildiği yerlerin adları hangisinde doğru sıralama ile verilmiştir?

- a) bostan-bahçe-bağ b) bostan-bağ-bahçe
c) bahçe-bostan-bağ

19. Bitki ve hayvan yetiştiren-üreten meslek grubuna ne ad verilir?

- a) veteriner b) esnaf c) çiftçi

20. Aşağıdaki ifadelerden hangisi yanlıştır?

- a) Meyve ve sebzeler tarlalarda yetiştirilir.
b) İnsanlar, hayvanlar ve bitkiler doğada bir arada yaşayan canlılardır.
c) Et, süt, yumurta ve bal bitkisel kaynaklı besinlerimizdendir.

CEVAPLAR

Adı Soyadı:

- | | | | | | | | |
|----|---|---|---|----|---|---|---|
| 1 | A | B | C | 11 | A | B | C |
| 2 | A | B | C | 12 | A | B | C |
| 3 | A | B | C | 13 | A | B | C |
| 4 | A | B | C | 14 | A | B | C |
| 5 | A | B | C | 15 | A | B | C |
| 6 | A | B | C | 16 | A | B | C |
| 7 | A | B | C | 17 | A | B | C |
| 8 | A | B | C | 18 | A | B | C |
| 9 | A | B | C | 19 | A | B | C |
| 10 | A | B | C | 20 | A | B | C |

CEVAPLAR

Adı Soyadı:

- | | | | | | | | |
|----|---|---|---|----|---|---|---|
| 1 | A | B | C | 11 | A | B | C |
| 2 | A | B | C | 12 | A | B | C |
| 3 | A | B | C | 13 | A | B | C |
| 4 | A | B | C | 14 | A | B | C |
| 5 | A | B | C | 15 | A | B | C |
| 6 | A | B | C | 16 | A | B | C |
| 7 | A | B | C | 17 | A | B | C |
| 8 | A | B | C | 18 | A | B | C |
| 9 | A | B | C | 19 | A | B | C |
| 10 | A | B | C | 20 | A | B | C |

CEVAPLAR

Adı Soyadı:

- | | | | | | | | |
|----|---|---|---|----|---|---|---|
| 1 | A | B | C | 11 | A | B | C |
| 2 | A | B | C | 12 | A | B | C |
| 3 | A | B | C | 13 | A | B | C |
| 4 | A | B | C | 14 | A | B | C |
| 5 | A | B | C | 15 | A | B | C |
| 6 | A | B | C | 16 | A | B | C |
| 7 | A | B | C | 17 | A | B | C |
| 8 | A | B | C | 18 | A | B | C |
| 9 | A | B | C | 19 | A | B | C |
| 10 | A | B | C | 20 | A | B | C |

1.	A	6.	A	11.	A	16.	A
2.	B	7.	B	12.	B	17.	B
3.	C	8.	B	13.	B	18.	B
4.	A	9.	A	14.	C	19.	C
5.	C	10.	A	15.	C	20.	C

Ömer USLU