



19 MAYIS 1919

Yurdu düşmanlar sardı,
Güneşimiz karardı.
Ninelerin gözleri
Birer kanlı pınardı.

Serin bahar meltemi
Gibi beyaz bir gemi
Samsun'a demir attı,
Göklerimiz ağardı.

Bu gemide inanan,
Yurda şan, millete şan;
Büyük, eşsiz kahraman
Mustafa Kemal vardı.

M.Necati ÖNGAY

Not: İlk 3 soruyu şiire göre cevaplayınız.

1) Şiir kaç mısra, kaç kıtadan oluşmaktadır?

- A) 3 mısra - 12 kıta
- B) 12 mısra - 3 kıta
- C) 12 mısra - 4 kıta


2) Şiirdeki beyaz gemi nereye demir atmıştır?

- A) İzmir'e
- B) İstanbul'a
- C) Samsun'a

3) Şiirdeki gemide hangi kahraman varmış?

- A) Mustafa Kemal
- B) İsmet İnönü
- C) Mehmet Akif ERSOY

4)



Bulmacadaki sözcüğü tamamlamak için soru işaretinin "?" olduğu yere aşağıdaki harflerden hangisini kullanamayız?

- A) P
- B) Z
- C) Ü

5)



Hangi seçenekte olayların oluş sırası doğru olarak verilmiştir?

- A) 3-1-4-2
- B) 2-1-4-3
- C) 2-1-3-4


6) Herkes caddede bize baktı 

Lütfen, yardım ediniz 

Kaçıncı kata çıkacağız 

Yukarıda cümlelerde noktalama işaretleri meyvelerle gösterilmiştir. Buna göre hangi meyve **soru işaretinin** yerine konulmuştur?

- A)  B)  C) 

7)  Sila tatlıyı çok sever pastaya bayılır.




Yukarıdaki cümleyi hangi sözcükle tamamlarsak Sila'nın pastayı **daha çok** sevdiği anlaşılır?

- A) özellikle B) daha C) çünkü

8) "Son aylarda **konut** fiyatları çok yükseldi." cümlesindeki altı çizili sözcüğün yerine aşağıdakilerden hangisi getirilirse cümlenin anlamı **bozulmaz**?

- A) misafir B) ev C) arsa

9) Aşağıdakilerden hangisi standart olmayan uzunluk ölçüsü birimi **değildir**?

- A)  B)  C) 




10)



Efe, sınıf tahtasının uzunluğunu ölçmek istiyor. Sınıf tahtasını hangi uzunluk ölçü birimiyle ölçmesi daha kolaydır?

- A) Karış B) Kulaç C) Parmak




11) Standart olmayan ölçü birimleri kişiden kişiye göre değişir. Buna göre hangi öğrencinin verdiği örneklerin tamamı **doğrudur**?

- A)  Metre, karış ve kulaç
B)  Adım, ayak ve kulaç
C)  Santimetre, parmak ve adım

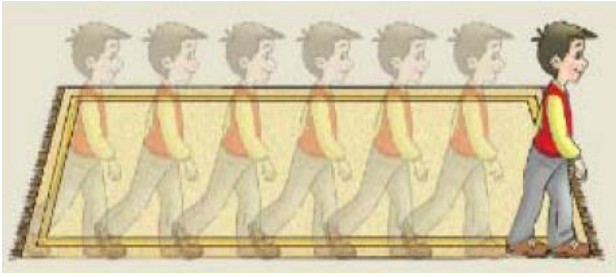
12) Aşağıdaki varlıklardan hangisinin gerçek uzunluğu **2 karış** olabilir?

- A)  B)  C) 

13) Aşağıdakilerden hangisinin gerçek boyu **2 adım** olabilir?

- A)  B)  C) 

14)



Yukarıdaki halının uzunluğu için aşağıdaki ifadelerden hangisi **doğrudur**?

- A) 6 adım 2 ayak B) 6 ayak 2 adım
C) 5 adım 2 ayak

15)



Yandaki meslek grubu aşağıdaki **standart ölçme araçlarından** hangisi kullanır?

- A)  B)  C) 

16)



Yukarıdakilerden hangisi **doğal unsurdur**?

- A) Gökdelen binalar B) Köprü
C) Deniz

17) Aşağıdakilerden hangisi **geri dönüşümün** sembolüdür?

- A)  B) 
C) 

18)



Ova

Orman

Dağ

Yukarıda verilen doğal unsurların hangisinde **tarım** daha verimli bir şekilde yapılabilir?

- A) Ova B) Orman C) Dağ

19)




Bizim kasabamızda tarıma uygun verimli topraklar var. Kışlar çok sert geçmezse iyi ürün alıyoruz.

Aynur'un ifadesine göre hangi çıkarımda **bulunabiliriz**?

- A) Tarım yapabilmek için belli koşullar gerekmez.
B) İklim ve toprak yapısı, insanların geçim kaynağını etkilemektedir.
C) Aynurların kasabasında ulaşım olanakları kısıtlıdır.

20)



Yukarıdaki maddelerden hangileri **geri dönüşüm** yapılabilir?

- A) 3-5-6 B) 2-3-6 C) 1-3-5

Cevap Anahtarı

- 1)B 2)C 3)A 4)C 5)B
6)C 7)A 8)B 9)C 10)B
11)B 12)C 13)A 14)A 15)A
16)C 17)B 18)A 19)B 20)C