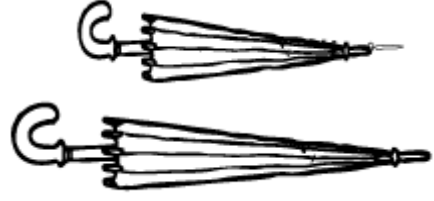
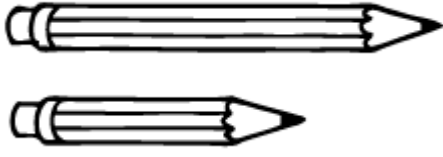


1. SINIF - UZUNLUKLARI ÖLÇME ETKİNLİKLERİ - 1

Uzun olan nesnelere sarıya, kısa olanları kırmızıya boyayınız.



Verilen kalemde daha uzun ve daha kısa kalemler çizin.

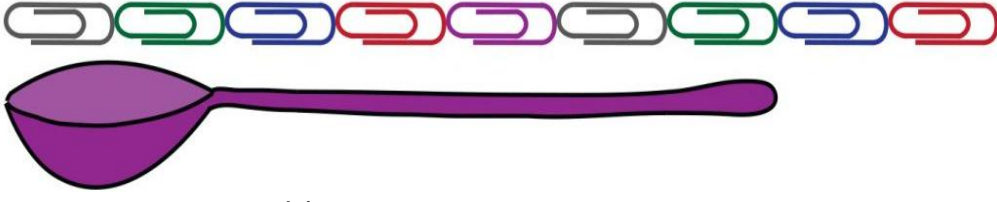
Daha kısa bir kalem çizin →



Daha uzun bir kalem çizin →

Ölçme araçlarının isimlerini yazınız.


Ataşla ölçüm sonuçlarını altlarına yazınız.



→ Kaşığının boyu tane ataş uzunluğundadır.



→ Kalemın boyu tane ataş uzunluğundadır.



→ Fırçanın boyu tane ataş uzunluğundadır.

Nesnelerin uzunluklarını tahmin ediniz.



Kitabımın boyu
..... parmak
uzunluğundadır.



Sıramın uzunluğu
..... karış
uzunluğundadır.




Sınıf tahtamız
..... kulaç
uzunluğundadır.



Evdeki halımız
..... ayak
uzunluğundadır.



Okul bahçemiz
..... adım
uzunluğundadır.



Kalemim
..... silgi
uzunluğundadır.