



CÜMLE BİLGİSİ

☺ Aşağıda verilenlerden cümle olanların çiçeğini boyayıp sonuna uygun noktalama işaretini koyalım.

- ☼ Tarlaya gideceğiz
- ☼ Gaye her akşam yatmadan önce
- ☼ Tüm ödevlerimi yaptım
- ☼ Hakan, Duman'ı parkta gezdiriyor
- ☼ Babam bahçedeki çiçekleri
- ☼ Polis kırmızı ışıkta geçen sürücüyü ceza yazdı
- ☼ Salih soğuk su içtiği için
- ☼ Ablam bize kakaolu kek
- ☼ Arkadaşım poşetleri tazşımamıza yardım etti
- ☼ Görevli parktaki çocukları



☺ Aşağıdaki ifadeleri, verilen kelimelerden uygun olanı ile tamamlayınız.

sildi	dağınık	topladık	okudum	yazılmış	tırmandı
ilgileniyor	ister	gelecek	patlamış	yaptık	taşдық

- Dün ağaçtaki elmaları
- Ozan'ın yeni aldığı top
- Annem dün camları
- Ablam ders çalışırken sessiz bir ortam
- Pelin yüzme kursuna
- Köye gidince kahvaltüyü bahçede
- Melih'in odası çok
- Babamla birlikte kutuları eve
- Fatma evde kardeşiyle
- Dayım yarın bize
- Köpeği gören kedi ağaca



TÜRKÇE

1. ETKİNLİK : Aşağıdaki cümlelerde boş bırakılan yerlere verilen kelimelerden uygun olanını yazalım.

Ozan okudu .

..... eve odun taşı.

Ezgi oldu.

Onun çok uzun .

Nuri bana attı .

Mavi kova su

Aslı çöpü atma.

Mine bize elma

topu	yere
yıka	şiiir
Utku	dolu
aşı	boyu



2. ETKİNLİK : Aşağıda karışık olarak verilen kelimelerle anlamlı bir cümle oluşturalım.

1. (kumaş - kalın - aldı - annem)

2. (Seyit - soğuk - çok - su)

3. (elma - yeme - Gamze - çürük)

4. (bahçeden - Ceren - topladı - kiraz)

5. (söyledi - bize - şarkı - Filiz)

6. (kek - yedik - dün - kakaolu)



3. ETKİNLİK : Bulmacadaki gizli hayvan isimlerini bulalım.

R	A	P	E	Ü	S	Z	Ç	U	Ç
E	K	U	R	T	P	A	İ	P	E
İ	T	M	A	Ç	U	S	T	A	P
V	İ	A	K	A	P	L	A	N	İ
A	L	S	E	K	I	A	K	T	S
Ş	K	K	L	A	O	N	V	E	E
A	İ	Ö	M	L	S	O	B	R	Y
K	T	S	I	R	T	L	A	N	A
F	A	T	A	Y	İ	Ö	İ	P	E

ÇİTA - ÇAKAL - AYI - TILKI

KURT - PANTER - SIRTLAN - PUMA

ASLAN - VAŞAK - KAPLAN





BEYZA' NIN BAHÇESİ

Portakal ve limon yetiştirilen küçük bir köy vardı. Beyza ailesiyle birlikte bu köyde yaşardı. Evleri köyün orman tarafındaydı. İki katlı şirin bir evleri vardı. Evlerinin yanındaki kümeste tavuk ve horoz beslerlerdi. Beyza'nın görevlerinden biri onları yemlemek ve yumurtaları toplamaktı. Kendilerine ait kocaman bir bahçeleri vardı. Evin arkasında biraz ileride orman başlardı. Bahçelerinin büyük bir bölümü meyve ağaçlarıyla kaplıydı. Geriye kalan alanlarda sebze ekilmişti.

Beyza'nın da kendine ait küçük bir bahçesi vardı . Ödevlerini yaptıktan sonra bahçesiyle ilgilenirdi. Beyza, kendi bahçesinde her yıl farklı sebzeler yetiştirirdi. Bahçesinin bakımını babası ile birlikte yapardı. Ama bahçeye ekeceği şeyleri kendisi belirler ve ekerdi. Tohumları ektikten sonra sulamayı da kendisi yapardı. Bu yıl karnabahar ve havuç ekmişti. Yağmurdan sonraki güneşli günlerde Beyza ve babası ormana, mantar toplamaya giderdi. Yenebilecek mantarlarla zehirli olanları kolayca ayırt edebilirdi. Mantarı çok seviyordu. Bazen mantar yetiştirmeyi bile düşünüyordu.

☆ Aşağıdaki soruları metne göre cevaplayalım.

1. Beyzaların köyünde ne yetiştirilmiş?

2. Beyza'nın görevlerinden biri neymiş?

3. Evlerinin arkasında ne varmış?

4. Beyza ne zaman bahçesiyle ilgilenirdi?

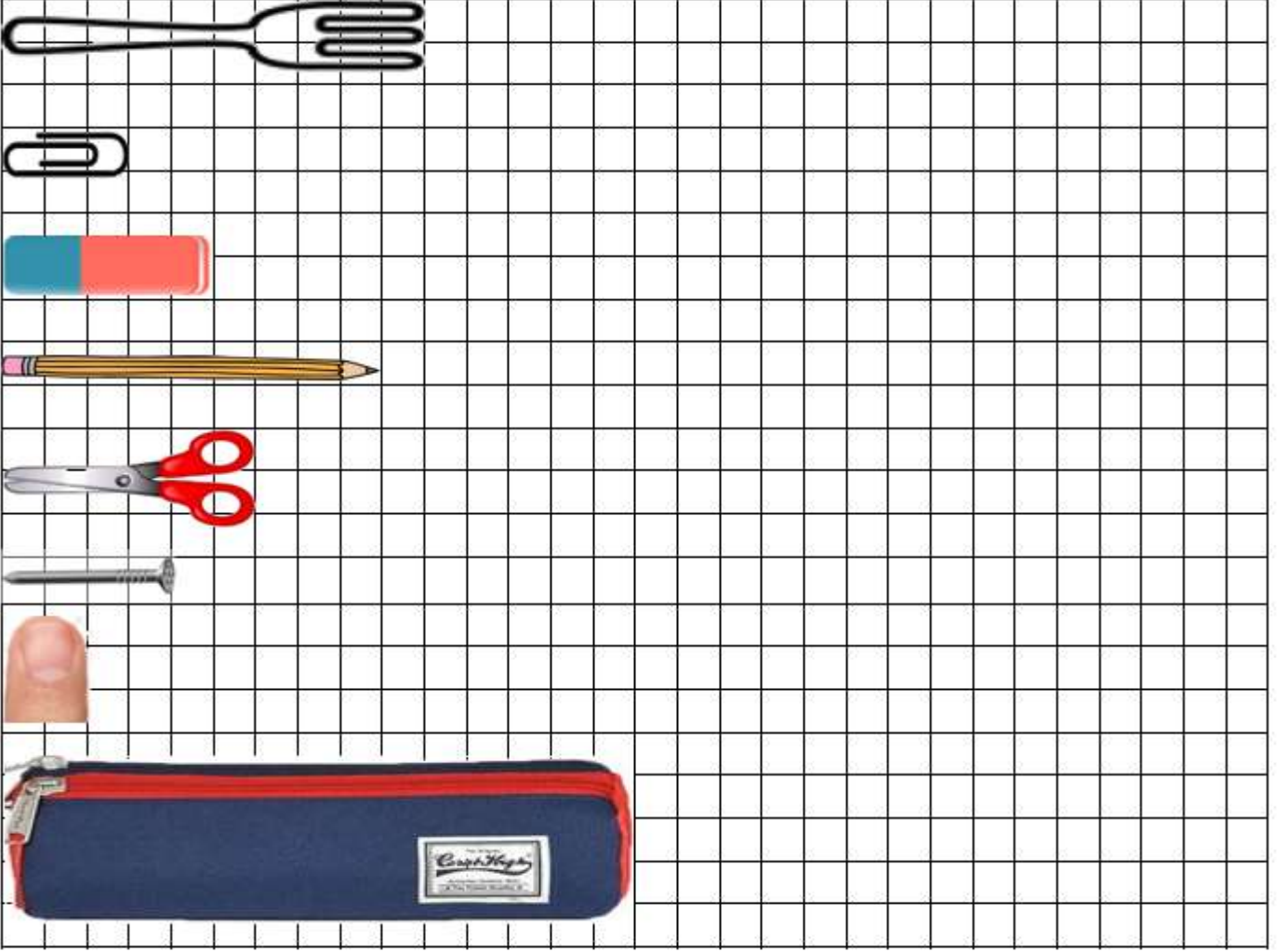
5. Beyza bu yıl bahçeye ne ekmiş ?

6. Güneşli günlerde Beyza ve babası nereye gidermiş?



UZUNLUK ÖLÇME

🔴 Aşağıdaki resmi inceleyelim. Kareleri sayarak aşağıdaki soruları cevaplayalım.



- 1.) Kareli kağıt kaç çatal uzunluğundadır? (Cevap :)
- 2.) Kareli kağıt kaç ataç uzunluğundadır? (Cevap :)
- 3.) Kareli kağıt kaç silgi uzunluğundadır? (Cevap :)
- 4.) Kareli kağıt kaç kalem uzunluğundadır? (Cevap :)
- 5.) Kareli kağıt kaç makas uzunluğundadır? (Cevap :)
- 6.) Kareli kağıt kaç çivi uzunluğundadır? (Cevap :)
- 7.) Kareli kağıt kaç parmak uzunluğundadır? (Cevap :)
- 8.) Kareli kağıt kaç kalemlik uzunluğundadır? (Cevap :)
- 9.) Kareli kağıdın uzunluğu hangileriyle tam olarak ölçülmüştür?

.....
.....



UZUNLUK ÖLÇME

🐞 Aşağıdaki cümlelerde noktalı yere gelebilecek uzunluk ölçüm şeklinin çiçeğini boyayalım.

⭐ Sınıfımızdaki tahtanın uzunluğunu ile ölçmek daha kolaydır.

🌸 parmak

🌸 karış

⭐ Kibrit çöpünün uzunluğunu ile ölçebiliriz.

🌸 parmak

🌸 kulaç

⭐ Kitabımızın boyunu ile ölçmek daha kolaydır.

🌸 karış

🌸 adım

⭐ Silgimizin uzunluğunu ile ölçebiliriz.

🌸 ayak

🌸 parmak

⭐ Bahçe duvarının uzunluğunu ile ölçmek daha kolaydır.

🌸 adım

🌸 ayak

⭐ Annemizin aldığı kumaşın uzunluğunu ile ölçmek daha doğrudur.

🌸 kulaç

🌸 adım

⭐ Pencerenin genişliğini ile ölçmek daha kolaydır.

🌸 adım

🌸 karış

⭐ Bir çivini uzunluğunu ile ölçebiliriz.

🌸 parmak

🌸 karış

⭐ Sınıfımızın kapısının genişliğini ile ölçmek daha kolaydır.

🌸 ayak

🌸 kulaç

⭐ Okulumuzdaki koridorun uzunluğunu ile daha çabuk ölçeriz.

🌸 ayak

🌸 adım



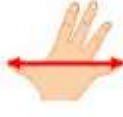


UZUNLUK ÖLÇME

🐞 Aşağıdaki verilen ölçüm araçlarına ilişkin resimlerle isimlerini eşleştirelim.



A



B



C



D



E

... Parmak

... Ayak

... Karış

... Adım

... Kulaç

🐞 Aşağıda verilen ifadeler doğruysa "Doğru"nun altındaki harfi yanlışsa "Yanlış"ın altındaki harfi boyayalım. Boyadığımız harfleri sırayla şifre

- ◇ Kürdanın boyunu parmakla ölçebiliriz.
- ◇ Herkesin karış uzunluğu eşittir.
- ◇ Yatak çarşafımızın boyunu kulaçla ölçmek daha kolaydır.
- ◇ Bahçe duvarının uzunluğunu adım ile ölçmek doğrudur.
- ◇ Basketbol sahasının uzunluğunu ayak ile daha çabuk ölçeriz.
- ◇ Kanepenin uzunluğunu parmakla ölçmek en doğru yoldur.
- ◇ Sıramızın uzunluğunu kalemle ölçebiliriz.
- ◇ Defterimizin boyunu silgi ile ölçebiliriz.
- ◇ Kulaç karıştan kısadır.
- ◇ Kitabımızın kalınlığını parmakla ölçebiliriz.
- ◇ Yatağımızın boyunu kitapla ölçebiliriz.
- ◇ Ayak adımdan uzundur.

Doğru Yanlış

K

S

E

İ

T

M

A

İ

R

P

U

O

K

R

Y

T

E

A

L

O

İ

Ü

H


M

ŞİFRE:

... .. U



UZUNLUK ÖLÇME

 Aşağıdaki verilen ölçümlerle ilgili önce tahminlerimizi yazalım. Sonra ölçüm yaparak gerçek sonuçları yazalım.



TAHMİN

ÖLÇÜM
SONUCU

Kanepenin uzunluğu kaç ayaktır?

.....

.....

Televizyonun uzunluğu kaç karıştır?

.....

.....

Çay kaşığının boyu kaç parmaktır?

.....

.....

Misafir odasının uzunluğu kaç adımdır?

.....

.....

Masanızın uzunluğu kaç kalemdir?

.....

.....

Buzdolabının uzunluğu kaç ders kitabıdır?

.....

.....

Kapının genişliği kaç ayaktır?

.....

.....

Balkonunuzun uzunluğu kaç adımdır?

.....

.....

Çivinin uzunluğu kaç parmaktır?

.....

.....

Yatak çarşafınızın uzunluğu kaç kulaçtır?

.....

.....

Buzdolabının genişliği kaç karıştır?

.....

.....

Mutfak tezgahının uzunluğu kaç ders kitabıdır?

.....

.....