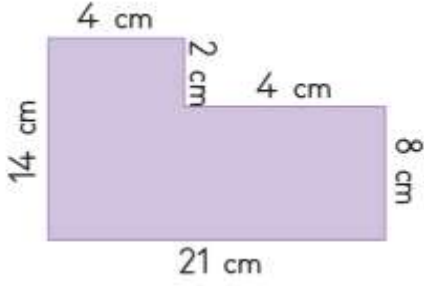


Adı :
Soyadı:


3. Sınıf Matematik

Çevre Ölçme Yaprak Test-1



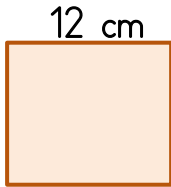
1 Yukarıdaki şeklin çevresi kaç cm'dir.

- (A) 53 cm (B) 51 cm (C) 55 cm



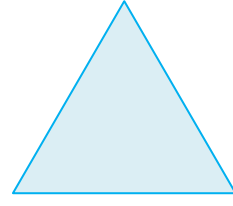
2 Yukarıdaki şekilde her karenin uzunluğu 3 metre olduğuna göre şeklin çevresi kaç metredir?

- (A) 81 m (B) 75 m (C) 78 m



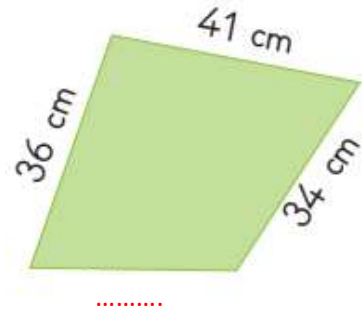
3 Yukarıda verilen karenin çevresinin 3 katı hangisidir?

- (A) 136 cm (B) 140 cm (C) 144 cm



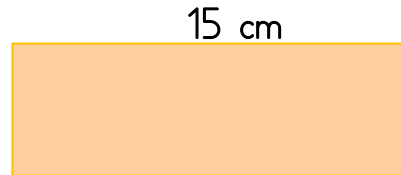
4 Yukarıda verilen üçgenin bütün kenarları eşittir. Üçgenin çevresi 45 cm olduğuna göre bir kenarının uzunluğu ne kadardır?

- (A) 13 cm (B) 15 cm (C) 20 cm



5 Yukarıdaki şeklin çevresi 138 cm olduğuna göre bilinmeyen kenarın uzunluğu kaç cm'dir?

- (A) 27 cm (B) 28 cm (C) 29 cm




6 Yukarıdaki dikdörtgenin çevresi 50 cm olduğuna göre kısa kenarının uzunluğu kaç cm'dir?

- (A) 12 cm (B) 10 cm (C) 9 cm

Adı :
Soyadı:

3. Sınıf Matematik

Çevre Ölçme Yaprak Test-1



7 Yukarıdaki kare ve dikdörtgenin çevresi birbirine eşittir. Dikdörtgenin uzun kenarı 25 cm, kısa kenarı 15 cm'dir. Karenin bir kenar uzunluğu kaç cm'dir?

- (A) 20 cm (B) 15 cm (C) 18 cm



8 Poyraz evin kısa kenarını 20 adım ölçmüştür. Evin uzun kenarı kısa kenarından 5 metre fazladır. Poyraz'ın bir adımı 40 cm olduğuna göre evin çevresi kaç metredir?

- (A) 38 m (B) 40 m (C) 42 m



9 Yukarıdaki şekillerden hangisinin çevresi diğerlerinden daha uzundur?

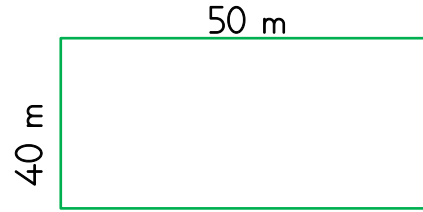
- (A) Kare (B) Dikdörtgen (C) Altıgen

30 m



10 Dikdörtgen şeklindeki tarlanın çevresine 3 sıra tel örgü çekilmiştir. Tel örgünün 1 metresi 3 TL olduğuna göre ne kadar harcama yapılmıştır?

- (A) 900 TL (B) 800 TL (C) 950 TL



11 Yukarıda tarlanın çevresine 3'er metre aralıklarla elma ve armut ağacı dikilmiştir. 32 tane elma ağacı dikildiğine göre kaç tane armut ağacı dikilmiştir?

- (A) 30 (B) 29 (C) 28

Doğru :.....

Yanlış:.....

- | | | | |
|---|-------------|----|-------------|
| 1 | (A) (B) (C) | 7 | (A) (B) (C) |
| 2 | (A) (B) (C) | 8 | (A) (B) (C) |
| 3 | (A) (B) (C) | 9 | (A) (B) (C) |
| 4 | (A) (B) (C) | 10 | (A) (B) (C) |
| 5 | (A) (B) (C) | 11 | (A) (B) (C) |
| 6 | (A) (B) (C) | 12 | (A) (B) (C) |

Adı :

Soyadı:

3. Sınıf
Matematik

Çevre Ölçme
Yaprak Test-1

Doğru :

Yanlış:.....

- | | | | | | | | |
|---|------------------------------------|------------------------------------|------------------------------------|----|------------------------------------|------------------------------------|------------------------------------|
| 1 | <input checked="" type="radio"/> A | <input type="radio"/> B | <input type="radio"/> C | 7 | <input checked="" type="radio"/> A | <input type="radio"/> B | <input type="radio"/> C |
| 2 | <input type="radio"/> A | <input type="radio"/> B | <input checked="" type="radio"/> C | 8 | <input type="radio"/> A | <input type="radio"/> B | <input checked="" type="radio"/> C |
| 3 | <input type="radio"/> A | <input type="radio"/> B | <input checked="" type="radio"/> C | 9 | <input type="radio"/> A | <input checked="" type="radio"/> B | <input type="radio"/> C |
| 4 | <input type="radio"/> A | <input checked="" type="radio"/> B | <input type="radio"/> C | 10 | <input checked="" type="radio"/> A | <input type="radio"/> B | <input type="radio"/> C |
| 5 | <input checked="" type="radio"/> A | <input type="radio"/> B | <input type="radio"/> C | 11 | <input type="radio"/> A | <input type="radio"/> B | <input checked="" type="radio"/> C |
| 6 | <input type="radio"/> A | <input checked="" type="radio"/> B | <input type="radio"/> C | 12 | <input type="radio"/> A | <input type="radio"/> B | <input type="radio"/> C |