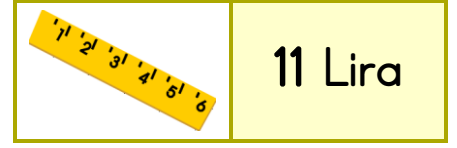
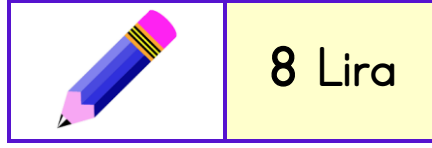
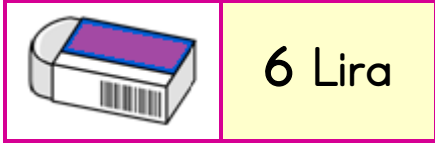


1. SINIF MATEMATİK - 2. DÖNEM **TEKRAR ETKİNLİĞİ** - 8

✚ Aşağıdaki problemleri çözünüz.



Silgi ve kalem alırsam kaç lira ödemem gerekir?



Çözüm:

Kalem ve cetvel alırsam kaç lira ödemem gerekir?



Çözüm:

Cetvel ve silgi alırsam kaç lira ödemem gerekir?



Çözüm:

✚ Üçlü toplamaları yapınız.

$8 + 3 + 5 =$

$3 + 6 + 8 =$


$2 + 3 + 9 =$

$9 + 2 + 1 =$


$4 + 4 + 5 =$

$6 + 2 + 5 =$


✚ Verilen saatlere akrep ve yelkovan çiziniz.




06.00




10.30



04.00



08.30



11.00

✚ Tablolardaki eksik günleri yazınız.

1	2	3	4	5	6	7
Pazartesi						Pazar

1	2	3	4	5	6	7
	Salı			Cuma		


✚ Şekillerle alakalı boşlukları doldurunuz.



Benim adım
..... kenarım, köşem var.



Benim adım
..... kenarım, köşem var.



Benim adım
..... kenarım, köşem var.



Benim adım
Köşem ve kenarım

✚ Aşağıdaki örüntüleri iki adım ilerletiniz.



✚ 1/A sınıfında en sevilen spor dalları belirlenmiştir.

SPORLAR	ÖĞRENCİ SAYISI
Futbol	9
Basketbol	5
Voleybol	3
Yüzme	2

❖ En çok söylenen spor dalı hangisidir? →

❖ En az söylenen spor dalı hangisidir? →

❖ Futbol ile yüzme severlerin farkı kaçtır? →

❖ Bu sınıfta toplam kaç öğrenci vardır? →