

DENİZ KULAĞI - ÖLÜDENİZ

Önce adının neden böyle olduğunu anlatayım. Babamın yolda anlattıklarına göre; Ölüdeniz, Muğla ilinin Fethiye ilçesinde bulunuyor. Biliyor musun Ölüdeniz, Muğla'nın en sakin deniziymiş. Gidince kendim de gördüm. Sanki göl gibi durgun. Hatta en fırtınalı günlerde bile azıcık dalgalanırmış deniz. O kadar! Bu yüzden adı Ölüdeniz. Biliyor musun, Ürdün'de de bir Ölüdeniz varmış. Adı Lut Gölü'ymüş ve burası da dünyanın en alçak yeriymiş. Çünkü bu göl deniz seviyesinin tam 400 metre altında bulunuyormuş.

Ölüdeniz'in en güzel şeylerinden biri de yamaç paraşütü! Normal paraşüt gibi ama yüksek yamaçlardan aşağı süzülerek yapıyor. Çok heyecanlı olsa gerek. Henüz yaşım küçük olduğu için ben yapamadım. Fethiye, muhteşem bir tarihî mirasa sahip! Tarihi çok eskilere dayanıyor. Taa Likyalılar dönemine. O zamanlarda buraya Güneş ve Işık Diyarı adı verilmiş. Burada Likyalılardan ve Romalılardan kalan birçok tarihî eser var...


1 ve 2. soruları yukarıdaki metne göre cevaplayınız.

1. Ölüdeniz hangi ilimizde bulunuyor?



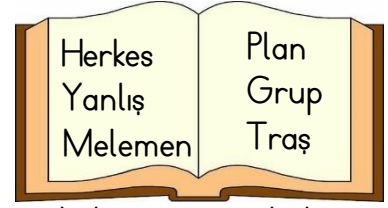
Ömer USLU

2. Aşağıdakilerden hangisi metne göre uygun bir görsel olabilir?



3. "Onu bu düşüncesinden hiç kimse vazgeçiremez." cümlesinde sözü edilen kişi için aşağıdakilerden hangisi söylenebilir?

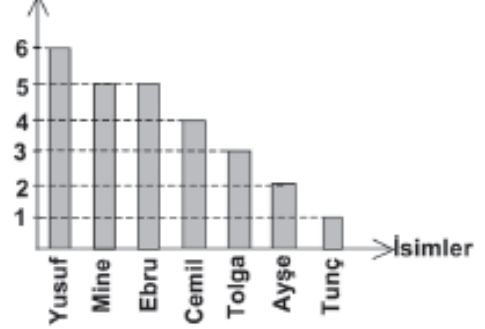
- a) Geveze b) Korkak c) İnatçı



4. Mehmet, babasının söylediği sözcükleri defterine yazmıştır. Doğru yazdığı kelimeler için 4 puan alacak, yanlış yazdığı kelimeler için ise 2 puanı silinecektir. Mehmet'in toplam kaç puanı olmuştur?

- a) 8 b) 6 c) 4

Kitap Sayısı



5.

Grafiğe göre, aşağıda verilen bilgilerden hangisi yanlıştır?

- a) Ayşe, Cemil'den daha az kitap okumuştur.
b) Mine ve Ebru eşit sayıda kitap okumuşlardır
c) Tunç, Tolga'dan daha fazla kitap okumuştur.

6.

() Eskişehir'i gezdin mi?


() Evet, gezdim ve çok beğendim.

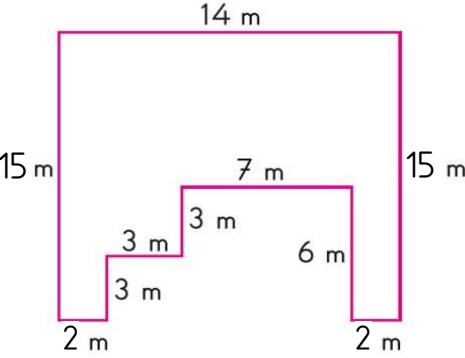
Yay araç () ile belirtilen yerlere hangi noktalama işareti konmalıdır?

- a) : b) ! c) -


7. Aşağıdaki kelimeler alfabetik sıraya göre dizildiğinde hangisi en sonda yer alır?


- a) Kalp b) Kalem c) Kalın

8.  Yanda verilen kare şeklindeki bir bahçenin çevresine 3 sıra tel çektüğümüzde toplam kaç metre tele ihtiyacımız olur?
- a) 64 b) 192 c) 198

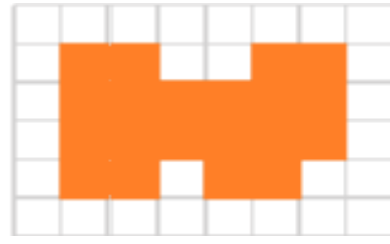
9.  Yandaki şeklin çevre uzunluğu kaç cm'dir?
- a) 62 b) 68 c) 70

10. Bir kenarı 37 cm olan eşkenar üçgenin çevresi kaç cm'dir?
- a) 111 b) 74 c) 148

11.  Yandaki dikdörtgenin çevre uzunluğu kaç cm'dir?
- a) 22 b) 44 c) 46

12.  Yukarıda mutfak duvarının fayansları döşenmektedir. Duvarın tamamlanabilmesi için kaç fayansa daha ihtiyaç vardır?
- a) 8 b) 10 c) 12

13. Çevresinin uzunluğu 92 metre olan kare şeklindeki bir havuzun bir kenarının uzunluğu kaç metredir?
- a) 46 b) 42 c) 23



1 birim.

14. Yukarıdaki verilen şeklin kapladığı alan kaç birimdir?
- a) 20 b) 19 c) 18
15. Aşağıdakilerden hangisi elektrik kaynağı değildir?
- a) batarya b) petrol c) akü
16. Aşağıda araçların çalışmasıyla ilgili olarak hangi eşletirmede yanlışlık yapılmamıştır?
- a) Çamaşır makinesi → Şehir elektriği
b) Araba farı → Pil
c) Saat → Akü
17. Aşağıdakilerden hangisi birkaç pilin bir araya gelmesiyle oluşan elektrik kaynağıdır?
- a) batarya b) akü c) pil
18. Verilen bilgilerden hangisi yanlıştır?
- a) İnsanlar doğal çevrenin bir parçası değildir.
b) Tarım yapılan alanlarda fazla tarım ilacı ve gübre kullanılması toprağı ve suyu kirletir.
c) Çevre dostu yakıtlar kullanılmalıdır.

19. Aşağıdaki hayvanlardan hangisinin nesli tükenme tehlikesi yoktur?
- a) kelaynak kuşları b) caretta caretta
c) güvercin
20. Aşağıdaki görsellerden hangisi hava kirliliğini anlatmaz?



a)



b)



c)

CEVAPLAR

Adı Soyadı:

- | | | | | | | | |
|----|---|---|---|----|---|---|---|
| 1 | A | B | C | 11 | A | B | C |
| 2 | A | B | C | 12 | A | B | C |
| 3 | A | B | C | 13 | A | B | C |
| 4 | A | B | C | 14 | A | B | C |
| 5 | A | B | C | 15 | A | B | C |
| 6 | A | B | C | 16 | A | B | C |
| 7 | A | B | C | 17 | A | B | C |
| 8 | A | B | C | 18 | A | B | C |
| 9 | A | B | C | 19 | A | B | C |
| 10 | A | B | C | 20 | A | B | C |

CEVAPLAR

Adı Soyadı:

- | | | | | | | | |
|----|---|---|---|----|---|---|---|
| 1 | A | B | C | 11 | A | B | C |
| 2 | A | B | C | 12 | A | B | C |
| 3 | A | B | C | 13 | A | B | C |
| 4 | A | B | C | 14 | A | B | C |
| 5 | A | B | C | 15 | A | B | C |
| 6 | A | B | C | 16 | A | B | C |
| 7 | A | B | C | 17 | A | B | C |
| 8 | A | B | C | 18 | A | B | C |
| 9 | A | B | C | 19 | A | B | C |
| 10 | A | B | C | 20 | A | B | C |

CEVAPLAR

Adı Soyadı:

- | | | | | | | | |
|----|---|---|---|----|---|---|---|
| 1 | A | B | C | 11 | A | B | C |
| 2 | A | B | C | 12 | A | B | C |
| 3 | A | B | C | 13 | A | B | C |
| 4 | A | B | C | 14 | A | B | C |
| 5 | A | B | C | 15 | A | B | C |
| 6 | A | B | C | 16 | A | B | C |
| 7 | A | B | C | 17 | A | B | C |
| 8 | A | B | C | 18 | A | B | C |
| 9 | A | B | C | 19 | A | B | C |
| 10 | A | B | C | 20 | A | B | C |

1.	B	6.	C	11.	B	16.	A
2.	A	7.	A	12.	C	17.	A
3.	C	8.	B	13.	C	18.	A
4.	A	9.	C	14.	A	19.	C
5.	C	10.	A	15.	B	20.	C

Ömer USLU