

1. SINIF MATEMATİK - 2. DÖNEM **TEKRAR ETKİNLİĞİ** - 9

✚ Aşağıdaki alıştırmaları yapınız.


$\begin{array}{r} 7 \\ + 4 \\ \hline \end{array}$	$\begin{array}{r} 5 \\ + 6 \\ \hline \end{array}$	$\begin{array}{r} 8 \\ + 9 \\ \hline \end{array}$	$\begin{array}{r} 12 \\ + 7 \\ \hline \end{array}$	$\begin{array}{r} 18 \\ + 4 \\ \hline \end{array}$	$\begin{array}{r} 2 \\ + 15 \\ \hline \end{array}$
$\begin{array}{r} 4 \\ - 3 \\ \hline \end{array}$	$\begin{array}{r} 2 \\ - 2 \\ \hline \end{array}$	$\begin{array}{r} 7 \\ - 5 \\ \hline \end{array}$	$\begin{array}{r} 10 \\ - 2 \\ \hline \end{array}$	$\begin{array}{r} 13 \\ - 8 \\ \hline \end{array}$	$\begin{array}{r} 20 \\ - 8 \\ \hline \end{array}$

✚ Aşağıdaki problemleri çözünüz.

1 Ufuk 14 yaşındadır. Ali, Ufuk'tan 6 yaş küçüktür. Ali kaç yaşındadır? →

2 Ben 7 balık tuttum. Babam 11 balık tuttu. Toplam kaç balık tuttuk? →

✚ Varlıkların altına **bütün** veya **yarım** yazınız.

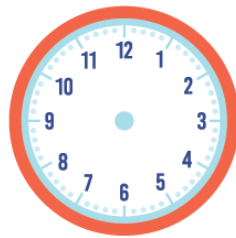









✚ Okunuşları verilen saatlerin akrep ve yelkovanlarını çiziniz.



→ Saat yedi

→ Dokuz buçuk

→ Saat on bir

→ İki buçuk

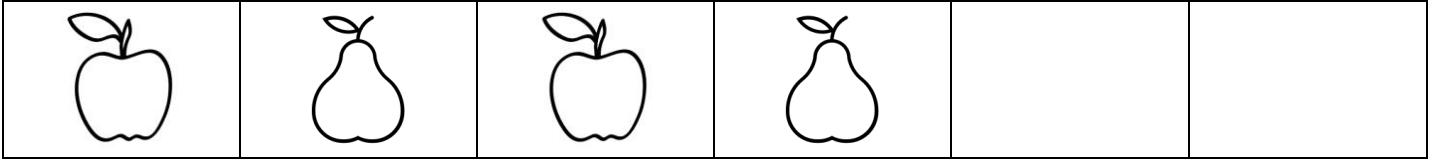
✚ Haftanın günlerini sırayla yazınız.

1.	2.	3.	4.	5.	6.	7.

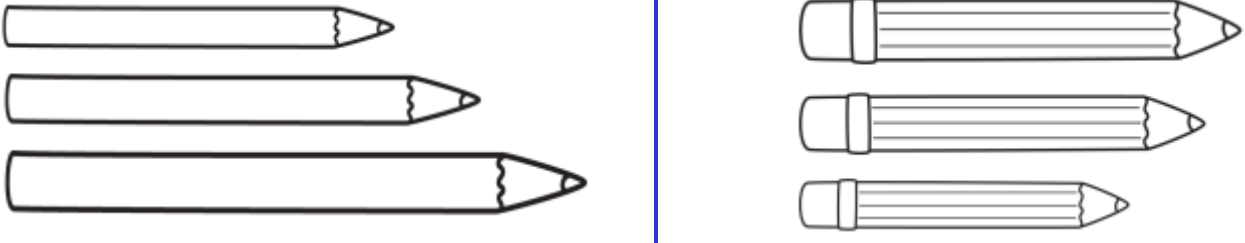
✚ Yılın aylarını sırayla yazınız.

1.	2.	3.	4.	5.	6.
7.	8.	9.	10.	11.	12.

✚ Örüntülerde boş bırakılan yerlere uygun nesnelere çiziniz.



✚ En uzun kalemleri maviye, en kısa kalemleri pembeye boyayınız.



✚ 1/A sınıfında yapılan başkanlık seçiminin sonuçları alttadır.

	ALINAN OYLAR							
Zeynep	★	★	★	★	★	★	★	
Altan	★	★	★	★	★			
Mustafa	★	★	★	★	★	★		

- | | | |
|-------------------------------------|---|--|
| ❖ En az oyu kim almıştır? | → | |
| ❖ Hangi öğrenci başkan seçilmiştir? | → | |
| ❖ Bu sınıf toplam kaç kişidir? | → | |