



## HECE KAVRAMI

☼ Aşağıdaki kelimelerin hece sayılarını bulunuz. Örnekteki gibi aynı hece sayısına sahip kelimeler yazınız.

kulaklık	3
arkadaş	

yemiş	....
.....	

pist	....
.....	

cesur	....
.....	

karışık	....
.....	

turta	....
.....	

oduncu	....
.....	

beş	....
.....	

karasinek	....
.....	

tekerleme	....
.....	

oyun	....
.....	

şiir	....
.....	

soluk	....
.....	

tornavida	....
.....	

kaleci	....
.....	

menekşe	....
.....	

yurt	....
.....	

simit	....
.....	

oda	....
.....	

neşe	....
.....	

balık	....
.....	

unutkan	....
.....	

tecrübeli	....
.....	

gol	....
.....	



## YAZIM YANLIŞLARI

☀ Aşağıdaki cümlelerdeki yazım yanlışlarını düzelterek altına cümleyi tekrar yazalım.

dün mersine çok yağmur yağmış.

Sılanın Babası çok iyi almanca konuşur.

Ozanın kuşu geveze çok tatlı.

Fatmanın Dayısı italyada yaşıyor.

parkta kayra Köpeğini gezdiriyordu.

Babam çomara yeni tasma almış.

Koray 13 eylül 2017'de konyada doğmuş.

kütüphaneye giderken taner ve şenayı gördüm.

Akşam jale, Anne'sine yardım etti.

Kemal önce denizliye, sonra aydına gitmiş.

Umutun Dedesinin köyü çok güzel.

## CÜMLE ANLAMA ETKİNLİĞİ

Cümlelerle ilgili verilen soruları cevaplayalım.

Babam yüzmeyi çok sever. Her pazar iki saat arkadaşlarıyla yüzer.

1. Babası neyi sever ?

2. Babası ne zaman yüzer ?

3. Babası kiminle yüzer ?

Kenan ve Ömer sinemaya gittiler. Film izlerken mısır yediler. İzledikleri film çok komikti.

1. Kim sinemaya gitti ?

2. Film izlerken ne yediler ?

3. İzledikleri film nasıldı ?

Hande ve annesi pazara gitmişler. Pazardan sebze ve meyve almışlar.

1. Kim pazara gitmiş ?

2. Pazardan ne almışlar ?

3. Nereden sebze ve meyve almışlar ?





## MİNİK FARELER

Bir zamanlar katlı bahçeli evde minik fareler mutlu mesut yaşarlarmış. Bu farelerin başına bela olan "Karabela" adında bir kedi varmış. Karabela, minik fareleri adeta canından bezdirmiş. Farelerin dolaşmasına, yemek bulmasına müsaade etmiyormuş. Minik fareler neredeyse açlıktan tahtaları kemirmeye başlayacaklarmış. Minik fareler bu durumdan kurtulmak toplantı yapmaya karar vermişler. Minik fareler Karabela'nın evde olmadığı bir gün, Karebela'dan kurtulmanın yollarını konuşmuşlar. İlk önce aralarında bir başkan seçmeye karar vermişler. Evdeki en yaşlı ve bilge fareyi başkan seçmişler.

Minik fareler ne yapabileceklerini sesli düşünmeye başlamışlar, haliyle her kafadan bir ses çıkmış. Bilge başkanları Karabela'nın boynuna çingirak takma fikrini söylemiş. Kediye takılı olan çingırağın sesini duyduklarında tedbirlerini alarak deliklerine saklanacaklarmış. Bütün fareler bu öneriyi beğenmişler. Ancak çingırağı kedinin boynuna kimin asacağı sorunu ortaya çıkmış. Toplantıda büyük bir sessizlik olmuş. Korkusuz küçük bir fare çingırağı takabileceğini söylemiş.

Bir gün kedi yerdeki minderde uyuyormuş. Kedinin uykusu çok ağırmış. Küçük fare sessizce çingırağın ipini kedinin boynuna bağlamış. Diğer fareler küçük fareyi cesaretinden dolayı tebrik etmişler. Fareler çingırağın sayesinde daha rahat yaşamışlar.

☆ Aşağıdaki soruları metne göre cevaplayalım.

1. Fareler nerede yaşıyormuş?

2. Farelerin başına kim bela olmuş?

3. Karabela neye müsaade etmiyormuş?

4. Fareler kimi başkan seçmiş?

5. Fareler çingırağın sesini duyduklarında ne yapacaklarmış?

6. Fareler küçük fareyi niçin tebrik etmişler?



## SIVILARI ÖLÇME

☆ Aşağıda verilen maddelerden sıvı olanların çiçeğini boyayalım.




Ayran




Bulgur



Limonata



Tuz



Su



Sirke



Taş



Mazot



kaşık



Çamaşır suyu



Meyve suyu



Toprak



Ayçiçek yağı



Kolonya



Pirinç



Silgi



Fındık



Elma




Kola



Gazoz

☆ Aşağıdaki sürahilerdeki sıvı miktarlarını inceleyelim. Noktalı yerleri dolduralım.



1. En fazla sıvı ..... numaralı sürahidedir.

2. En az sıvı ..... numaralı sürahidedir.

3. 3 Numaralı sürahideki sıvı 1 numaralı sürahideki sıvıdan ..... (azdır/çoktur)

4. 2 Numaralı sürahideki sıvı 5 numaralı sürahideki sıvıdan ..... (azdır/çoktur)

5. 4 Numaralı sürahideki sıvı 5 numaralı sürahideki sıvıdan ..... (azdır/çoktur)

6. Sürahileri sıvı miktarlarına göre çoktan aza doğru sıralayalım.

..... - ..... - ..... - ..... - .....








7. Sürahileri sıvı miktarlarına azdan çoğa doğru sıralayalım.

..... - ..... - ..... - ..... - .....



## SIVILARI ÖLÇME

☆ Aşağıdaki eşya çiftlerini karşılaştıralım. Fazla sıvı alanın çiçeğini kırmızıya, az sıvı alanın çiçeğini maviye boyayalım.





## SIVILARI ÖLÇME

☆ Noktalı yerleri aşağıdaki resimlerdeki eşyalara göre doğru şekilde cevaplayıp boşlukları dolduralım.



a) En fazla suyu hangi eşya alır?

.....

b) En az suyu hangi eşya alır?

.....

c) Su bardağı .....dan az su alır.

d) Su bardağı .....dan fazla su alır.

e) ..... su bardağından az su alır.

f) ..... su bardağından ve fincandan fazla su alır.

g) ..... su bardağından ve kovadan az su alır.



a) En fazla suyu hangi eşya alır?

.....

b) En az suyu hangi eşya alır?

.....

c) Sürahi .....dan az su alır.

d) Sürahi .....tan fazla su alır.

e) ..... sürahiden az su alır.

f) ..... sürahiden ve çaydanlıktan fazla su alır.

g) ..... sürahi ve damacanadan az su alır.

