

Adı :
Soyadı:

3. Sınıf
Hayat Bilgisi

Doğada Hayat
Ünite Değerlendirme-1

Bitkiler olmasaydı;

- I- İnsanlar yaşayamazdı.
- II- Yaşayan bütün hayvanların nesli tükenirdi.
- III-Dünyada çevre kirliliği olmazdı.

1 Yukarıda verilen bilgilerden hangileri doğrudur?

- A) I-II B) II-III C) Sadece I



Yanda verilen hayvanın
*Etinden
*Sütünden
*Gücünden
faydalanırız.


2 Verilen bilgilere göre yukarıdaki kutu içine hangi hayvanın resmi konulamaz?



Antalya ilinin iklimi yaz mevsimi sıcak, kış mevsiminde ılık geçmektedir. Bu nedenle Antalya'da daha çok yaz mevsiminin meyve ve sebzeleri bol yetişmektedir.

3 Yukarıda verilen bilgilere göre Antalya'da hangisi daha çok yetişmektedir?

- A) Lahana B) Domates C) Ispanak



4 Yukarıdaki görsellerde bir bitkinin büyüme aşamaları karışık verilmiştir. Büyüme aşamaları doğru sıralanırsa 3. aşama için hangisini söyleyebiliriz?

- A) Kökleri yeni çıkmıştır, ancak yaprakları çıkmamıştır.
B) Kökleri çok uzamış ve yaprakları çoğalmıştır.
C) Kökleri uzamış, yaprakları yeni çıkmıştır.

Metin akşam vakti güneş batmak üzere iken önünü güneşe doğru dönmüştür.

5 Yukarıdaki bilgiye göre Metin'in sağ kolu hangi yönü göstermektedir?

- A) Kuzey B) Doğu C) Güney

6 Aşağıdakilerden hangisi farklı bir yönü göstermektedir?

- A) Karınca yuvalarının ağzının olduğu yön
B) Ağaç yosunlarının olduğu yön
C) Kutup yıldızının olduğu yön

Adı :
Soyadı:

3. Sınıf
Hayat Bilgisi

Doğada Hayat
Ünite Değerlendirme-1


7 Aşağıdakilerden hangisi insanların doğal çevreye verdiği **olumsuz** etkilerden biridir?

- A) Ormanlık alanların tarla yapılması
B) Şehir merkezlerinde yol kenarlarına ağaçlar dikilmesi
C) Nesli tükenmek üzere olan hayvanları koruma altına almak.

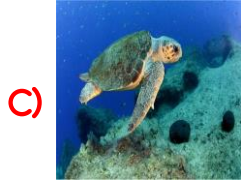
8 Aşağıdaki canlılardan hangileri nesli tükenmek üzere olduğundan koruma altına alınmıştır?



Afrika Fili



Koyun



Caretta
Caretta

Bir yerde yaşayan insanların sayısı arttığı zaman ev yapmak, yol yapmak, işyeri açmak, tarla açmak gibi nedenlerle doğaya zarar vermektedirler.

9 Yukarıdaki paragrafa göre insanların doğaya zarar vermesinin **en önemli nedeni** hangisidir?

- A) Tarlalara yaşamak için evler yapması
B) Yaşayan insanların sayısının artması
C) Şehirler arası ulaşım için yollar yapmak.

9 Aşağıdakilerden hangisi doğayı ve çevreyi korumak için kurulmuş sivil toplum kuruluşlarından biri **değildir**?

- A) ÇEKÜL B) ÇEVKO C) AFAD

Ağaçlandırma yapmak birçok doğal afetin oluşmasını ya önler ya da zararını azaltır.

10 Aşağıdakilerden hangisi ağaçların önleyeceği doğal afetlerden biri **değildir**?

- A) Sel B) Erozyon C) Orman Yangını

11 Aşağıdakilerden hangisini çöp kutusuna değil, geri dönüşüm kutusuna atmak gerekir?

- A) Bilgisayar bataryası
B) Meyve kabukları
C) Çürümüş sebze yaprakları

12 Aşağıdakilerden hangisini geri dönüşümü açıklamaktadır?

- A) Kırılan ürünlerin yeniden tamir edilmesi
B) Atık ürünlerden yeni ürün yapılması
C) Çöplerin toplanarak fabrikalara götürülmesi

Adı :

Soyadı:

3. Sınıf
Hayat Bilgisi

Doğada Hayat
Ünite Değerlendirme-1

- 1 A B C
2 A B C
3 A B C
4 A B C

- 5 A B C
6 A B C
7 A B C
8 A B C

- 9 A B C
10 A B C
11 A B C
12 A B C

- 13 A B C
14 A B C
15 A B C
16 A B C

- 1 A B C
2 A B C
3 A B C
4 A B C

- 5 A B C
6 A B C
7 A B C
8 A B C

- 9 A B C
10 A B C
11 A B C
12 A B C

- 13 A B C
14 A B C
15 A B C
16 A B C