

Adı :
Soyadı:

3. Sınıf Matematik

Sıvıları Ölçme Yaprak Test-1



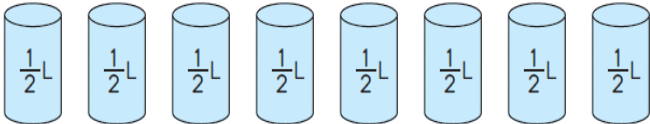
1 Yukarıdaki sıvı yağlar yarım litrelik pet şişelere koyup satılacaktır. Kaç tane yarım litrelik şişeye ihtiyaç vardır?

- (A) 33 (B) 66 (C) 50

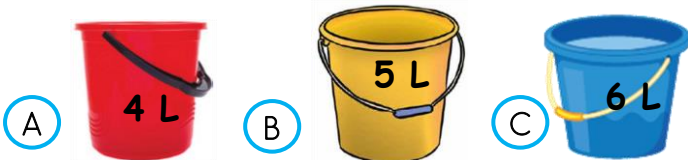


2 Sınıf pikniğimize içinde yarım litrelik meyve suları olan 2 kutu meyve suyu götürdük. Piknikte 15 litresini içtik. Geriye ne kadar meyve suyumuz kaldı?

- (A) 15 L (B) 27 L (C) 12 L



3 Yukarıda verilen sıvıların hepsi hangi kovaya boşaltılırsa kovayı tamamen doldurur?



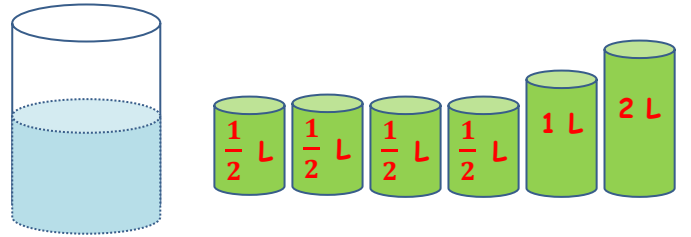
4 Betül yaş günü için 24 tane yarım litrelik meyve suyu alacaktı. Ancak yarım litrelik kalmadığı için yerine 2 litrelik meyve suyu almak zorunda kaldı. Betül kaç tane 2 litrelik meyve suyu almıştır?

- (A) 6 (B) 12 (C) 8



5 Yarım litrelik pet şişe ile yukarıdaki kovanın $\frac{1}{4}$ 'i dolduruluyor. Kovanın tamamı 24 litre su aldığına göre geri kalanını doldurmak için kaç defa pet şişe boşaltılması gerekir?

- (A) 18 (B) 36 (C) 48



6 Yukarıda verilen yeşil kaplardaki sular mavi kaba boşaltılınca ancak yarısı dolabiliyor. Kovanın tamamının dolması için yarım litrelik kaplardan kaç tane daha gerekir?

- (A) 5 (B) 20 (C) 10

Adı :
Soyadı:

3. Sınıf Matematik

Sıvıları Ölçme Yaprak Test-1

7 Aşağıdaki çevirmelerden hangisi yanlıştır?

- (A) 5 L = 10 yarım litre
(B) 8 yarım litre = 16 L
(C) 12 L = 24 yarım litre

8 Aşağıdaki sıvı miktarlarından hangisinin toplamı 1 L ve 1 litreden fazla olabilir?


- (A) yarım litreden az + yarım litre
(B) yarım litreden az + yarım litreden az
(C) yarım litreden fazla + yarım litreden az



9 Görseldeki adam arabasına 8 litre yakıt alınca deposunun sadece $\frac{1}{4}$ 'i doluyor.

Deposunun tamamını doldursaydı kaç lira ödemesi gerekirdi?

- (A) 800 TL (B) 200 TL (C) 600 TL



10 Yukarıdaki su deposunda bulunan suyun $\frac{1}{5}$ 'i ile çiçekleri suladık.

Ağaçları sulamak için de 25 litre suyu kullandık. Depoda ne kadar su kalmıştır?

- (A) 50 L (B) 55 L (C) 60 L



11 Bir köylü, inekten her gün 12 litre süt sağmaktadır. Köylü sütleri yarım litrelik şişelere koyarak tanesini 4 liradan satmaktadır. Köylü 3 günde ne kadar para kazanır?

- (A) 302 TL (B) 296 TL (C) 288 TL



12 14 tane nar sıkıldığında 2 litre nar suyu elde edilmektedir. 5 litre nar suyu için kaç tane nar sıkmamız gerekir?

- (A) 35 (B) 28 (C) 70

Adı :

Soyadı:

3. Sınıf
Matematik

Sıvıları Ölçme
Yaprak Test-1

Doğru :

Yanlış:

- 1 A B C
2 A B C
3 A B C
4 A B C
5 A B C
6 A B C

- 7 A B C
8 A B C
9 A B C
10 A B C
11 A B C
12 A B C