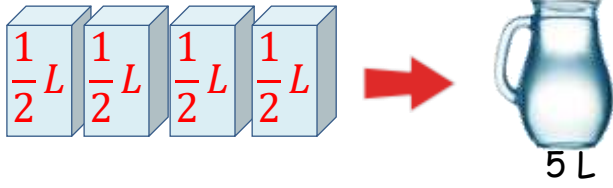


Adı :
Soyadı:

3. Sınıf Matematik

Sıvıları Ölçme Yaprak Test-2

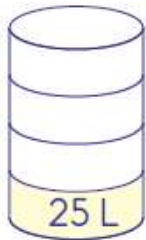


1 Yukarıdaki meyve suları 5 litrelik sürahinin içine boşaltılıyor. Sürahinin dolması için kaç tane 1 litrelik meyve suyu boşaltılmalıdır?

- (A) 3 (B) 6 (C) 10

2 Aşağıdaki çevirmelerden hangisi **yanlıştır**?

- (A) 10 L = 5 yarım litre
(B) 12 yarım litre = 6 L
(C) 28 yarım litre = 14 L



3 Yukarıdaki varilin sadece $\frac{1}{4}$ 'i sıvı ile doludur. Varilin geri kalanını doldurmak için kaç tane yarım litrelik sıvı gerekir?

- (A) 300 (B) 75 (C) 150

4 Yukarıdaki 3 bidon kolonya yarım litrelik şişelere paylaştırılıyor. Kaç tane şişeye ihtiyaç vardır?

- (A) 260 (B) 130 (C) 65

5 80 L sirkenin $\frac{1}{5}$ 'i yarım litrelik, $\frac{1}{4}$ 'i 1 litrelik, geri kalanı 2 litrelik şişelere paylaştırılıyor. Kaç tane şişeye ihtiyaç vardır?

- (A) 80 (B) 74 (C) 84



6 Kırmızı kovadaki suyun yarısı sarı kovaya boşaltılıyor. Sarı kovanın tamamı 19 litre su aldığına göre sarı kovayı doldurmak için kaç litre daha su gerekir?

- (A) 10 L (B) 11 L (C) 8 L

Adı :
Soyadı:

3. Sınıf Matematik

Sıvıları Ölçme Yaprak Test-2



7 Yukarı yağların miktarları ve fiyatları yazılıdır. Aşağıdaki bilgilerden hangisi doğrudur?

- (A) A yağının 2 litresi 50 TL'dir.
(B) B yağının yarım litresi 12 TL'dir.
(C) C yağının 3 litresi 33 TL'dir.

8 Ege ve kardeşi her gün yarımşar litre, anne ve babası ise birer litre süt içmektedir. Sütün yarım litresi 5 TL olduğuna göre bu aile bir haftada ne kadar süt parası ödemektedir.

- (A) 210 TL (B) 180 TL (C) 200 TL



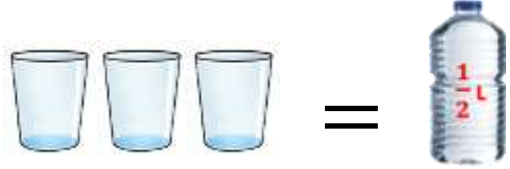
9 Yukarıdaki su deposu ile 12 büyük damacana ve 8 küçük damacana dolduruluyor. Depoda geriye 25 litre su kaldığına göre depoda ne kadar su vardı?

- (A) 352 L (B) 345 L (C) 337 L



10 Kovanın içinde bulunan sütü yarım litrelik, 1 litrelik ve 2 litrelik şişelere konulacaktır. **En çok** kaç şişeye koyabiliriz?

- (A) 36 (B) 40 (C) 38



11 Yukarıdaki görsele göre 3 litrelik su şişesini doldurmak için kaç bardak su gerekir?

- (A) 6 (B) 18 (C) 9

12 Bir köylü ineğinden her gün 8 L süt sağmaktadır. Sütleri yarım litrelik şişelere doldurarak tanesini 4 liraya satmaktadır. Bir haftada ne kadar para kazanır?

- (A) 368 TL (B) 224 TL (C) 448 TL

Adı :

Soyadı:

3. Sınıf
Matematik

Sıvıları Ölçme
Yaprak Test-2

Doğru :.....

Yanlış:.....

- 1 A B C
2 A B C
3 A B C
4 A B C
5 A B C
6 A B C

- 7 A B C
8 A B C
9 A B C
10 A B C
11 A B C
12 A B C