



Adı :
Soyadı:

2. Sınıf Matematik

Tartma-3


Annem pazardan kaç kg ürün satın almıştır?

| | | | |
|--|---|---|---|
|  |  |  |  |
| 2 kg | 6 kg | 2 kg | 3 kg |

| | | | |
|--|---|---|---|
|  |  |  |  |
| 3 kg | 5 kg | 4 kg | 2 kg |



Çocukların ağırlıklarını bulunuz.




25 kg

23 kg

30 kg

36 kg











Adı :
Soyadı:

2. Sınıf Matematik

Tartma-3

Ürünlerin 1 kg fiyatları yazılıdır.
Aşağıda istenenleri bulunuz.

| | | | |
|--|---|---|---|
|  |  |  |  |
| 4 TL | 3 TL | 4 TL | 5 TL |

| | | | |
|--|---|---|---|
|  |  |  |  |
| 5 TL | 4 TL | 5 TL | 3 TL |

2 kg salatalık = TL eder.

4 kg salatalık = TL eder.

5 kg karpuz = TL eder.

8 kg karpuz = TL eder.

3 kg domates = TL eder.

5 kg domates = TL eder.

2 kg üzüm = TL eder.

4 kg üzüm = TL eder.

2 kg muz = TL eder.

5 kg muz = TL eder.

3 kg çilek = TL eder.

7 kg çilek = TL eder.

4 kg kiraz = TL eder.

6 kg kiraz = TL eder.

2 kg elma = TL eder.

5 kg elma = TL eder.

Terazileri dengeleyelim.

