



ASLAN İLE FARE

Aslanın biri uyuyormuş. Bir fare gelip vücudunun üzerinde dolaşmaya başlamış. Aslan uyanmış, fareyi yakalamış. Ama fare başlamış yalvarmaya:

-Bırak beni. Gün olur, benim de sana bir iyiliğim dokunur, demiş. Aslan gülmüş bu söze. Gene de bırakmış fareyi. Aradan zaman geçmiş. Bir gün aslan, avcılarının kurduğu tuzağa düşmüş. Gelmişler, onu bir ağaca sınıksıkı bağlamışlar.

Fare, aslanın inlemelerini duymuş, koşarak gelmiş. İpleri kemirip aslanı kurtarmış. Bunun üzerine de:

-Vaktiyle sen bana gülmüştün. Benden bir hayır beklemiyordun. Ama gördün ya, fareler de iyilikbilir. Onların da bir yardımı dokunabilir, demiş.

Not: İlk 3 soruyu şiire göre cevaplayınız.

1) Aslan vücudunun üzerinde dolaşan fareyi yakalayınca, fare ne söylemiştir?

- A) Beni hemen serbest bırak demiş.
- B) Bırak beni gün olur, benim de sana bir iyiliğim dokunur demiş.
- C) Lütfen! Beni affet demiş.

2) Fare, aslanı avcılarının tuzağından nasıl kurtarmıştır?

- A) Avcıların, aslanı bağladıkları ağacı keserek
- B) Ormandaki diğer hayvanları çağırarak
- C) Aslanı bağladıkları ipleri kemirerek

3) Aslan ile fare masalından nasıl bir ders çıkarabiliriz?

- A) Kimseyi küçümsememeli, karşılık beklemeden birbirimize yardım etmeliyiz.
- B) Bizden büyüklere yardım etmeliyiz.
- C) Yardımlaşma karşılıklı olarak yapılmalıdır.

4)

A - nıt - ka - bir
1 2 3

Yukarıdaki kelimeyi satır sonuna sığmadığında hangi sayı ile gösterilen yerden ayırmak yanlış olur?

- A) 1
- B) 2
- C) 3

5) Aşağıdaki cümlelerin hangisinde hem tekil hem de çoğul isim vardır?

- A) Parkta bir sürü oyuncak vardı.
- B) Sınıfımıza yeni tahta ve sıralar geldi.
- C) Akşam bize misafir geldi.

6)

k_ rt

_ fak

k_z_

Yukarıdaki kelimelere hangi harf gelirse kelimeler anlamli ve dogru yazılmış olur?

A) a

B) e

C) u

7)

Hey, sana söylüyorum ()
Oradakilerin hangisi senin ()
Bugün çok yorulduk ()

Yukarıdaki cümlelerin sonuna **sırasıyla** hangi noktalama işareti gelmelidir?

A) (.) (|) (?)

B) (.) (?) (|)

C) (|) (?) (.)

8)



Özel isimler her zaman büyük harfler yazılır.

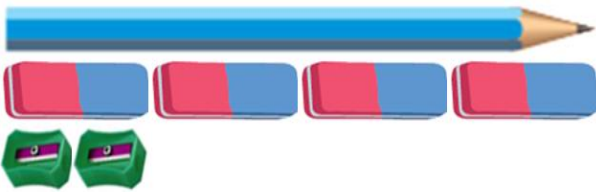
Aşağıdaki cümlelerin hangisinde bu kurala uyulmamıştır?

A) Minik kedim Tekir'i çok seviyorum.

B) En yüksek dağımız ağırı dağıdır.

C) Dünya'nın uydusu Ay'dır.

9)



Yukarıdaki kalemin uzunluğu kaç kalemıraş uzunluğundadır?

A) 4

B) 6

C) 8

10, 11, 12 ve 13. soruları aşağıda verilen uzunluk modellerine göre cevaplayınız

2 cm



10) Kalemin boyu kaç ataç boyundadır?

A) 6

B) 7

C) 8

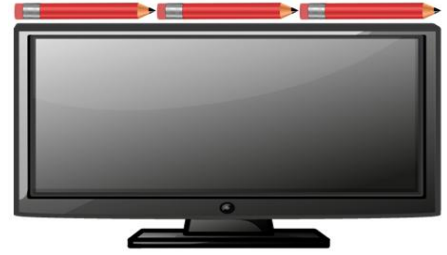
11) Kalemin boyunun uzunluğu kaç cm'dir?

A) 14

B) 12

C) 7

12)



Yukarıda verilen televizyon ekranının **eninin** uzunluğu kaç cm'dir?

A) 36cm

B) 40cm

C) 42cm

13)



Yukarıdaki **bayrağın** uzunluğu kaç cm'dir?

A) 18 cm

B) 20 cm

C) 22 cm



14)

Mert

Mert kulacının uzunluğunu 47 cm olarak ölçüyor. Adımını ise kulacından 13 cm fazla ölçüyor. Buna göre Mert'in adımının uzunluğu kaç cm'dir?

- A) 50 cm B) 60 cm C) 63 cm


15)



Bir terzi 3 metrelik kumaştan bir masa örtüsü, 4 metrelik kumaştan da bir elbise dikmektedir. Terzi, 7 masa örtüsü ve 6 elbise diktiğine göre toplam kaç metre kumaş kullanmıştır?

- A) 45 cm B) 46 cm C) 48 cm

16) Aşağıdaki doğal afetlerden hangisi hava olayları ile ilgili değildir?



A)

Sel

B)

Deprem

C)

Çiğ

17) Yağmurun fazla yağdığı bir günde aşağıdaki doğal afetlerden hangisinin görülmesi mümkündür?

- A) Çiğ - Heyelan
B) Deprem - Sel
C) Heyelan - Sel

18)

Binalar daha sağlam yapılmalıdır.

Özel bir çanta hazırlanmalıdır.

Tatbikatlar yapılmalıdır.

Yukarıda hangi doğal afet için önlemler alınmıştır?

- A) Deprem B) Sel C) Fırtına

19)



Sel ve su baskınlarını önlemek için aşağıdaki çalışmalardan hangisi yapılmaz?

- A) Ağaç dikmeliyiz.
B) Dere ve akarsu kenarlarına ev yapmamalıyız.
C) Yağmurları engellemeliyiz.

20)



Depremden korunmak için yapılması gereken en önemli etken nedir?

- A) Bina, köprü ve yolları daha sağlam zeminlere yapmak
B) Bina ve yollarımızı orman kenarlarına yapmalıyız.
C) Binalarımızı daha kaliteli boyamalıyız.

Cevap Anahtarı

- 1)B 2)C 3)A 4)A 5)B
6)C 7)C 8)B 9)C 10)B
11)A 12)C 13)A 14)B 15)A
16)B 17)C 18)A 19)C 20)A