

1. SINIF MATEMATİK - 2. DÖNEM **TEKRAR ETKİNLİĞİ** - 10

✚ Toplama işlemlerinde verilmeyen sayıları bulunuz.

$1 + \square = 3$	$3 + \square = 4$
$7 + \square = 9$	$10 + \square = 13$
$11 + \square = 16$	$12 + \square = 19$

✚ Tablolarda istenen bilgileri yazınız.




1 GÜN ÖNCE	BUGÜN	1 GÜN SONRA
	Pazartesi	
	Cuma	
	Pazar	
	Perşembe	
	Çarşamba	

ÖNCEKİ AY	AYLAR	SONRAKİ AY
	Mart	
	Kasım	
	Ağustos	
	Eylül	
	Nisan	

✚ Toplama-çıkarma gerektiren problemleri çözünüz.

1	Annemden 8, babamdan 6 lira harçlık aldım. Toplam kaç liram oldu?	→
2	Ablam 16 yaşındadır. Ben ablamdan 7 yaş küçüğüm. Ben kaç yaşındayım?	→
3	Bir poşette 9 muz, 2 kivi ve 5 armut var. Poşette toplam kaç meyve var?	→


✚ Saatlerin kaçı gösterdiğini altlarına yazınız.



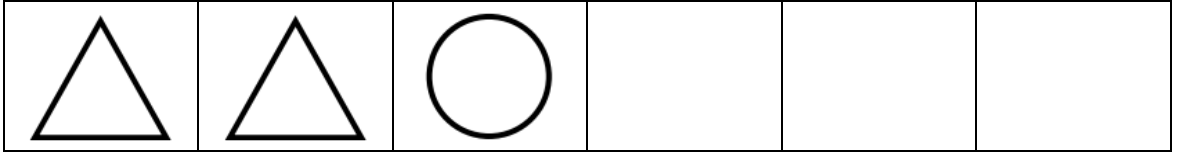
→	→	→	→
---	---	---	---

✚ Verilen kurallara göre örüntüleri devam ettiriniz.

1 kalp
1 çiçek



2 üçgen
1 daire



✚ 1/C sınıfında en sevilen meyveler belirlenmiştir.

MEYVELER	ÖĞRENCİ SAYISI
Elma	3
Kiraz	5
Muz	4
Çilek	8

❖ En çok söylenen meyve hangisidir?



❖ En az söylenen meyve hangisidir?



❖ Bu sınıfta toplam kaç öğrenci vardır?



✚ Uzun olan nesnelere maviye, kısa olanları kırmızıya boyayınız.

