


## TARTMA

1. Etkinlik: Aşağıda verilen ağırlık (kütle) ölçüm sonuçlarını yazınız.



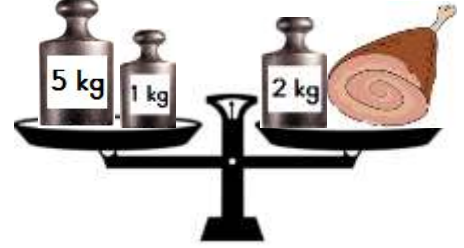
Armutun ağırlığı .... kilogramdır.



Muzun ağırlığı .... kilogramdır.



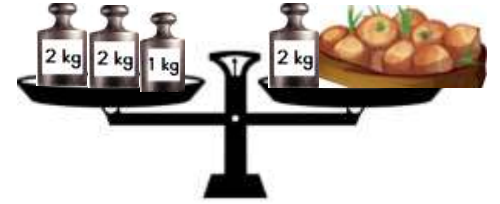
Şekerin ağırlığı .... kilogramdır.



Etin ağırlığı .... kilogramdır.



Balığın ağırlığı .... kilogramdır.



Soğanın ağırlığı .... kilogramdır.



Domatesin ağırlığı .... kilogramdır.



Çileğin ağırlığı .... kilogramdır.



Karpuzun ağırlığı .... kilogramdır.



Pirincin ağırlığı .... kilogramdır.