

## TARTMA

1. Etkinlik: Aşağıda verilen ölçüm sonuçlarına göre problemleri yapınız.



1. Şeker kaç kilogramdır?

Cözüm :



2. Bulgur kaç kilogramdır?

Cözüm :




3. Bulgur tuzdan kaç kilogram fazladır?

Cözüm :




4. Nohut kaç kilogramdır ?

Cözüm :



5. Şeker ve nohudun toplam ağırlığı kaç kilogramdır ?

Cözüm :




6. Pirinç kaç kilogramdır ?

Cözüm :



7. Nohut pirinçten kaç kilogram fazladır?

Cözüm :



8. Pirinç ve tuz toplam kaç kilogramdır?

Cözüm :



9. En ağır ile en hafif arasında kaç kilogram fark vardır ?

Cözüm :



10. Bulgur ve pirinç toplam kaç kilogramdır ?

Cözüm :

