

## TÜRKÇE

1. Etkinlik: Aşağıda verilen cümlelerdeki noktalı yerlere ismin yerine kullanılan kelimelerden ( ben , sen , o , biz , siz , onlar ) uygun olanını yazalım .

- ★ ..... dün okula gelmedi.
- ★ Bugün ..... de kütüphaneye gel.
- ★ Dün yere düşen elmaları ..... topladık.
- ★ Bahçedeki sıraları ..... taşımışlar.
- ★ Annemle birlikte halıları ..... yıkadım .
- ★ Dünkü filmi ..... izlediniz mi?
- ★ Büyük kutuyu ..... kaldıramadım.
- ★ Bugün yemeği ..... yap .
- ★ Sınıfın camlarını ..... silmişler.
- ★ Dördüncü kata ..... yürüyerek çıktık.
- ★ ..... gelmeseydiniz , kitap okuyacaktım.
- ★ Bahçedeki çiçekleri ..... suladı.



2. Etkinlik: Aşağıda verilen cümlelerde altı çizili ismin yerine gelebilecek kelimeyi bularak noktalı yere yazalım .

Suna dün bize geldi.

..... dün bize geldi.

Can ile Caner bahçede elma topluyorlar.

..... bahçede elma topluyorlar.

Sen ve annen nereye gittiniz ?

..... nereye gittiniz ?

Ben ve babam arabayı yıkadık .

..... arabayı yıkadık.

Oya , Ela ve İrem ödevlerini yapmışlar.

..... ödevlerini yapmışlar.

Melih yarın yüzmeye gidecekmış.

..... yarın yüzmeye gidecekmış.



## TÜRKÇE

 Noktalı yere gelecek kelimeyi boyayalım.

\* Kırtasiyeden kalem , silgi ..... defter aldım. **yada** **ve** **ama**

\* Teyzem , annem ..... sarı saçlıdır. veya ya da gibi

\* Yattım ..... uyuyamadım. için ama ve

\* Kardeşim ..... parkta oynadık. ile çünkü ya da

\* Kutuyu taşıyamadım ..... çok ağırdı. çünkü gibi veya

\* Mavi ..... kırmızı tokayı alacağım. ama veya için

\* Sinem yüzemediği ..... havuza giremedi. çünkü için ve

\* Çok bekledim ..... arkadaşım gelmedi. ya da gibi fakat

\* Çamaşırları annem ..... ablam toplamıştır. ama ya da kadar

\* Ceren , Jale ..... güzel resim yapar. kadar veya fakat

\* Marketten karpuz ..... peynir aldık. ama çünkü ile

\* Çok çalış ..... başarılı olasın. veya ya da ki

\* Parka gidecektim ..... yağmur yağdı. ile ama kadar





## YAĞMUR ORMANI

Ülkenin birinde bir yağmur ormanı varmış. Bu ormana her gün yağmur yağar, mis gibi kokular yayırmış. Ama gelin görün ki bu ormanın içinde yaşayan hayvanlar bu durumdan çok sıkılmış. Her yerin ıslak oluşu canlarını sıkarmış. Artık yağmurun yağmasını istemiyorlar hep güneş açsın istiyorlarmış.

Günlerden bir gün hayvanlar kendi aralarında konuşmaya başlamışlar. Hepsi yağmurdan şikayet ediyorlarmış. Yağmur bulutu da yukarıdan onları dinliyormuş ve duydukları yüzünden çok üzülmüş çok da kızmış. Kendi kendine "Ben sizi düşündüğüm için yağmur yağıdırıyorum. Madem istemiyorsunuz, artık size yağmur yok," demiş. Hemen gidip en yakın arkadaşı Güneş ile konuşmuş. Ondan o ormana bütün sıcaklığını vermesini istemiş. Güneş de arkadaşının isteğini kabul etmiş ve hayvanlara bir ders vermek için hiç durmadan kuru sıcaklığını ormana yöneltmiş. O günden sonra yağmur ormanına bir damla bile su düşmemiş. Bir kaç gün sonra hayvanlar sıcaktan da şikayet etmeye başlamışlar. Hepsi terlemiş, dilleri damakları kurumuş. Sadece kuruyan dilleri değil nehirleri de olmuş. Yağmur olmayınca ağaçlar kurumaya, bütün hayvanlar susuzluktan kıvranmaya başlamışlar. Hepsi birden yağmurun yağması için dua etmeye başlamışlar. Bugüne kadar ellerindekilerin kıymetini bilmedikleri için kendilerinden utanmışlar.

Bulut , hayvanların pişman olduklarını görünce hemen yağmur damlalarını serpiştirmeye başlamış. Yağmurun yağması ile bütün hayvanlar sevinçten dans etmeye başlamış. Bir daha da asla yağmurdan şikayet etmemişler ve suyun doğanın tadını çıkarmaya başlamışlar. Bulut ve Güneş de verdikleri dersin sonucundan mutlu olarak gökyüzünden onları izlemeye devam etmişler.



Aşağıdaki soruları metne uygun bir şekilde cevaplayınız.

1. Hayvanlar niçin sıkılmış?

.....

2. Hayvanlar ne istiyormuş?

.....

3. Yağmur bulutu neden çok üzülmüş?

.....

4. Güneş niçin hiç durmadan kuru sıcaklığını ormana yöneltmiş?

.....

5. Hayvanlar niçin dua etmişler?


.....

6. Hayvanlar yağmur yağınca ne yapmışlar?

.....

## DÜNYA'NIN ŞEKLİ VE HAREKETLERİ

1. Etkinlik: Dünya'nın şekline benzer olanları işaretleyelim.



2. Etkinlik: Verilen resimlerle olayları ve sonuçlarını ok işaretiyle eşleyelim.



Dünya Güneş çevresinde dolanır.

Gece ve gündüz oluşur ve sırayla birbirini takip eder.



Dünya kendi etrafında döner.

Mevsimler oluşur ve sırayla birbirini takip eder.

3. Etkinlik: Doğru ifadelerin yıldızlarını maviye, yanlış ifadelerin yıldızlarını kırmızıya boyayalım.

- ☆ Dünya Ay'ın etrafında dolanır.
- ☆ Dünya etrafında dönüşünü 24 saatte tamamlar.
- ☆ Bir yılda dört mevsim vardır.
- ☆ Dünya Güneş etrafında dolanışını 1 ayda tamamlar.
- ☆ Dünya'nın kendi etrafında dönmesiyle gece ve gündüz oluşur.
- ☆ Yaz mevsiminde Güneş'in zararlı etkilerinden korunmalıyız.
- ☆ Ağaçlar sonbahar mevsiminde çiçek açar.
- ☆ En soğuk mevsim kış mevsimidir.
- ☆ Güneş Dünya'nın etrafında dolanır.





## TARTMA

1. Etkinlik: Aşağıda verilenlerden hangileri ağırlık (kütle) ölçüm aracıdır? Kutusunu boyyalım.



2. Etkinlik: Aşağıdakilerden hangileri tartılarak alınır? Yıldızını boyyalım.



## TARTMA

1. Etkinlik: Aşağıda verilen ağırlık (kütle) ölçüm sonuçlarını yazınız. Ölçüm sonucuna göre "ağırdır veya hafiftir" ifadelerinden uygun olanını boyayınız.



Muzun ağırlığı .... kg'dır.

Muz , elmadan

ağırdır

hafiftir



Elmanın ağırlığı .... kg'dır.



Unun ağırlığı .... kg'dır.

Karpuz , undan

ağırdır

hafiftir



Karpuzun ağırlığı .... kg'dır.

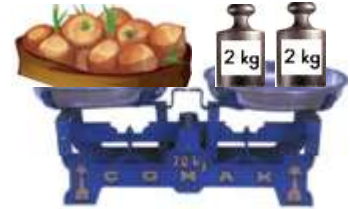


Patatesin ağırlığı .... kg'dır.

Patates , soğandan

ağırdır

hafiftir



Soğanın ağırlığı .... kg'dır.



Tuzun ağırlığı .... kg'dır.

Tuz , pirinçten

ağırdır


hafiftir



Pirinçin ağırlığı .... kg'dır.

## TARTMA

1. Etkinlik: Aşağıda verilen ağırlık (kütle) ölçüm sonuçlarını yazınız.



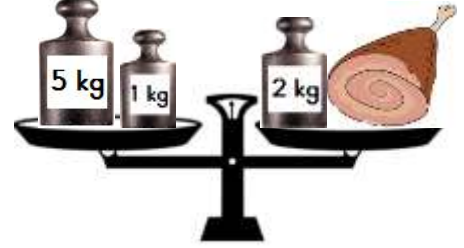
Armutun ağırlığı .... kilogramdır.



Muzun ağırlığı .... kilogramdır.



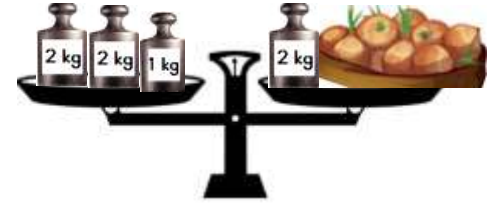
Şekerin ağırlığı .... kilogramdır.



Etin ağırlığı .... kilogramdır.



Balığın ağırlığı .... kilogramdır.



Soğanın ağırlığı .... kilogramdır.



Domatesin ağırlığı .... kilogramdır.



Çileğin ağırlığı .... kilogramdır.



Karpuzun ağırlığı .... kilogramdır.


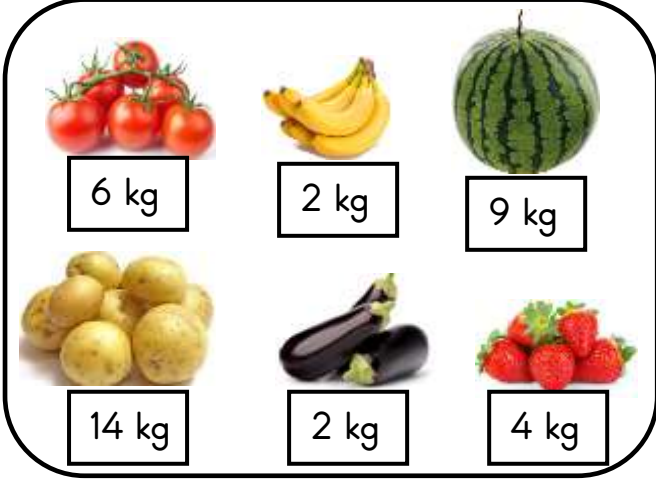


Pirincin ağırlığı .... kilogramdır.



## TARTMA

1. Etkinlik: Hülya ve Okan kendi babalarıyla birlikte pazardan aşağıdaki sebze ve meyveleri almışlar. Aşağıda verilen ifadelerde noktalı yerleri uygun şekilde doldurunuz . ( ağırdır , hafiftir , eşittir )



- \* Okan'ın aldığı karpuz , Hülya'nın aldığı karpuzdan .....
- \* Hülya'nın aldığı patates , Okan'ın aldığı patatesten .....
- \* İkisinin de aldığı muzun ağırlığı .....
- \* Hülya'nın aldığı patlıcan , Okan'ın aldığı patlıcandan .....
- \* Okan'ın aldığı domates , Hülya'nın aldığı domatesten .....
- \* Okan'ın aldığı çilek , Hülya'nın aldığı çilekten .....
- \* İkisinin de aldığı domates ve çileğin toplam ağırlığı .....
- \* Hülya'nın aldığı patates ve patlıcanın toplamı , Okan'ın aldığı patates ve patlıcanın toplamından .....
- \* Okan'ın aldığı çilek ve muzun toplamı , Hülya'nın aldığı çilek ve muzun toplamından .....
- \* Okan'ın aldığı karpuz ve patatesin toplamı , Hülya'nın aldığı karpuz ve patatesin toplamından .....
- \* Hülya'nın aldığı çilek ve patlıcanın toplamı , Okan'ın aldığı çilek ve patlıcanın toplamından .....



## TARTMA

1. Etkinlik: Aşağıda hayvanların ağırlıkları verilmiştir. Verilenlere göre doğru seçeneği boyayınız.



45 kg



39 kg



48 kg



4 kg



6 kg



64 kg



57 kg



13 kg

\* En ağır hayvan

koç

eşek

\* En hafif hayvan

kedi

horoz

\* Hindi horozdan

ağırdır

hafiftir

\* Keçi koyundan

ağırdır

hafiftir

\* Koç köpektan

ağırdır

hafiftir

\* Horoz kediden

ağırdır

hafiftir

\* Koç eşekten

ağırdır

hafiftir

\* Kedi horozdan

ağırdır

hafiftir

\* Keçi hindiden

ağırdır

hafiftir

\* Eşek koçtan

ağırdır

hafiftir



## TARTMA İLE İLGİLİ PROBLEMLER

1. Babam pazardan 4 kg domates , 2 kg patlıcan ve 3 kg salatalık aldı. Babamların aldıkları toplam kaç kg'dır ?

Çözüm:



2. Tolga 28 kg ağırlığındadır. Can ise Tolga'dan 14 kg daha ağırdır. Canın ağırlığı kaç kg'dır?

Çözüm:



3. Bir manav sabah dükkana 60 kg muz getirmiş. Muzun 28 kg'ını satmış. Geriye kaç kg muz kalmıştır ?

Çözüm:



4. Babamın taşıdığı büyük kutu 42 kg ağırlığındadır. Küçük kutu ise 17 kg daha hafiftir. Küçük kutu kaç kg ağırlığındadır?

Çözüm:



5. Annem çilek reçeli yapmak için bir kilosu 8 lira olan çilekten 4 kg almış. Annem kaç lira ödemiştir ?

Çözüm:



6. Amcam her birinin ağırlığı 7 kg olan 3 tane karpuz almış. Karpuzların toplam ağırlığı kaç kg'dır?

Çözüm:



7. Evimizde bir tanesinin ağırlığı 20 kg olan 2 torba un vardı. Annem onun 23 kilogramını kullanmış. Geriye kaç kilogram un kalmıştır?

Çözüm:



8. Bir bakkal 24 kg toz şekeri 3 kg'lık poşetlere koymuş. Bakkal kaç tane poşet kullanmıştır ?

Çözüm:



## TARTMA İLE İLGİLİ PROBLEMLER

1. Evimizde 14 kg toz şeker vardı. Annem reçel yaparken toz şekerin yarısını kullandı. Annem kaç kg şeker kullandı ?

Çözüm:



2. Pazarcı 74 kg eriğin önce 17 , sonra 29 kg'ını satmış. Geriye kaç kg erik kalmıştır ?

Çözüm:



3. Beyza ile Sevgi'nin ağırlıkları toplamı 63 kg'dır. Beyza 35 kg olduğuna göre Sevgi kaç kg'dır ?

Çözüm:



4. Bir bakkal 28 kg unu 4 kg'lık poşetlere koymuş. Bakkal kaç tane poşet kullanmıştır ?

Çözüm:



5. Bir pastanede tatlı yapmak için her gün 5 kg şeker kullanılıyor. Bir haftada kaç kg şeker kullanılır ?

Çözüm:



6. Her birinde 18 kg domates olan 3 kasa domates vardı. Domatesin 38 kg'ı satıldı. Kaç kg domates kalmıştır ?

Çözüm:



7. Sinem ve 3 arkadaşı bahçede elma toplamışlar. Her biri 6 kg elma topladıklarına göre kaç kg elma toplamışlardır ?

Çözüm:



8. Babam 82 kg ağırlığındadır. Ben ise babamdan 47 kg daha hafif olduğuma göre benim ağırlığım kaç kg'dır ?

Çözüm:



## TARTMA İLE İLGİLİ PROBLEMLER

1. Amcam manavdan 6 kg domates, 4 kg salatalık ve 3 kg biber almış. Amcam manavdan toplam kaç kg sebze almış ?

Çözüm:



2. Bakkal 40 kg zeytinin önce 13 kg'ını sonra 16 kg'ını satmış. Geriye kaç kg zeytin kalmıştır ?

Çözüm:



3. Dedem her birin 4 kg çilekler olan kassalardan 6 kasa almış. Dedem kaç kg çilek almıştır ?

Çözüm:



4. Bir kasap 90 kg etin 28 kg'ını dün, 35 kg'ını bugün satmış. Geriye kaç kg et kalmıştır ?

Çözüm:



5. 12 kilogram pirince ihtiyacı olan bir aşçı, paketi 2 kilogram olan pirinçlerden kaç paket almalıdır ?

Çözüm:



6. Erdem kilosu 7 lira olan kayısıdan 2 kg almış. Satıcıya 20 lira vermiş. Erdem kaç lira para üstü alır ?

Çözüm:



7. İrem 26 kilogram ağırlığındadır. Ablası ise İrem'den 17 kilogram ağırdır. İki toplam kaç kilogram ağırlığındadır ?

Çözüm:



8. Büyük kutu 23 kg ağırlığındadır. Küçük kutu ise büyük kutudan 8 kg daha hafiftir. İki kutunun toplam ağırlığı kaç kg'dır ?

Çözüm:





## TARTMA İLE İLGİLİ PROBLEMLER

1. Topladığımız elmaların 5 tanesi 1 kg gelmektedir. 30 tane elma topladık. Kaç kg elma toplamış olduk ?

Çözüm:



2. Evimizde 14 kilogram ceviz vardı. Cevizlerin yarısını yemiştir. Kaç kilogram ceviz yemiştir ?

Çözüm:



3. Pastanede her biri 10 kg ağırlığında toz şeker vardı. Şekerin 18 kg'ını kullanılmış. Kaç kg toz şeker kalmıştır. ?

Çözüm:



4. El arabasına her birinin ağırlığı 14 kg olan 3 kutu koyduk. El arabasında toplam kaç kg yük olmuştur ?

Çözüm:



5. 4 tane armut 1 kg'dır. Arkadaşlarımla 6 kg armut topladık . 4 tane armut 1 kg'dır. Armutlardan 8 tanesini yedik. Kaç tane armut kalmıştır ?

Çözüm:



6. Erem 27 , Burçin 25 kg ağırlığındadır. İkisini toplam ağırlığı 60 kg'dan kaç kg azdır ?

Çözüm:



7. İki kutunun toplam ağırlığı 53 kg'dır. Kutuların biri 35 kg olduğuna göre diğer kutu kaç kg'dır ?

Çözüm:



8. Her gün 5 kg zeytin satan bir bakkal 8 günde kaç kg zeytin satar ?

Çözüm:



## TARTMA İLE İLGİLİ PROBLEMLER



7 lira



26 lira



45 lira



17 lira



6 lira



4 lira



26 lira



9 lira



3 lira



10 lira



12 lira



20 lira

Yukarıda markette satılan gıdaların 1 kilogramının satış fiyatları verilmiştir. Buna göre soruları cevaplayalım.

1. 3 kg kiraz ..... liradır.

2. 4 kg pirinç ..... liradır.

3. Fiyatı en ucuz ürün ..... .

4. Fiyatı en pahalı ürün ..... .

5. 7 kg elma ..... liradır.

6. 2 kg peynir ..... liradır.

7. 3 kg un ..... liradır.

8. 5 kg şeftali ..... liradır.

9. 3 kg zeytin ..... liradır.

10. 2 kg çekirdek ..... liradır.

11. 2 kg et ..... liradır.

12. 6 kg domates ..... liradır.

13. 2 kg balık ..... liradır .

14. 3 kg muz ..... liradır.

15. 1 kg elma , 1 kg zeytin toplam ..... liradır.

16. 1 kg et , 1 kg pirinç toplam ..... liradır.

17. 1 kg kiraz, 1 kg çekirdek toplam ..... liradır.

18. 1 kg balık , 1 kg domates toplam ..... liradır.

## TARTMA

1. Etkinlik: Aşağıda verilen ölçüm sonuçlarına göre problemleri yapınız.




1. Şeker kaç kilogramdır?

Cözüm :



2. Bulgur kaç kilogramdır?

Cözüm :




3. Bulgur tuzdan kaç kilogram fazladır?

Cözüm :




4. Nohut kaç kilogramdır ?

Cözüm :



5. Şeker ve nohudun toplam ağırlığı kaç kilogramdır ?

Cözüm :



6. Pirinç kaç kilogramdır ?

Cözüm :



7. Nohut pirinçten kaç kilogram fazladır?

Cözüm :



8. Pirinç ve tuz toplam kaç kilogramdır?

Cözüm :



9. En ağır ile en hafif arasında kaç kilogram fark vardır ?

Cözüm :



10. Bulgur ve pirinç toplam kaç kilogramdır ?

Cözüm :

