





## SIVI ÖLÇME

☞ Aşağıdaki miktarları verilen suların kaç litre olduğunu işlem yaparak bulalım.


4 İŞLEM  
Yarım litre




10 İŞLEM  
Yarım litre




16 İŞLEM  
Yarım litre




6 İŞLEM  
Yarım litre




8 İŞLEM  
Yarım litre




14 İŞLEM  
Yarım litre




28 İŞLEM  
Yarım litre



18 İŞLEM  
Yarım litre



6 İŞLEM  
Yarım litre



20 İŞLEM  
Yarım litre



30 İŞLEM  
Yarım litre



12 İŞLEM  
Yarım litre

