


1. SINIF YAZ TATİLİ - MATEMATİK ETKİNLİKLERİ - 1

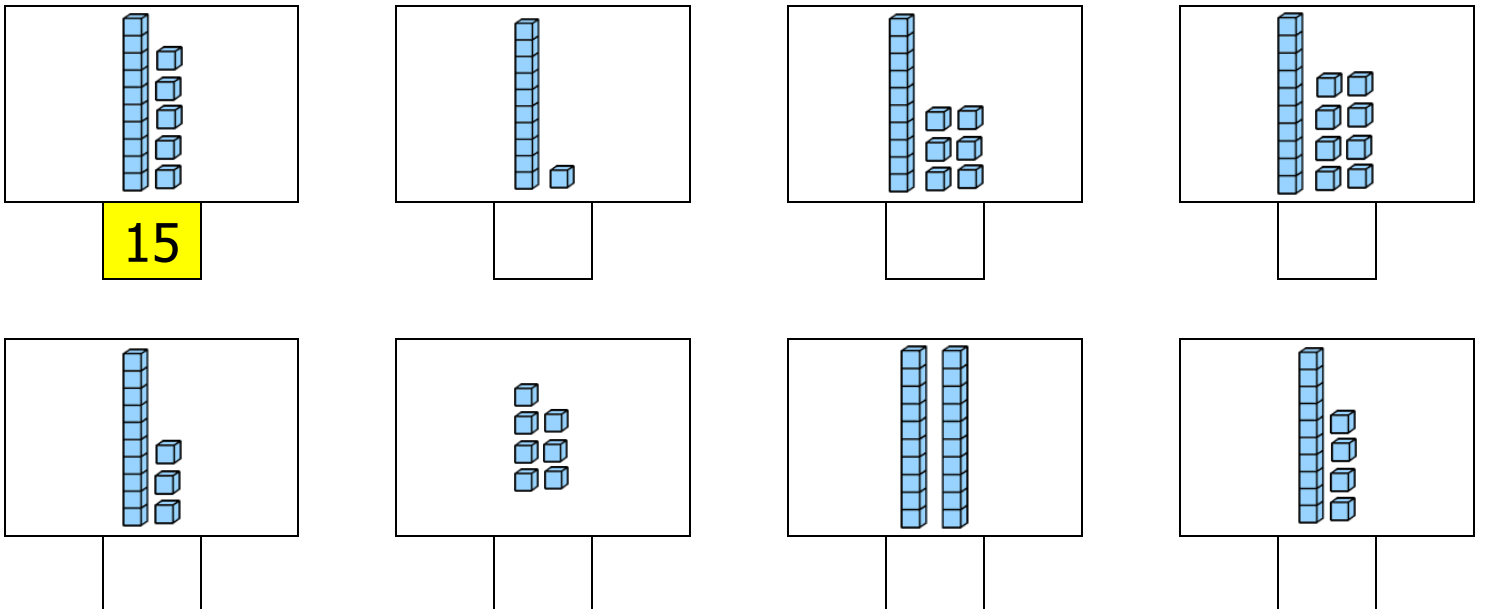
❖ Keklerdeki **eksik** sayıları yazınız.



❖ Aşağıdaki **ritmik** sayma etkinliklerini yapınız.

İkişer ileri say →	2	4					14			
İkişer geri say →	20	18			12					
Beşer ileri say →	5	10						40		
Onar ileri say →	10	20							90	

❖ **Onluk** ve **birlikleri** modellenen **sayıları** örnekteki gibi yazınız.



❖ İkili sayılardan **büyük** olanı **yeşil** renge **boyayınız**.

8	3
---	---

7	11
---	----

16	12
----	----

19	18
----	----

17	14
----	----

0	6
---	---

20	10
----	----

13	5
----	---

❖ İkili sayılardan **küçük** olanı **kırmızı** renge **boyayınız**.

2	7
---	---

8	4
---	---

12	11
----	----

13	16
----	----

20	15
----	----

14	17
----	----

0	1
---	---

5	11
---	----

❖ **Toplama** ve **çıkarma** alıştırmalarını yapınız.

$$\begin{array}{r} 5 \\ + 8 \\ \hline \end{array}$$

$$\begin{array}{r} 7 \\ - 1 \\ \hline \end{array}$$

$$\begin{array}{r} 4 \\ + 2 \\ \hline \end{array}$$

$$\begin{array}{r} 6 \\ + 5 \\ \hline \end{array}$$

$$\begin{array}{r} 9 \\ - 4 \\ \hline \end{array}$$

$$\begin{array}{r} 8 \\ - 6 \\ \hline \end{array}$$

$$\begin{array}{r} 2 \\ + 2 \\ \hline \end{array}$$

$$\begin{array}{r} 7 \\ + 4 \\ \hline \end{array}$$

$$\begin{array}{r} 5 \\ - 0 \\ \hline \end{array}$$

$$\begin{array}{r} 9 \\ - 7 \\ \hline \end{array}$$

$$\begin{array}{r} 7 \\ + 7 \\ \hline \end{array}$$

$$\begin{array}{r} 6 \\ + 2 \\ \hline \end{array}$$

$$\begin{array}{r} 14 \\ - 5 \\ \hline \end{array}$$

$$\begin{array}{r} 9 \\ - 8 \\ \hline \end{array}$$

$$\begin{array}{r} 7 \\ + 3 \\ \hline \end{array}$$

$$20 - 4 = \underline{\quad}$$

$$11 - 9 = \underline{\quad}$$

$$15 - 5 = \underline{\quad}$$

$$5 + 8 = \underline{\quad}$$

$$19 - 3 = \underline{\quad}$$

$$12 - 0 = \underline{\quad}$$

❖ **Toplama ve çıkarma** problemlerini çözünüz.

Benim **12** bilyem vardı.
Babam **8** tane daha verdi.
Kaç bilyem oldu?

Çözüm

Ayşe **11** yaşındadır. Abisi
ondan **3** yaş büyüktür.
Abisi kaç kaşındadır?

Çözüm

Bakkaldan **10** yumurta
aldım. **3** tanesi yere
düştü. Şimdi kaç
yumurtam var?

Çözüm

Ben kahvaltıda **7** zeytin
yedim. Annem **5** zeytin
yedi. İkimiz **toplam** kaç
zeytin yedik?

Çözüm

Sınıfta **15** öğrenci vardı.
8 öğrenci tenefüste
dışarı çıktı. Sınıfta kaç
öğrenci kaldı?

Çözüm

5 liralık çikolata ve **6**
liralık kek aldım. Kaç **lira**
ödemeliyim?

Çözüm

Ufuk **10** kitap okudu.
Cansu Ufuk'tan 5 kitap
fazla okudu. **Cansu** kaç
kitap okudu?

Çözüm

Kadir **6**, Altan **7** ve Sevim
9 yaşındadır. Üçünün
yaşları **toplamı** kaçtır?

Çözüm

18 sayfalık kitabın önce **3**
sayfasını, sonra **8**
sayfasını okudum.
Okunacak kaç sayfa
kaldı?

Çözüm

1 **koyun**, 1 **horoz** ve bir
köpeğin ayak sayıları
toplamı kaçtır?

Çözüm

Esmâ'nın **8** tokası vardı. **3**
tokayı kaybetti. Annesi
ona **5** toka daha aldı.
Şimdi kaç tokası oldu?

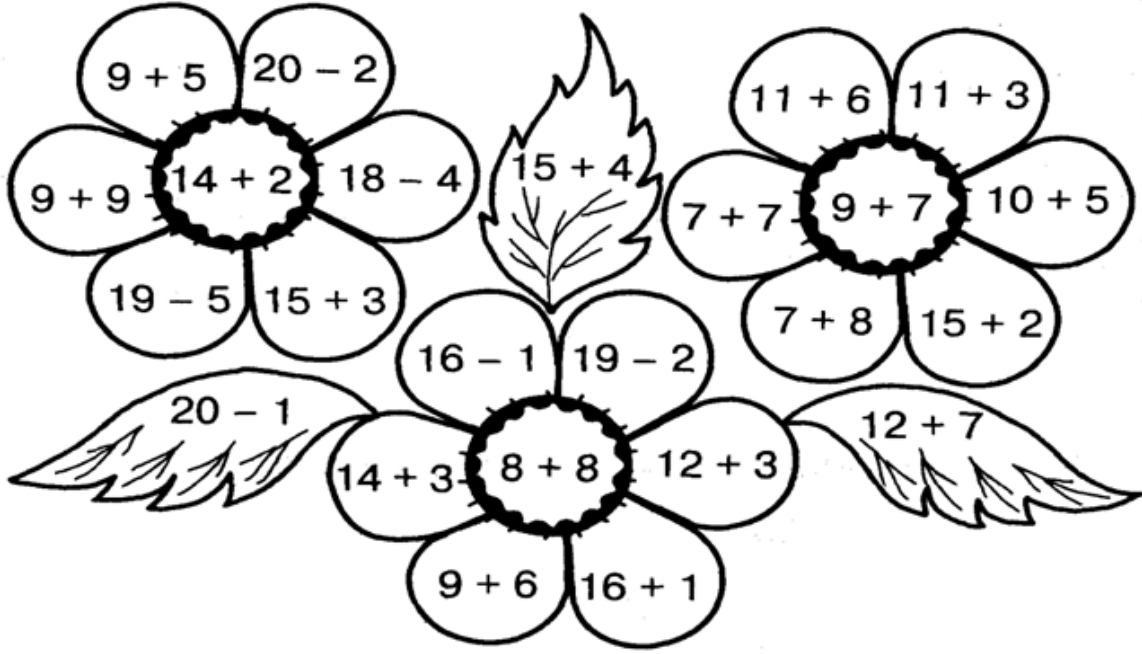
Çözüm

Ali'nin 7 balonu var.
Eda'nın balonu **Ali'den 2**
fazladır. İkisinin **toplam**
kaç balonu var?

Çözüm

❖ **Toplama ve çıkarma işlemlerinin sonuçlarına göre resmi boyayınız.**

14 → Turuncu	15 → Mavi	16 → Sarı
17 → Pembe	18 → Mor	19 → Açık Yeşil



❖ **Paraların değerlerini altlarına yazınız.**











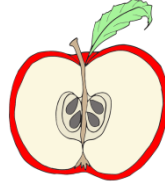
❖ **Örüntüleri inceleyiniz ve örüntü kuralına göre son kutuya gelecek şekli çiziniz.**



❖ Varlıkların altlarına **bütün** veya **yarım** yazınız.



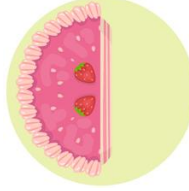


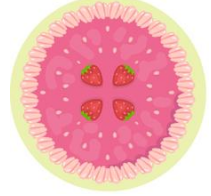




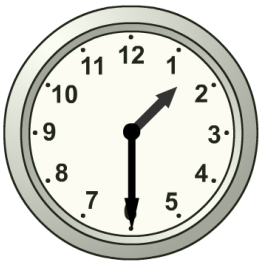




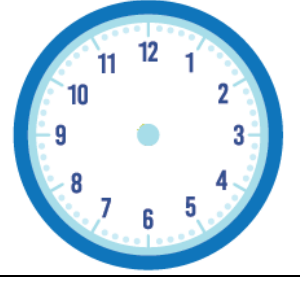

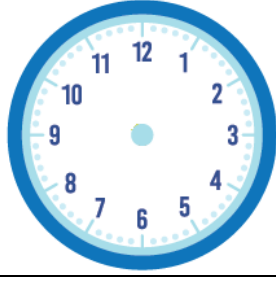
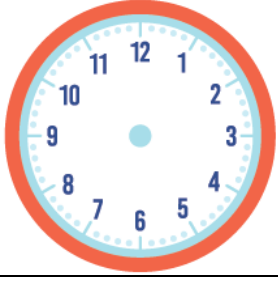




❖ Saatlerin kaçı gösterdiğini **altlarına** yazınız.



❖ **Okunuşları** verilen saatlerin **akrep** ve **yelkovanlarını** çiziniz.

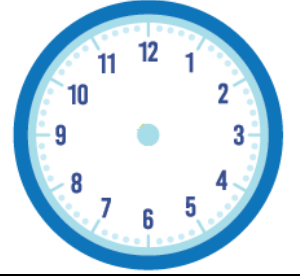

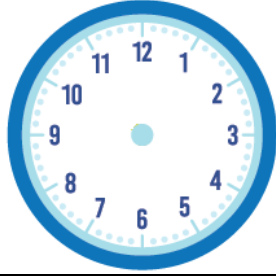
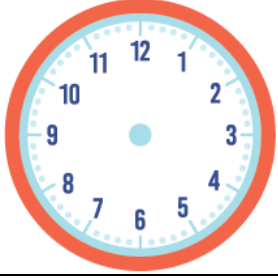


Saat beş

Dokuz buçuk

Saat üç

Sekiz buçuk




Saat altı

On buçuk

Saat yedi

Bir buçuk

❖ **Örüntülerde** boş bırakılan yerlere uygun **şekiller** çiziniz.



- ❖ 1/C sınıfında yapılan **başkanlık** seçiminin sonuçları alttadır.

	ALINAN OYLAR							
Ahmet	★	★	★					
Zeynep	★	★	★	★	★			
Sefa	★	★	★	★				
Esra	★	★	★	★	★	★	★	
Okan	★	★						

❖ En çok oyu kim almıştır?

→

❖ En az oyu kim almıştır?

→

❖ Hangi öğrenci **başkan** seçilmiştir?

→

❖ Bu sınıf **toplam** kaç kişidir?

→

- ❖ **Takvimi** inceleyelim. **Soruları** yanıtlayalım.

HAZİRAN						2024	
PT	SA	ÇA	PE	CU	CT	PZ	
					1	2	
3	4	5	6	7	8	9	
10	11	12	13	14	15	16	
17	18	19	20	21	22	23	
24	25	26	27	28	29	30	

❖ Haziran ayı kaç gün çekmektedir?

→

❖ Ayın ilk günü hangi gündür?

→

❖ Ayın son günü hangi gündür?

→


❖ 11 Haziran hangi güne gelmektedir?

→




❖ Kaçınıcı günler **çarşambadır**?

→

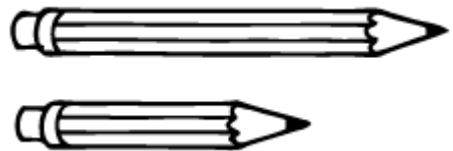
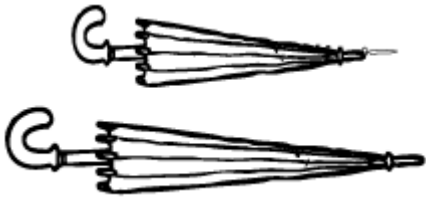
❖ **Ölçme** araçlarının **isimlerini** yazınız.



❖ **Nesnelerin** uzunluklarını **tahmin** ediniz.



❖ **Uzun** olan nesnelere **pembeye**, **kısa** olanları **yeşile** boyayınız.



❖ **Aylarımızı** sırasıyla **yazınız**. Ardından **mevsimlerin** aylarını **yazınız**.

1. Ay	2. Ay	3. Ay	4. Ay	5. Ay	6. Ay

7. Ay	8. Ay	9. Ay	10. Ay	11. Ay	12. Ay

Kış mevsiminin ayları		

İlkbahar mevsiminin ayları		

Yaz mevsiminin ayları		

Sonbahar mevsiminin ayları		

❖ **Günlerin isimlerini** sırayla yazınız ve **bulmacadan** bulunuz.

1	
2	
3	
4	
5	
6	
7	

G	Ü	C	U	M	A	R	T	E	S	İ	P
S	A	L	I	B	E	N	K	İ	K	R	A
E	V	C	İ	H	M	T	Ö	R	A	Y	Z
G	Z	Ü	P	A	Z	A	R	Ğ	C	F	A
H	Y	T	T	R	G	B	O	C	U	J	R
U	N	O	E	K	İ	L	A	V	M	S	T
Ç	A	R	Ş	A	M	B	A	T	A	Z	E
Z	S	Y	M	A	S	E	Z	I	P	L	S
Y	P	E	R	Ş	E	M	B	E	Y	V	İ

1	2	3	4	5	6	7
Pazartesi					Cumartesi	