

3.SINIF MATEMATİK DEĞERLENDİRME

1

1) 5 yüzlük, 2onluk ve 8 birlikten oluşan sayı kaçtır?

- A)  B)  C) 

2) Üç basamaklı en küçük sayı ile bir basamaklı en büyük sayının toplamı kaçtır?

- A)  B)  C) 

- 3) 

Yukarıda verilen örüntüde boş bırakılan yere aşağıda verilen sayılardan hangisi gelmelidir?

- A)  B)  C) 

4) Aşağıdaki işlemlerden hangisinin sonucu tek sayıdır?

A) $344+129=$

B) $325+405=$


C) $120+168=$

5) Aşağıda verilen işlemin tahmini sonucu kaçtır?



$314+28=?$

- A) 341 B) 340 C) 440

6) $126+235+ \text{●} = 500$ eşitliğinde  kaç yazılmalıdır?

- A)  B)  C) 



7) Barış 25 yaşında, Elem 23 yaşındadır. Annelerinin yaşı Barış ve Elem'in yaşlarının toplamından 15 fazladır. Annenin yaşı kaçtır?

- A)  63 B)  48 C)  53

10) Bir çıkarma işleminde eksilen 177, fark 69 ise çıkan sayı kaçtır?

- A)  106 B)  107 C)  108

8) 1,2,4 sayılarını birer kez kullanarak oluşturulacak en büyük çift sayı ile en küçük tek sayının toplamı kaçtır?

- A)  657 B)  653 C)  701

11) Aşağıda verilen işlemin tahmini sonucu kaçtır?

$$(200-35)+(100-55)=?$$

- A)  310 B)  110 C)  210

9) Bir sayının 92 eksiği 68'dir. Bu sayı kaçtır?

- A)  160 B)  157 C)  167

12) $7 \times 8 = \text{●} \times 7$ eşitliğinde ● yerine hangi sayı gelmelidir?

- A)  6 B)  8 C)  7



3



13) 213 sayısının 4 katının 52 fazlası kaçtır?

- A)  603 B)  802 C)  904




14) Bir sayının 7 katı 56'dır. Bu sayı kaçtır?

- A)  8 B)  6 C)  5

15) 5 topun fiyatı 460'tır. Bir topun fiyatı kaç liradır?

- A)  91 B)  90 C)  92




16) Ezgi 11.20 ile 11.50 arası ders çalışmıştır. Ezgi kaç dakika ders çalışmıştır?

- A)  30 B)  40 C)  50

17) Çeyrek litresi 8 TL olan sütte 9 litre aldık. Satıcıya kaç lira öderiz?

- A)  248 B)  288 C)  278

18) Bir manavda 64 kasa elma vardır. Her kasa 15 kg geldiğine göre manavda kaç kg elma vardır?

- A)  960 B)  860 C)  706

19) Bir kasadaki kavunlar 5 kg 340 g gelmektedir. Kasadaki kavunlar kaç gramdır?

- A) 5043 B) 5430 C) 5340

20) Bir hafta kaç saattir?

- A)  166 B)  168 C)  165



CEVAP ANAHTARI

- 1) C**
- 2) B**
- 3) A**
- 4) A**
- 5) B**
- 6) C**
- 7) A**
- 8) B**
- 9) A**
- 10) C**
- 11) C**
- 12) B**
- 13) C**
- 14) A**
- 15) C**
- 16) A**
- 17) B**
- 18) A**
- 19) C**
- 20) B**