












Adı Soyadı :

Numarası :

Konu: Yer Tarifi Yapalım

Evimizin Kroki

Aşağıdaki soruları krokiye göre yanıtlayınız.

 Park	Huzur Sokak	 Çiçek Sitesi	Neşe Sokak	 Manav	 Kütüphane	 Banka
ERZURUM CADDESİ						
 Cami	Sevgi Sokak	 Hastane	Okul Sokak	 Okul	 Kuzey Kuzeybatı Kuzeydoğu Batı Doğu Güneybatı Güneydoğu Güney	

➤ Park okula göre hangi yöndedir?

.....

➤ Krokiye göre caminin kuzeyinde hangi yapı var?

.....

➤ Krokiye göre manavın batısında hangi yapı var?

.....

➤ Sevgi sokağın doğusunda hangi yapı var?

.....

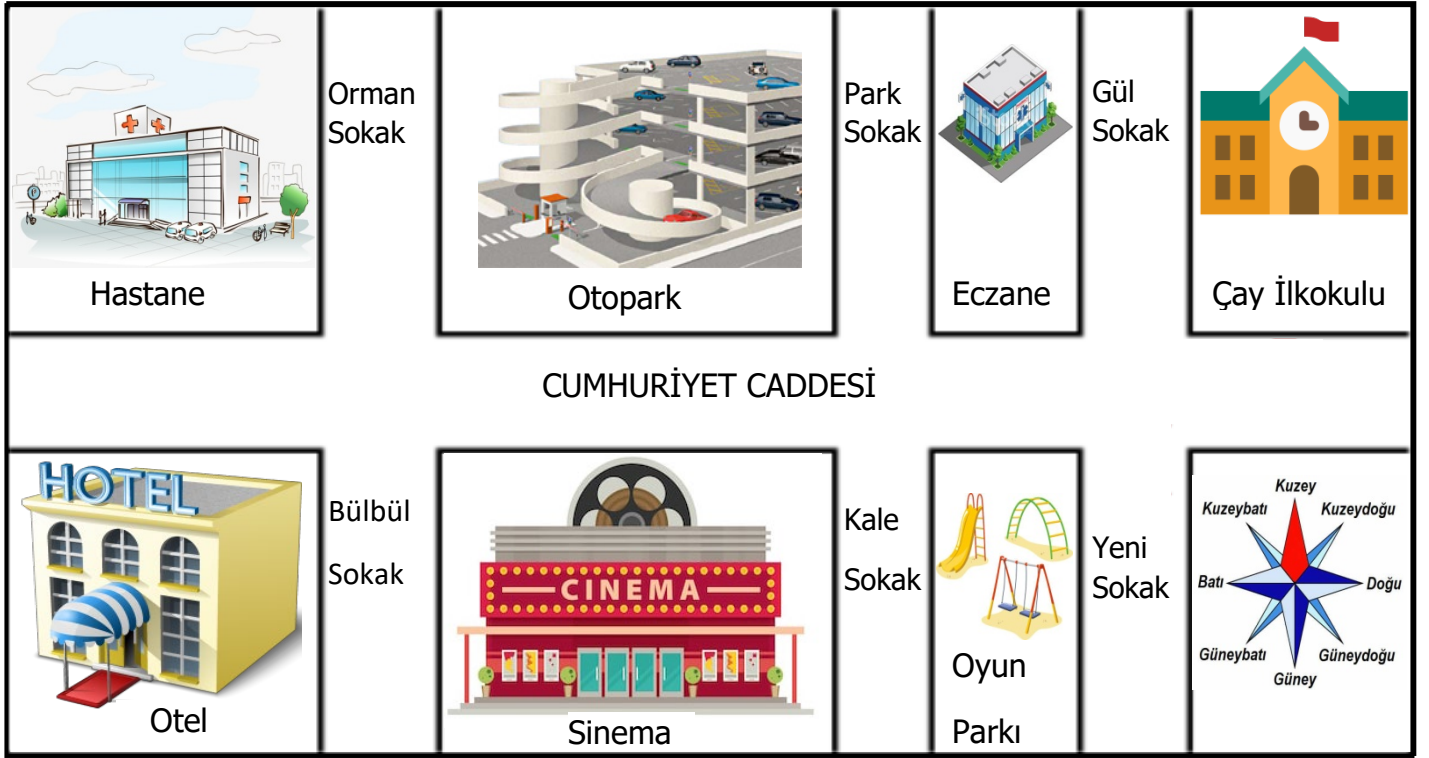
➤ Krokiye göre kuzeydoğuda hangi yapı var?

.....

➤ Çiçek sitesinin doğusunda ve batısında hangi yapılar var?

.....

Aşağıdaki soruları krokiye göre yanıtlayınız.



➤ Otoparkın doğusunda ve batısında hangi yapılar var?

.....

➤ Krokiye göre güneybatıda hangi yapı var?

.....

➤ Sinemanın kuzeydoğusunda hangi yapı var?

.....

➤ Kale Sokak'ın kuzeyinde hangi sokak bulunmaktadır?

.....

➤ Orman Sokak'ın doğusunda ve batısında hangi yapılar bulunmaktadır?

.....

➤ Krokiye göre Cumhuriyet Caddesi'nin güneyinde neler var?

.....

➤ Okul krokiye göre hangi yönde kalmaktadır?

.....

➤ Oyun parkı hastaneye göre hangi yönde kalmaktadır?

.....