

Tilki ile kedi sohbet ediyorlarmış. Tilki durmadan hilekar ve kurnaz olduğunu anlatıyormuş. Söylediğine göre düşmanları onu alt edemezmiş. Çünkü onlardan kurtulacak bir sürü oyun ve hile biliyormuş. Kedi biraz da utanarak "Ben fazla oyun bilmem ki." demiş. "Düşmanlarımın elinden kurtulmak için tek bir yol bilirim. O da kaçmaktır. Tilki: "Kedi kardeş." demiş. "Ben her tehlike karşısında başımın çaresine bakabilirim. Ama senin durumuna üzülüyorum. Korkarım bir gün seni çabuk alt edecek." Az sonra bir sürü tazının bağrıışmalarını duymuşlar. Avcılara ait bu köpekler bütün hızlarıyla kendilerine doğru koşuyormuş. Kedi hemen yanındaki ağacın dallarına sıçrayarak üstteki bir yaprak kümesinin içine saklanmış. Tilki ise acaba şu hileyi mi yapsam yoksa bu hileyi mi diye düşünmeye başlamış. Çünkü o kadar hile biliyormuş ki hangisini uygulamasının doğru olacağına bir türlü karar veremiyormuş. Tam birisini uygulayacakmış ki tazılar etrafını çevirip tilkinin işini bitirmişler. Bütün olanları yukarıdan seyreden kedi çok hile bilmediğine şükretmiş.

### Günün Özdeyişi

Anlamını bilmediğiniz kelimeleri sözlükte bulup yazınız, cümle içinde kullanınız.

.....

Cümle:.....

.....

Cümle:.....

### Metinle ilgili sorulara cevap verin.

1.Tilki, hangi konuda övünüyor?

2. Kedi, köpeklerden nasıl kurtulmuş?

3. Tilki kedi için neden üzülüyormuş?

### Metinle ilgili iki soru yazıp cevaplayın.

1. ....?

2. ....?

### Tatilde ne yaptığımızı kısaca anlatalım.

.....

.....

.....

.....

.....

.....

.....

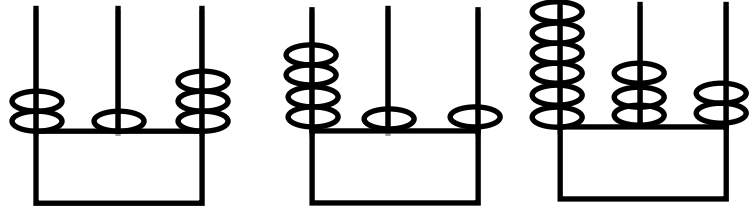
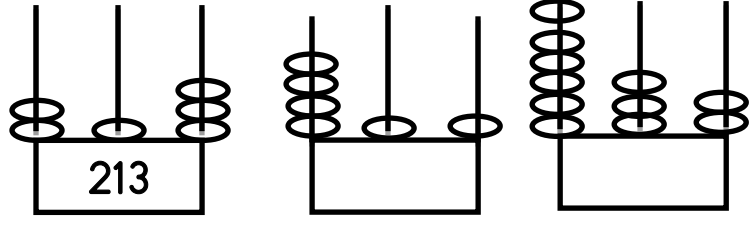
.....

.....

.....

# MATEMATİK - FEN BİLİMLERİ - HAYAT BİLGİSİ

Verilen abaküslerdeki sayıları altlarına yazın.



Verilen toplama ve çıkarma işlemlerini yapınız.

$\begin{array}{r} 47 \\ +23 \\ \hline \end{array}$	$\begin{array}{r} 38 \\ +29 \\ \hline \end{array}$	$\begin{array}{r} 57 \\ +17 \\ \hline \end{array}$	$\begin{array}{r} 29 \\ +20 \\ \hline \end{array}$
--	--	--	--

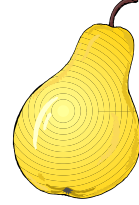

$\begin{array}{r} 67 \\ +32 \\ \hline \end{array}$	$\begin{array}{r} 59 \\ +35 \\ \hline \end{array}$	$\begin{array}{r} 70 \\ +28 \\ \hline \end{array}$	$\begin{array}{r} 28 \\ +28 \\ \hline \end{array}$
--	--	--	--

$\begin{array}{r} 97 \\ -23 \\ \hline \end{array}$	$\begin{array}{r} 86 \\ -55 \\ \hline \end{array}$	$\begin{array}{r} 63 \\ -43 \\ \hline \end{array}$	$\begin{array}{r} 87 \\ -53 \\ \hline \end{array}$
--	--	--	--

$\begin{array}{r} 73 \\ -29 \\ \hline \end{array}$	$\begin{array}{r} 66 \\ -28 \\ \hline \end{array}$	$\begin{array}{r} 80 \\ -43 \\ \hline \end{array}$	$\begin{array}{r} 65 \\ -27 \\ \hline \end{array}$
--	--	--	--

$\begin{array}{r} 58 \\ +19 \\ \hline \end{array}$	$\begin{array}{r} 90 \\ -27 \\ \hline \end{array}$	$\begin{array}{r} 59 \\ +21 \\ \hline \end{array}$	$\begin{array}{r} 92 \\ -55 \\ \hline \end{array}$
--	--	--	--

Verilen nesnelardan dünyanın şekline benzeyenleri işaretleyin.



Yaz tatilinizi nasıl geçirdiğinize dair bir resim çizin.