

2. Sınıf - Sene Başı Durum Tespit Değerlendirmesi

TÜRKÇE

Nasreddin Hoca bir gün bir işi için Konya'ya gitmiş. Yolda giderken bir adam Hoca'yı durdurmuş:

– Pardon amca, bugün ayın kaçı biliyor musun? demiş. Hoca:

– Ne bileyim yahu! Ben buraların yabancısıyım, demiş.

1. Hoca nereye gitmiş?

.....

2. Hoca neden Konya'ya gitmiş?

.....

3. Hoca'yı kim durdurmuş?

.....

Verilen kelimelerin zıt anlamlarını yanlarına yazın.

zengin:

yukarı:

yakın:

kalin:

büyük:

sıcak:

Verilen cümlelerin sonlarına uygun noktalama işaretlerini koyun.

Okullar açıldığı için çok mutluyum ()

Akşam erkenden uyudum ()

Onu daha önce gördün mü ()

Oh nihayet okullar açıldı ()

Bu sene hangi sınıfta olacağız ()

Uzaktan eğitim olsun istemiyoruz ()

Ay bu ne kadar tatlı bir kedi ()

Doruk bugün kaç sayfa okudun ()

Verilen kelimeleri hecelerine ayıralım.

kelebek :

matematik:

Türkçe :

fırtına :

kalabalık :

gurur :

Verilen cümlelerdeki yazım yanlışlarını bulup yanlarına doğrusunu yazalım.

bu sabah berat mersinden döndü



cemre bu yıl okul'a başlayacak?



esra tatil'de kırşehirde olacakmış



Mahmut Çürük

Verilen kelimelerdeki sesli ve sessiz harfleri yazalım.

Kelimeler

Sesli h.

Sessiz h.

Kelimeler

Sesli h.

Sessiz h.

İstanbul

ayırmak

kömürlük

Beşiktaş

Kalecik

oduncu

Verilen kelimelerden kurallı ve anlamlı cümleler oluşturup altlarına yazalım

okula

bugün

başladı

Cemre

sevdi

Eymen

Doruk'u

çok

sabah

uyandı

Esra

erken

yatma

akşam

geç

Betül

Verilen kelime gruplarından cümle olanları işaretleyelim.

Bu sabah erkenden

Efe dün akşam halasına

Seni seviyorum

Erkenden uyu

Ali gel

Kaan bizde kaldı

Dün gece sabaha kadar yağmur

Arda okula gidince çok

Verilen kelimeleri alfabetik sıraya göre sıralayalım.

deniz

balık

göl

kömür

odun

mangal

tuz

biber

şeker

sekiz

dokuz

yedi

Mahmut Çürük

MATEMATİK

Verilen toplama işlemlerini yapalım.

$9 + 6 =$

$8 + 8 =$

$7 + 5 =$

$9 + 7 =$

$8 + 5 =$

$$\begin{array}{r} 7 \\ + 7 \\ \hline \end{array}$$

$$\begin{array}{r} 9 \\ + 8 \\ \hline \end{array}$$

$$\begin{array}{r} 6 \\ + 6 \\ \hline \end{array}$$

$$\begin{array}{r} 9 \\ + 9 \\ \hline \end{array}$$

$$\begin{array}{r} 8 \\ + 6 \\ \hline \end{array}$$

$$\begin{array}{r} 8 \\ + 7 \\ \hline \end{array}$$

Verilen çıkarma işlemlerini yapalım.

$9 - 6 =$

$8 - 5 =$

$7 - 5 =$

$9 - 7 =$

$9 - 5 =$

$$\begin{array}{r} 12 \\ - 7 \\ \hline \end{array}$$

$$\begin{array}{r} 15 \\ - 8 \\ \hline \end{array}$$









$$\begin{array}{r} 13 \\ - 6 \\ \hline \end{array}$$

$$\begin{array}{r} 11 \\ - 5 \\ \hline \end{array}$$

$$\begin{array}{r} 14 \\ - 9 \\ \hline \end{array}$$

$$\begin{array}{r} 16 \\ - 7 \\ \hline \end{array}$$

Verilen saatleri altlarına yazalım. İstenilen saatleri çizelim.



09 . 00

06 . 00

06 . 30

11 . 30

04 . 30

Verilen bütün ve yarım sorularını cevaplandırın.

1 bütün =yarım

2 bütün =yarım

3 bütün =yarım

2 yarım =bütün

4 yarım =bütün

6 yarım =bütün

1 bütün =çeyrek

2 bütün =çeyrek

3 bütün =çeyrek

4 çeyrek =bütün

8 çeyrek =bütün

2 yarım =çeyrek

Verilen paraların değerlerini yazın.



Verilen örüntüleri devam ettirin. Boş Yerleri doldurun.

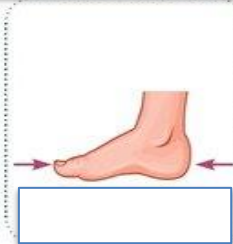
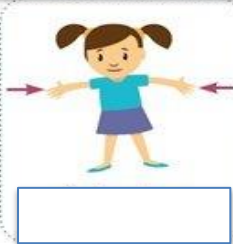


A-B-A-B-A-B-A-B-

M-M-N-N-M-M-N-N-

D-C-B-D-C-.....-D-.....-B

C-D-B-.....-D-B-C-.....-B





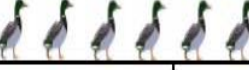
Verilen uzunluk ölçülerinin adlarını yazalım.



Mahmut Çürük

Verilen tabloya göre soruları cevaplayalım.

KÜMESTEKİ HAYVANLAR TABLOSU

HOROZ	
TAVUK	
HİNDİ	
CİVCİV	
ÖRDEK	

Kümeşte en fazla hangi hayvan vardır?.....

Kümeşte en az hangi hayvan vardır?.....

Tavuklar, ördeklerden kaç fazladır?.....

Horoz ve hindilerin toplamı kaçtır?.....

Cıvciv ile ördeklerin toplamı kaçtır?.....

Kümeşte toplam kaç hayvan vardır?.....

Haftanın günlerini ve yılın aylarını sırası ile yazın.

Günler :

Aylar :

İkişer yirmiye, beşer ve onar yüze kadar ritmik sayma yazalım.

İkişer :

Beşer :

Onar :

Verilen problemleri çözelim.

Doruk 4 yaşındadır. Ablası, Doruk'tan 3 yaş büyüktür. Ablası kaç yaşındadır?

Annem 15 TL verdi. 6 TL'si ile şeker aldım. Kaç TL param kaldı?

13 yumurtadan 8 tanesi kırılırsa kaç sağlam yumurta kalır?

Sabah 7, akşam 9 sayfa okuyup kitabımı bitirdim. Kitabım kaç sayfadır?

HAYAT BİLGİSİ

Verilen bayram ve özel günler ile tarihlerini eşleştirelim.

Atatürk'ü Anma ve Gençlik ve Spor Bayramı

29 Ekim

Cumhuriyet Bayramı

30 Ağustos

Ulusal Egemenlik ve Çocuk Bayramı

15 Temmuz

Milli Birlik ve Demokrasi Günü

19 Mayıs

Zafer Bayramı

23 Nisan

Olaylar ve günlerini eşleştirelim.

Düşmanı kesin olarak yendiğimiz tarih

29 Ekim

TBMM'nin açılması

30 Ağustos

Atatürk'ün Samsun'a çıkması

15 Temmuz

Cumhuriyetin ilan edilmesi

19 Mayıs

Hain darbe girişimi

23 Nisan

Aşağıdaki numaraları eşleştirelim.

Jandarma

Ambulans

Polis

İtfaiye

155

112

110

156

Mevsimplere ait iki özellik yazalım.

İlkbahar: 1.

Yaz: 1.

2.

2.

Sonbahar: 1.

Kış: 1.

2.

2.

Mahmut Cürük

Dođru ifadelere D, yanlıř ifadelere Y yazın.

Boř yerlere uygun kelimeleri yazın.

Tarak bir kiřisel bakım eřyasıdır.
Sađlıđımız iin ařı olmalıyız.
Dünya, Güneř'ten daha büyüktür.
Dünya, Ay'ın etrafında döner.
Gömen kuřlar sonbaharda dönerler.
Hasat mevsimi kıştır.
Yabancı insanlarla konuřmamalıyız.
Evimizin adresini herkese söylememeliyiz.
Kırmızı ıřıkta geçmeliyiz.
Pamukkale bir dođal güzelliktir.
Beslenmek bir istektir.
İstekler, ihtiyalardan önce gelir.
Kaynakları dikkatli kullanmalıyız.
Dođal kaynaklar sınırsız deđildir.
İstiklal Marřının yazarı Atatürk'tür.
Atatürk'ün annesi Zübeyde Hanım'dır.
Atatürk'ün babası Ali Rıza Efendi'dir.
Ramazan Bayramı dini bir bayramdır.
Her atıđın geri dönüşümü olmaz.
Ülkemizin başkenti Ankara'dır.
Dengeli ve düzenli beslenmeliyiz.

jandarmanın	eđlenmek	milli
amca	sonbaharda	polisin
annesi	Zafer	kardeři
Cumhuriyet	dini	yeřil
ilkbaharda	giyinmek	dayı

30 Ađustos,Bayramıdır.

155,numarasıdır.

29 Ekim,Bayramıdır.

156,numarasıdır.

.....bir ihtiyatır.

.....bir istektir.

Annemizin erkek kardeřine,denir.

Babamızın erkek kardeřine,denir.

Makbule Hanım, Atatürk'ündir.

Zübeyde Hanım, Atatürk'ündir.

Okullaraılır.

Havalar.....ısınmaya bařlar.

Kurban Bayramı.....bayramdır.

Zafer Bayramı.....bayramdır.

.....ıřıkta geçmeliyiz.

Ařađıya evinizin adresini yazın.

Mahmut Cürük