





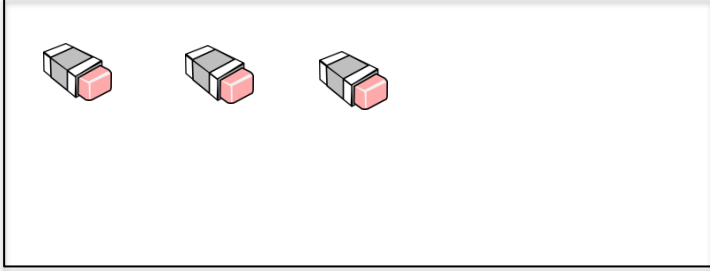

Adı:.....

Soyadı:.....



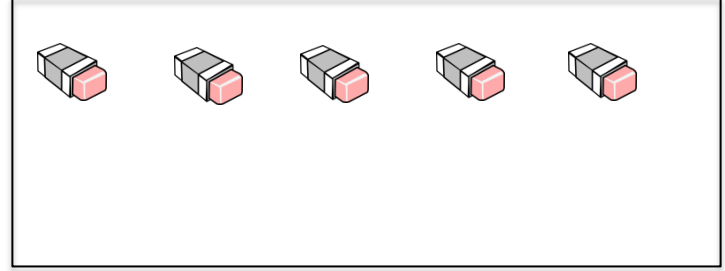

# DESTE - DÜZİNE ETKİNLİĞİ

Veli imzası

Aşağıda verilenlerin bir deste olmasını sağlayın.



Aşağıda verilenlerin bir düzine olmasını sağlayın.



# DESTE DÜZİNE PROBLEMLERİ

2 deste kalemimin kaç tanesini kullanırsam 7 kalemim kalır?

2 düzine kalem ile 2 deste kalem kaç kalem eder?

46 yumurtanın üç düzinesi kırıldı. Kaç yumurta kalmıştır?

Sınıftaki öğrencilerden 2 destesi erkektir. Sınıfta 42 öğrenci olduğuna göre kaç kız öğrenci vardır?

Bir bahçede 3 düzine çam, 2 düzine kavak ağacı vardır. Bahçede kaç ağaç vardır?

4 düzine kalemden 2 düzinesini kullandım. Kaç kalemim kaldı?

16 tane misketim var. Kaç misketim daha olsaydı 2 düzine misketim olurdu?

3 deste ile 2 düzine arasında kaç fark vardır?

15 tane balonun iki deste olması için daha kaç balon gerekir?

Ağaçtaki 35 kuştan kaç tanesi uçarsa 2 düzine kuş kalır?

Bir bakkal, sabah 4 deste, akşam 4 düzine ekmek sattı. Bakkal kaç ekmek satmıştır?

Bir bakkal, 4 düzine yumurtanın 31 tanesini sattı. Kaç yumurta kalmıştır?