

Küçük kız, yolda yürürken hüzünlü bir yabancıya tebessüm etti. Bu tebessüm yabancı adamın kendisini daha iyi hissetmesine sebep oldu. Bu hava içindeyken, yakın geçmişte kendisine yardım eden bir dostu teşekkür etmediğini hatırladı. Hemen bir not yazdı ve arkadaşına yolladı. Arkadaşı bu teşekkür kadar keyiflendi ki, her öğlen yemek yediği lokantada garson kıza yüklü bir bahşiş bıraktı. Garson kız buna çok mutlu oldu. Garson kız ilk defa böyle bir bahşiş alıyordu. Akşam eve giderken kazandığı paranın bir parçasını, her zaman köşe başında oturan fakir adamın şapkasına bıraktı. Adamın sevincine diyecek yoktu. Çünkü iki gündür boğazından aşağı lokma geçmemişti. Karnını güzelce doyurduktan sonra, bir apartmanın bodrumundaki tek odalı evinin yolunu ıslık çalarak tuftu. Öyle neşeliydi ki, bir saçak altında titreyen köpek yavrusunu görünce evine götürdü. Küçük köpek gecenin soğğundan kurtulduğu için mutluordu. Sıcak odada sabaha kadar koşuşturdu. Gece yarısından sonra apartman dumanlar sardı, yangın başlıyordu. Dumanı koklayan köpek öyle bir havlamaya başladı ki; önce fakir adam uyandı, sonra bütün apartman halkı. Anneler, babalar dumandan boğulmak üzere olan yavrularını kucaklayıp ölümden kurtardılar. İşte bütün bunların hepsi beş kuruşluk bile maliyeti olmayan bir tebessümün sonucuydu.

Günün Özdeyişi

Verilen cümlelerde yazım yanlışlarını düzeltiniz.

ali ile ayşenin amcası gebzede oturuyormuş.

oyanın Köpeği karabaş sokak'ta kaybolmuş

ezel berra denizlide gül sokakta yaşıyor

deryanın Yeni oyuncayını gördünmü

Metinle ilgili sorulara cevap verin.

1. Fakir adama kim para vermiş?

2. İnsanları yangından kim kurtarmış?

3. Adam, kıza neden yüksek bir bahşiş bırakmış?

Metinle ilgili iki soru yazıp cevaplayın.

1.? ?

2.? ?

Kendinizi, ilgi ve yeteneklerinizi anlatan bir yazı yazın.

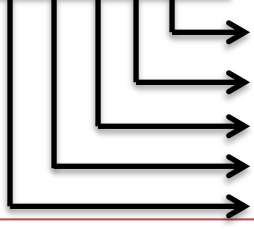
MATEMATİK - FEN BİLİMLERİ - SOSYAL BİLGİLER

Verilen rakamlarla en büyük ve en küçük 5 ve 6 basamaklı sayıları yazıp okunuşlarını yazın. Basamak ad ve değerlerini yazın. Çözümlenmesini yapın.

6 - 1 - 8 - 3 - 0 - 2

5 basamaklı

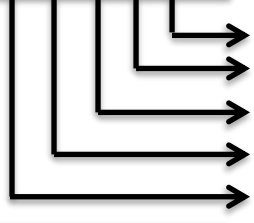
En küçük sayı:



B.adı

B.değeri

En büyük sayı:

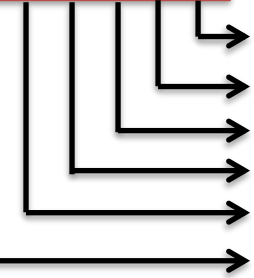


B.adı

B.değeri

6 basamaklı

En küçük sayı:



B.adı

B.değeri

Bir fosil resmi bulup yapıştırınız. Fosillerin nasıl oluştuğunu yazınız.

.....

.....

.....

.....

.....

.....

.....

.....

.....

.....

Yaşam öyküsünü kısaca yazınız.

.....

.....

.....

.....

.....

.....

.....

.....

.....

.....

.....

.....

.....

.....

.....

.....

.....

.....

.....

.....

.....

.....

.....

PROBLEM KÖŞESİ

1. Bir kasa elma 45 TL ise 5 kasa elma kaç TL olur?
2. Tanesi 4 TL olan şekerden 100 TL'ye kaç tane alırım?