

FEN BİLİMLERİ 3. SINIF



Adı Soyadı :


Numarası :

Konu: Ben ve Çevrem

Aşağıdaki görsellerde yaşadığımız yerlerin adlarını yazınız.



.....



.....

Market

Okul

Ev


Park

Manav

Deniz

Orman

Sokak




.....




.....



.....



.....




.....



.....

Aşağıdaki görsellerden hangisi doğru davranışlara örnektir. İşaretleyiniz



Aşağıdaki ifadeleri uygun sözcüklerle eşleştiriniz.

Fabrikaların bacalarından çıkan gazlar

Temizlik amacıyla evlerde kullandığımız temizlik malzemeleri

Çevreye atılan çöpler ve piller

Toprak kirliliği

Hava kirliliği

Su kirliliği

Aşağıda verilen atık maddeleri uygun olan geri dönüşüm kutusu ile eşleştiriniz.



Aşağıdaki cümlelerde noktalı yerlere uygun sözcükler yazalım.

çevre temizliğine

düzenli

piller

çevre

kolaylaştırır

canlılara

geri dönüşüm

paylaşırız

- İnsanların doğup büyüdüğü, yaşadığı, eğitim gördüğü çalıştığı ve dinlendiği alanadenir
- Çevremizdeki atık maddeler kutularına atılmalıdır.
- Sınıfımızı olarak havalandırmalıyız.
- Yaşadığımız çevreyi başka insanlarla ve başka canlılarla
- önce evimizden ve okulumuzdan başlamalıyız.
- Toprağın, havanın ve suyun kirlenmesi tüm zarar verir.
- Bir insanın yaşadığı çevreyi tanıması günlük hayatını
- Kullanılmış çevreye atılmamalıdır.

Aşağıdaki görsellerden doğal çevre olanların altına "D", yapay çevre olanların altına "Y" yazınız.



Aşağıdaki cümlelerden doğru olanların başına "D", yanlış olanların başına "Y" yazınız.

- () Dağ, orman, ova, göl ve akarsu gibi doğada kendiliğinden var olan çevreye doğal çevre adı verilir.
- () Ormanların azalması doğal çevreye faydalıdır.
- () Doğal çevre insanlar tarafından oluşturulmuştur.
- () Doğal çevre bozulursa canlıların yaşam alanları kısıtlanır.
- () İnsanların oluşturduğu ve doğada kendiliğinden bulunmayan çevreye yapay çevre denir.
- () Yapay çevreler ihtiyaçları gidermek için oluşturulur.
- () Dereler, denizler yapay çevreye örnektir.
- () Plastik atıklar doğal çevreye zarar vermez.
- () Doğal çevreyi en fazla kirleten canlılar insanlardır.
- () Okul, cami, market ve yollar yapay çevreye örnektir.

Aşağıdaki tabloda çevremizdeki doğal ve yapay unsurları işaretleyiniz.

Çevre	Doğal Çevre	Yapay Çevre
Göl		
Tünel		
Orman		
Apartman		
Şelale		
Baraj		
Mağara		
Akarsu		
Stadyum		

Aşağıdaki görsellerde doğal anıt ve milli park alanlarını altlarına yazınız.



.....



.....



.....



.....



.....



.....



.....



.....

Aşağıdaki cümlelerde noktalı yerlere uygun sözcükler yazalım.

dağlar

turizm

doğal anıt

İnkaya Çınarı

milli park

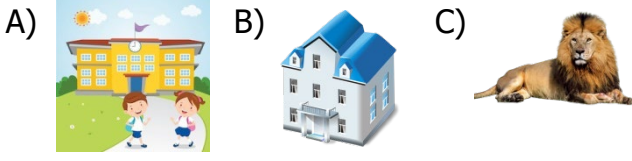
doğal

hayvanlar

kurallara

- Yer kabuğunun değişim sürecinde oluşan ve görülmeye değer varlıklara adı verilir.
- Mağaralar, şelaleler, ormanlar, ovalar ve doğal anıtlardır.
- çevreyi bozan her türlü davranışlardan uzak durmalıyız.
- Porsuk ağacı ve da doğal anıttır.
- Devlet tarafından korumaya anılan alanlara adı verilir.
- Milli parklarda görülmeye değer bitki ve da yaşar.
- Doğal anıtlar ve milli parklar açısından önemlidir.
- Milli parklar ve ağaçlara zarar vermemeli, yerlere çöp atmamalı, yetkililerin koyduğu kurallara davranmalıyız.

1 Aşağıdakilerden hangisi yakın çevrede gördüğümüz varlıklardan biri değildir?



2 Aşağıda verilen doğal ve yapay çevrelerin hangileri doğru verilmiştir?

Doğal Çevre

Yapay Çevre

- | | |
|----------------|--------|
| A) Çocuk parkı | Market |
| B) Orman | Okul |
| C) Tünel | Mağara |

3 Aşağıdakilerden hangisi çevre kirliliğini önlemenin yollarından biridir?

- A) Toplu taşıma araçları yerine kendimize ait araçları kullanmalıyız.
B) Geri dönüşü ürünleri kullanılmalıyız.
C) Mutfaktaki atık yağlar lavabolara dökmeliyiz.

4 Aşağıdakilerden hangisi toprağın kirlenmesine sebep olur?

- A) Bitki ve hayvan kalıntıları
B) Ağaçlardan dökülen yapraklar
C) Pet şişeler ve atık piller

5 Aşağıdakilerden hangisi doğal anıtlara örnek verilemez?

- A) Kaçkar Dağları
B) Peribacaları
C) Pamukkale

6 Aşağıdakilerden hangisi çevre kirliliğine neden olmaz?

- A) Fabrika bacalarından çıkan dumanlar
B) Çevreye atılan piller
C) Hayvansal gübreler

7 Aşağıdakilerden hangisi geri dönüşümün sağladığı yararlarından biri değildir?

- A) Doğal kaynakları korumuş oluruz.
B) Çevreyi temiz tutmamızı sağlar.
C) Sel, oluşmasını engeller.

- | | | |
|------------|-----------|---------|
| 1)Şelale | 4) Deniz | 7) Cami |
| 2)Apartman | 5) Mağara | 8) Dağ |
| 3)Göl | 6) Köprü | 9)Havuz |

8 Yukarıdakilerden kaç tanesi doğal çevreye örnektir?

- A) 4 B) 5 C) 6

9 Aşağıdaki görsellerden hangisinin geri dönüşüm kutusuna atılamaz?

- A) Pet şişe
B) Cam bardak
C) Odun

10 Yaşadığımız çevrenin temizliğinde görev alan bir kişi aşağıdakilerden hangisini yapmaz?

- A) Kullanılan yağları lavaboya döker.
B) Yerlere çöp atanları uyarır.
C) Atık maddeleri geri dönüşüm kutusuna atar.