

FEN BİLİMLERİ 3. SINIF


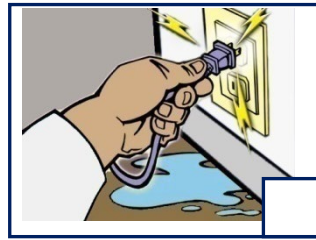


Adı Soyadı :

Numarası :

Konu: Elektriğin Güvenli Kullanımı


Aşağıdaki görsellerde verilen elektrikli araç gereçlerin ve elektrik kaynaklarının kullanımıyla ilgili olarak doğru davranışlara "D", yanlış davranışlara "Y" yazınız.



Aşağıdaki cümlelerden doğru olanların başına "D", yanlış olanların başına "Y" yazınız.

- () Elektrikli araç ve gereçler dikkatli kullanılmadıklarında yangına, can ve mal kaybına neden olabilirler.
- () Elektrik prizlerine çatal, bıçak, çivi ve vida gibi cisimlerin sokulması tehlike yaratmaz.
- () Her elektrikli araç gerecin kullanım şekli farklıdır.
- () Küçük çocukların elektriğin olumsuz etkilerinden korumak için elektrik prizlerinin üzeri açık bırakılmalıdır.
- () Elektrik araç ve gereçlerden koku geldiğinde hemen fişi çekilmelidir.
- () Yerinden çıkmış prizlere ve kablosu sıyrılmış telleri tamir edebiliriz.
- () Elektrikli araç ve gereçleri kapatmadan fişten çekebiliriz.
- () Elektrik direklerine yakın yere oyun oynamamalı ve sarkan kablolara dokunmamalıyız.
- () Elektrikli araç ve gereçleri kullanırken kullanma kılavuzuna bakmak gerekir.
- () Elektrik direklerinden sarkan telleri tutarak bir kenara koyabiliriz.

Aşağıdaki görsellerde verilen elektrik çarpmasına yapılan müdahalenin hangisi doğrudur?



Aşağıdaki cümlelerde noktalı yerlere uygun sözcükler yazalım.

temas

büyüğünüze

kılavuzu

kabloları

uzmana

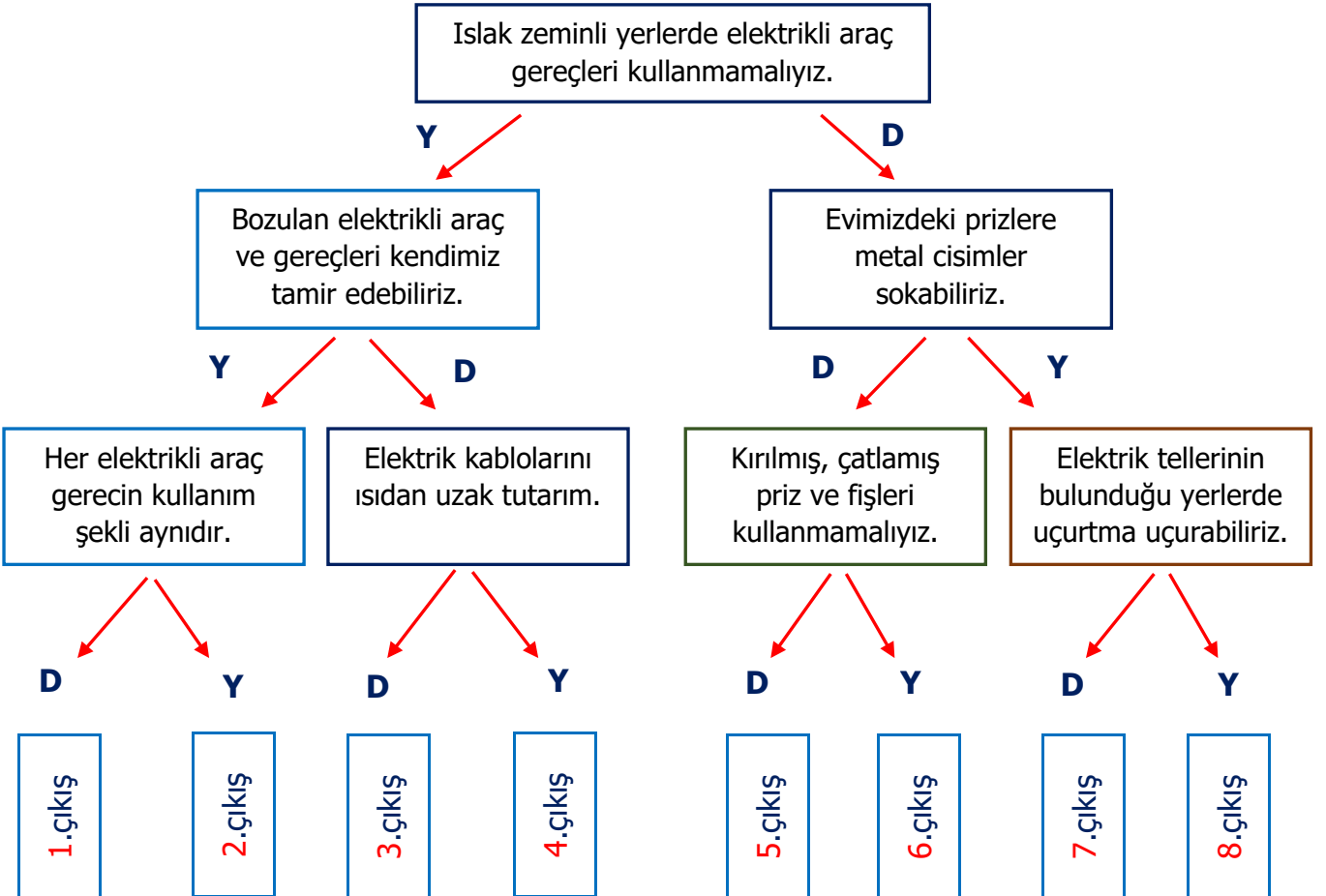
su

cisim

gövdelerinden

- Elektrik araç ve gereçlerini kullanmadan önce kullanma dikkatli bir şekilde okunmalıdır.
- Bozulan elektrikli araç gereçler bir tamir ettirilmelidir.
- Elektrikli araç gereçler çalışırken elektrik kabloları ile etmemesine özen gösterilmelidir.
- Şehir elektriği ile çalışan araç gereçler kaynaklarının yakınında kullanılmamalıdır.
- Taşınabilir elektrikli ev araç gereçleri tutularak hareket ettirilmelidir.
- Elektrik prizlerine herhangi bir sokmamalıyız.
- Sarkan bir elektrik kablosu ile karşılaşırsanız hemen bir haber vermelisiniz.
- Zarar görmüş yenisiyle değiştirmeliyiz.

Aşağıdaki ifadeleri doğru ise "D", yanlış ise "Y" okunu takip ederek çıkışa gidelim.





1 Yukarıdaki görsel ile ilgili ifadelerden hangisi doğrudur?

- A) Çocukların prizlerle oynamasında herhangi bir sakınca yoktur.
- B) Çocukları elektriğin olumsuz etkilerinden korumak için prizlerin üzeri kapatılmalıdır.
- C) Çocuklar evde her türlü ev aletini kullanabilir.

- ★ Elektrikli aletleri kullanım kılavuzuna uygun kullanırım.
- Elektrikli aletleri sürekli prizde takılı tutarım.
- ▲ Elektrikli aletleri ısdan uzak tutarım.

2 Yukarıda verilen ifadelerden hangileri doğrudur?

- A) ★ ■ B) ▲ ■ C) ★ ▲

3 Aşağıdaki davranışlardan hangisi tehlikeli bir davranıştır?

- A) Elektrikli aletleri kablosundan tutarak çekerim.
- B) Elektrikli aletleri çalışır durumda hareket ettirmem.
- C) Sarkan elektrik kablosu ile karşılaşsam hemen büyüklerime haber veririm.

4 Aşağıdaki ifadelerden hangisi güvenlik önlemleri açısından doğrudur?

- A) Elektrik direklerine yakın yerlerde oyun oynamamalı
- B) Elektrik prizlerinde elektrik olup olmadığını çivi kullanarak öğrenebiliriz.
- C) Islak zeminli yerlerde saç kurutma makinesi kullanabiliriz.

5 Aşağıdakilerden hangisi elektrik çarpmasına neden olabilecek durumlardan biridir?

- A) Elektrikli araçları kapattıktan sonra fişten çekmek.
- B) Elektrik direklerinden sarkan tellere dokunmak.
- C) Elektrik tellerinin geçtiği yerlerde uçurtma uçurmamak.

6 Elektrik çarpan bir kişiye yardımcı olunurken aşağıdakilerden hangisi yapılmamalıdır?

- A) Elektrik çarpan kişiyi çıplak ellerimizle müdahale etmeliyiz.
- B) Çarpmaya neden olan aracı bir odun parçasıyla uzaklaştırmalıyız.
- C) Hemen elektrik şalterini kapatmalıyız.

7 Elektriğin güvenli kullanımı ile ilgili aşağıdaki ifadelerden hangisi yanlıştır?

- A) Elektrikli araç gereçleri kullanma kılavuzuna uygun kullanırım.
- B) Çocukları elektriğin olumsuz etkilerinden korumak için prizlerin üzeri kapatılmalıdır.
- C) Yıpranmış elektrik prizlerini kendimiz tamir edebiliriz.

- 1) Elektrik kablolarının üzerine ağır yük koymamalıyız.
- 2) Çalışan elektrikli araç gereçlere ıslak elle dokunabiliriz.
- 3) Elektrik aletlerini kapatmadan fişten çekebiliriz.

8 Yukarıdaki ifadelerden hangileri yanlıştır?

- A) 2 ve 3 B) 1 ve 2 C) 1 ve 3