



Adı Soyadı : .....

Numarası : .....

Çalışma Kağıdı

Konu: Elektrikli Araçlar Ünite Değerlendirmesi

1 Aşağıdaki araç gereçlerin hangisi elektrikle çalışır?

- A)  B)  C) 



2 Yukarıdaki araçların kullandığı elektrik kaynakları aşağıdakilerden hangisinde doğru verilmiştir?

- A) Pil – şehir elektriği  
B) Akü – batarya  
C) Pil - akü



3 Yukarıdaki görsel ile ilgili ifadelerden hangisi doğrudur?

- A) Çocukların prizlerle oynamasında herhangi bir sakınca yoktur.  
B) Çocukları elektriğin olumsuz etkilerinden korumak için prizlerin üzeri kapatılmalıdır.  
C) Çocuklar evde her türlü ev aletini kullanabilir.

4 Aşağıdaki elektrikle çalışan araç hangi alanda kullanılmaktadır?

- A) Isıtma  
B) Soğutma  
C) Aydınlatma



5 Yukarıdaki elektrik kaynakları hangi şıkta sırasıyla verilmiştir?

- A) Batarya – akü – şehir elektriği - pil  
B) Şehir elektriği – pil – akü - batarya  
C) Pil – batarya – akü – şehir elektriği

6 Aşağıdaki davranışlardan hangisi tehlikeli bir davranıştır?

- A) Elektrikli aletleri kablosundan tutarak çekerim.  
B) Elektrikli aletleri çalışır durumda hareket ettirmem.  
C) Sarkan elektrik kablosu ile karşılaşsam hemen büyüklerime haber veririm.

7 Aşağıdaki eşleştirmelerden hangisi yanlıştır?

- A) Çamaşır makinesi → Temizlik  
B) Tablet → Aydınlatma  
C) Otomobil → Ulaşım

8 Aşağıda elektrik kaynakları ile ilgili verilen bilgilerden hangisi yanlıştır?

- A) Pil elektrik kaynağıdır.  
B) Elektrikli ev aletleri akü ile çalışır.  
C) Cep telefonları batarya ile çalışır

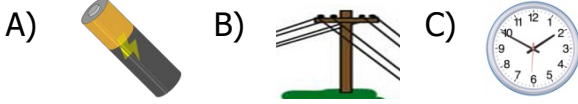
9 Aşağıdaki ifadelerden hangisi güvenlik önlemleri açısından doğrudur?




- A) Elektrik direklerine yakın yerlerde oyun oynanmamalı  
B) Elektrik prizlerinde elektrik olup olmadığını çivi kullanarak öğrenebiliriz.  
C) Islak zeminli yerlerde saç kurutma makinesi kullanabiliriz.

10 Aşağıdaki elektrikli araçlardan hangisinin kullanım amacı farklıdır?



11 Aşağıdakilerden hangisi elektrik kaynağı değildir?



-  Elektrikli aletleri ıstıdan uzak tutarım.  
 Elektrikli aletleri kullanım kılavuzuna uygun kullanırım.  
 Elektrikli aletleri sürekli prizde takılı tutarım.

12 Yukarıda verilen ifadelerden hangileri doğrudur?



13 Aşağıda verilen elektrikli araçların hangisi hastanelerde kullanılmaktadır?

- A) El feneri  
B) Röntgen cihazı  
C) Fırın

14 Aşağıdaki elektrik kaynaklarından hangisinin kullanım süresi daha fazladır?

- A) Batarya  
B) Akü  
C) Pil

15 Aşağıdakilerden hangisi elektrik çarpmasına neden olabilecek durumlardan biridir?

- A) Elektrikli araçları kapattıktan sonra fişten çekmek.  
B) Elektrik direklerinden sarkan tellere dokunmak.  
C) Elektrik tellerinin geçtiği yerlerde uçurtma uçurmamak.



16 Yukarıda verilen elektrikli araçların ortak özelliği hangisidir?

- A) Aydınlatma alanında kullanılır.  
B) Temizlik alanında kullanılır.  
C) Soğutma alanında kullanılır.


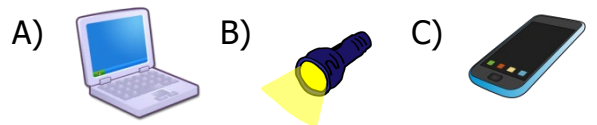
17 Pil hakkında verilen bilgilerden hangisi yanlıştır?

- A) Atık pilleri geri dönüşüm kutusuna atmalıyız.  
B) Atık pilleri çöp kutularına atmalıyız.  
C) Atık pilleri azaltmak için şarj edilebilen piller kullanmalıyız.

18 Elektrik çarpan bir kişiye yardımcı olunurken aşağıdakilerden hangisi yapılmamalıdır?

- A) Elektrik çarpan kişiyi çıplak ellerimizle müdahale etmeliyiz.  
B) Çarpmaya neden olan aracı bir odun parçasıyla uzaklaştırmalıyız.  
C) Hemen elektrik şartelini kapatmalıyız.

19 Aşağıdaki elektrikli araçlardan hangisi iletişim alanında kullanılmaz?



20 Yukarıdaki araçların hangileri şehir elektriği ile çalışır?

- A) Fırın – Çalar saat  
B) Saç kurutma makinesi - telefon  
C) Fırın – saç kurutma makinesi