


1)



Yukarıdaki onluğa yuvarlamada, noktalı yere aşağıdaki rakamlardan hangisi gelemez?

- A) 2 B) 3
C) 4 D) 5

2)



Serhat **2355** sayısına en yakın **onluğun** ve en yakın **yüzlüğün** yazılı olduğu meyveleri yiyecektir.

Buna göre Serhat **hangi** meyveleri yiyecek?

- A) Karpuz - Muz B) Elma – Çilek
C) Elma – Muz D) Karpuz – Çilek

3)

Altı bin yedi yüz otuz dört

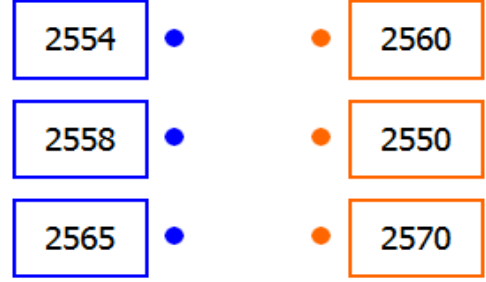
Yukarıda okunuşu verilen sayının en yakın **onluğa** yuvarlanmış hali aşağıdakilerden hangisidir?

- A) 6740 B) 6700
C) 6730 D) 6800

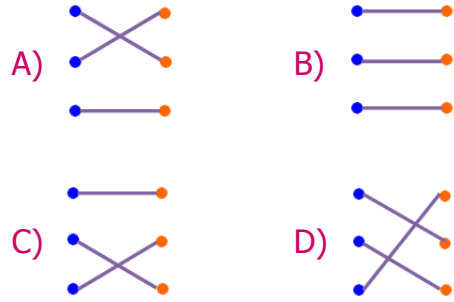
4) Aşağıdaki sayılardan hangisi en yakın **yüzlüğe** yuvarlanınca farklı bir sayı oluşur?

- A) 9876 B) 9847
C) 9885 D) 9852

5)



Yukarıdaki sayılarla en yakın **onluğa** yuvarlanmış halleri eşleştirildiğinde ortaya nasıl bir şekil çıkar?



6) **4287** sayısının en yakın onluğa yuvarlanmış hali aşağıdakilerden hangisidir?

- A) Dört bin üç yüz doksan
B) Dört bin iki yüz seksen
C) Dört bin iki yüz doksan
D) Dört bin üç yüz seksen

7)

❖	5261	⇒	5200
❖	1374	⇒	1400
❖	2222	⇒	2300
❖	6019	⇒	6100

Yukarıdaki en yakın **yüzlüğe** yuvarlamalardan kaç tanesi doğrudur?

- A) 1 B) 2
C) 3 D) 4

8) 2, 8, 5 ve 6 rakamlarını birer kez kullanarak oluşturulabilecek en büyük dört basamaklı sayı, en yakın **yüzlüğe** yuvarlanırsa hangi sayı elde edilir?

- A) 2900 B) 5700
C) 8600 D) 8700

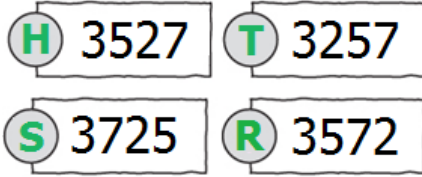
9)



Aşağıdaki sayılardan hangisinin en yakın yüzlüğü bulut içindeki sayı değildir?

- A) 5351 B) 5453
C) 5380 D) 5439

10)



Yukarıda her biri bir harf ile eşleştirilen sayıların büyükten küçüğe doğru dizilişi aşağıdakilerden hangisidir?

- A) R – H – T – S B) H – R – T – S
C) S – R – H – T D) T – H – S – R

11)

3571 < < 3605

Aşağıdaki sayılardan hangisi noktalı yere yazılamaz?

- A) 3578 B) 3582
C) 3599 D) 3566

12)



Yukarıdaki ürünlerin ücretlerine göre, sayıların küçükten büyüğe doğru sıralanışı aşağıdakilerden hangisidir?

- A) Bilgisayar-Televizyon-Buzdolabı-Telefon
B) Telefon-Buzdolabı-Televizyon-Bilgisayar
C) Televizyon-Bilgisayar-Telefon-Buzdolabı
D) Buzdolabı-Televizyon-Telefon-Bilgisayar

13) Aşağıdaki sıralamalardan hangisi yanlıştır?

- A) 1692 < 1810 < 2020 < 2135
B) 3330 < 3586 < 4213 < 5094
C) 4009 > 3987 > 3899 > 2791
D) 6537 > 5781 > 5900 > 4862

- 14) • Ayhan, Serdar'dan daha fazla yol yürümüştür.
• Serdar, Merve'den daha fazla yol yürümüştür.
• Serdar 6985 m yol yürümüştür.

Yukarıdaki **ipuçlarına** göre, aşağıdakilerden hangisi Ayhan ve Merve'nin yürüdükleri mesafeler olamaz?

Ayhan	Merve
A) 6899 m	- 7000 m
B) 7250 m	- 6582 m
C) 6989 m	- 6984 m
D) 6990 m	- 6789 m

CEVAP ANAHTARI

- | | |
|-------|-------|
| 1) D | 11) D |
| 2) B | 12) B |
| 3) C | 13) D |
| 4) B | 14) A |
| 5) A | |
| 6) C | |
| 7) A | |
| 8) D | |
| 9) B | |
| 10) C | |