

Adı :
Soyadı:

2. Sınıf
Matematik

Doğal Sayılar
3'er Ritmik Sayma-1

































30'a kadar 3'er sayalım. Saydığımız sayıları yuvarlak içine alalım.

1	2	3	4	5	6	7	8	9	10
11	12	13	14	15	16	17	18	19	20
21	22	23	24	25	26	27	28	29	30

30'a kadar 3'er sayalım. Aşağıya yazalım.

--	--	--	--	--	--	--	--	--	--

Fındıkları 3'er sayalım. Altındaki boşluklara yazalım.

							
3	6						
							
							
							

Adı :
Soyadı:

2. Sınıf
Matematik

Doğal Sayılar
3'er Ritmik Sayma-1

Verilen sayıdan başlayarak 3'er ileri doğru yazalım.



30'dan başlayarak geriye doğru 3'er sayalım.

30	29	28	27	26	25	24	23	22	21
20	19	18	17	16	15	14	13	12	11
10	9	8	7	6	5	4	3	2	1

Verilen sayıdan başlayarak geriye doğru 3'er yazalım.

