

Tarih : ... / ... / 20...

GÜNLÜK EV ÖDEVLERİ

Veli İmzası :

Bir adam, tuz almak için eşegiyle birlikte köye gitmiş. Tuzları eşeğine yükledikten sonra da yola çıkmış. Yolda, bir dere kıyısından geçerken, eşeğin ayağı tökezlemiş ve dereye doğru yuvarlanmış. Tuzların büyük bir bölümü suda eriyince eşeğin yükü de hafiflemiş ve doğrulup dere-den çıkmış. Bunun üzerine adam tuz almak için tekrar köye geri dönmüş ve öncekinden daha fazla tuz yüklemiştir. Dönüş yolunda, yine aynı derenin kıyısından geçerken, eşek bu kez yükünü hafifletmek için kendini derenin içine atmış. Yine tuzların büyük bir bölümü suda eriyip gitmiş. Yükü hafifleyen eşek de doğrulup dere-den çıkmış. Bunun üzerine adam tuz almak için yine köye dönmüş, ama bu kez eşeğin ne yapacağını bilerek, tuz yerine sünger yüklemiştir. Dönüş yolunda, aynı derenin kıyısından geçerken, eşek yine kendini derenin içine atmış. Ancak bu kez süngerler suyu çekmiş ve eşeğin yükü ağırlaşmıştır. Kan ter içinde kalan eşek, kendisini kıyıya zor atmış. Böylece eşeğin hilesi geri tepmiş.

Aşağıdaki soruları metne göre cevaplayınız.

1. Adam köye niye gitmiş?

.....

2. Adam, eşeğe ne yüklemiştir?

.....

3. Eşek, neden dereye yuvarlanıyormuş?

.....

4. Eşeğin hilesi neden geri tepmiş?

.....

Verilen kelimeleri alfabetik sıraya göre sıralayın.

limon - nane - kekik

çanta - defter - cam

spor - rüya - para

nöbet - okul - kalem

fare - deve - goril

uyku - tulum - sabah

zeki - vazo - yol

balık - akıl - ceviz

ilaç - halı - ırmak

şeker - süt - perde

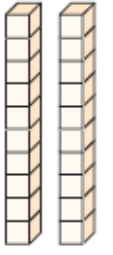
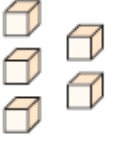
özür - oyun - masa

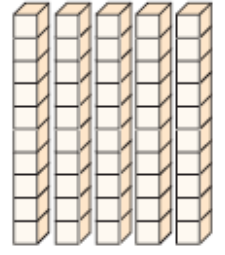

gül - dede - çatal

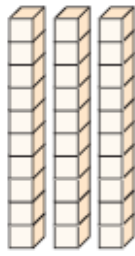
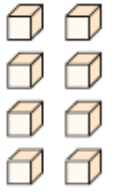
sakız - nal - para

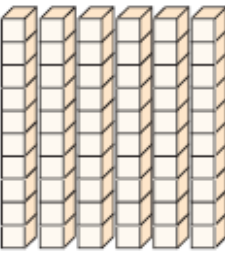

doruk - cemre - berat

Sayıları ve basamak değerlerini bulup yazın.

	Onluklar	Birlikler
		
Sayı	25	
Basamak adı	Onlar basamağı	Birler basamağı
Basamak değeri	20	5

	Onluklar	Birlikler
		
Sayı	51	
Basamak adı	Onlar basamağı	Birler basamağı
Basamak değeri	50	1

	Onluklar	Birlikler
		
Sayı	35	
Basamak adı	Onlar basamağı	Birler basamağı
Basamak değeri	30	5

	Onluklar	Birlikler
		
Sayı	63	
Basamak adı	Onlar basamağı	Birler basamağı
Basamak değeri	60	3

Rafadan Tayfanın fiziksel ve kişisel özelliklerini yazın.



Fiziksel özellikleri: _____

Kişilik özellikleri: _____



Fiziksel özellikleri: _____

Kişilik özellikleri: _____



Fiziksel özellikleri: _____

Kişilik özellikleri: _____



Fiziksel özellikleri: _____

Kişilik özellikleri: _____