

1) Aşağıdaki cümlelerden hangisinin sonuna soru işareti konulmalıdır?

- A) Niçin ekmek almadın diye bana kızdı
B) Dayım parkta karşıma çıkmaz mı , çok şaşırıdım
C) Ne demek istediğini pek anlamadım
D) Bütün kutuları sen mi taşıdın


2) Aşağıdakilerden hangisi sebep sonuç cümlesidir?

- A) Ayşe'ye yardım ettim çünkü zamanı kalmamıştı.
B) Eve geldiğimde annem yoktu.
C) Soner temizliğine çok dikkat eder.
D) Kalemimi kime verdiğimi hatırladım.

3) ■ Artık denizde de yüzebiliyordu.
▲ Babası yüzme kursuna yazdırdı.
◆ Gaye, arkadaşları gibi yüzmek istiyordu.
● Havuzda yüzmeyi öğrendi.

Yukarıdaki cümleleri oluş sırasına göre sıralarsak sıralama nasıl olur?

- A) ◆ ● ■ ▲ B) ◆ ▲ ● ■
C) ▲ ◆ ● ■ D) ◆ ▲ ■ ●

4)  Sabah erkenden uyandım güzel bir kahvaltı yaptım.

Yukarıdaki cümlede hangi kelimedenden sonra virgül konulmalıdır?



- A) uyandım B) sabah
C) bir D) kahvaltı

5) □ Onun gibi yaramaz mı yaramaz bir çocuk görmedim

- ⊙ Ankara'ya trenle mi gideceksiniz
◇ Hey, çiçekleri koparma

Yukarıdaki cümlelerin sonuna hangi noktalama işaretleri konmalıdır ?

- A) □ ⊙ ◇
A) Nokta Soru işareti Soru işareti
B) Nokta Nokta Ünlem işareti
C) Nokta Soru işareti Ünlem işareti
D) Soru işareti Nokta Nokta

6)  - 25 - 32 - 39 -  - 53 - 60

Yukarıdaki örüntüde verilmeyen sayıların toplamı kaçtır?

- A) 54 B) 64
C) 66 D) 65

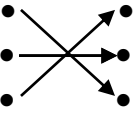
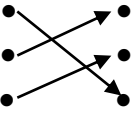
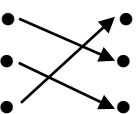
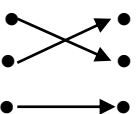
7) ◇ Sayılar on beşer artmaktadır.
◇ Sayılar dokuzar azalmaktadır.
◇ Sayılar otuzar azalmaktadır.
◇ Sayılar sekizer artmaktadır.



Aşağıdaki örüntülerden hangisinin kuralı yukarıda yoktur?

- A) 580 - 560 - 540 - 520 - 500 - 480
B) 154 - 162 - 170 - 178 - 186 - 194
C) 75 - 90 - 105 - 120 - 135 - 150
D) 285 - 276 - 267 - 258 - 249 - 240

- 8) $4572 + 3658$ • • 8774
 $7649 + 782$ • • 8230
 $3507 + 5267$ • • 8431

Yukarıdaki toplama işlemleri toplamlarıyla eşleştirildiğinde nasıl bir sonuç çıkar?

- A)  B) 
- C)  D) 

- 9) Yandaki toplama işlemine göre  +  işleminin sonucu kaçtır?
- $$\begin{array}{r} \text{●} \ 7 \ 5 \ 4 \\ + \ 3 \ 4 \ \text{■} \ 5 \\ \hline 8 \ 2 \ 3 \ 9 \end{array}$$

- A) 13 B) 14
C) 12 D) 11

- 10) Yandaki toplama işleminde verilmeyen toplanan aşağıdakilerden hangisidir
- $$\begin{array}{r} 2 \ 9 \ 0 \ 6 \\ 4 \ 5 \ 7 \ 2 \\ + \ \dots\dots\dots \\ \hline 8 \ 3 \ 2 \ 6 \end{array}$$

- A) 838 B) 748
C) 858 D) 848

- 11) \triangle İnsanlar farklı özelliklere sahiptir.
 Tüm insanlar farklı yeteneklere sahiptir.
 İnsanlar olaylar karşısında aynı duyguları yaşar.
 İnsanların ilgi alanları farklı olabilir.
Yukarıdakilerden hangisi yanlıştır?

- A) B)
C) D)

12)



Onun yerinde olaydım ne düşü-
nürdüm? Onlar gibi olsam ne
yapardım?

Yukarıdaki düşünce aşağıdakilerden hangisi ile ilgilidir?

- A) Sempati B) Güven
C) Empati D) Dayanışma

- 13) Aşağıdakilerin hangisinde kişinin ilgi alanı söz konusudur?

- A) Zeynep'in ev işlerinde annesine yardım etmesi.
B) Denizlerin evde kuş beslemesi.
C) Can'ın köpekten korkması.
D) Ümit'in okul çantasını hazırlaması.

14) Aşağıdakilerden hangisi empati kurmanın faydalarından **değildir**?

- A) Kişiler arasında daha güçlü iletişim kurulur.
 B) Kişiler arasındaki bağ güçlenir.
 C) Kişiler arasında yardımlaşma ve dayanışma artar.
 D) Kişiler arası anlaşmazlıklar çoğalır.

15) Görseldeki olayı yaşayan bayanın yaşadığı duygu aşağıdakilerden hangisidir?



- A) Sinirlenmiş B) Üzülmiş
 C) Sevinmiş D) Korkmuş

16) Yandaki görsel aşağıdaki olaylardan hangisinin sonucudur?



- A) Ay'ın Dünya etrafında dönüşü
 B) Dünya'nın Güneş etrafında dolanışı
 C) Ay'ın Dünya'ya yaklaşması
 D) Dünya'nın kendi çevresinde dönüşü





17) Dünya'nın etrafındaki dolanma hareketi sonucunda sıcaklık değişimleri yaşanır.

Yukarıdaki cümlede noktalı yere aşağıdakilerden hangisi gelir?

- A) Ay B) Mars

C) kendi

D) Güneş

- 18)  Güneyden kuzeye Mete
 Doğudan batıya Pelin
 Batıdan doğuya Orhan
 Kuzeyden güneye Gaye


Dünya'nın kendi etrafındaki dönüş yönüne ilişkin soruya hangi çocuk doğru cevap vermiştir?

- A) Gaye B) Orhan
 C) Pelin D) Mete

19) Dünya Güneş etrafındaki dolanışını tamamlar.

Yukarıdaki cümlede noktalı yere aşağıdakilerden hangisi **gelemez**?

- A) 365 gün 6 saatte B) 1 yılda
 C) 3 mevsimde D) 12 ayda



Yukarıdaki resimlerden yola çıkarak aşağıdaki sonuçlardan hangisine varılabilir?

- A) Dünya kendi çevresinde döner.
 B) Ay Güneş etrafında dolanır.
 C) Ay Dünya etrafında dolanır.
 D) Dünya Güneş etrafında dolanır.

CEVAP ANAHTARI

TÜRKÇE	MATEMATİK	SOSYAL BİL.	FEN BİLİM.
1) D	6) B	11) B	16) D
2) A	7) A	12) C	17) D
3) B	8) C	13) B	18) B
4) A	9) C	14) D	19) C
5) C	10) D	15) A	20) A