

- 1) ● yaşlı
▲ yarım
■ bayat

Yukarıdaki kelimelerden hangisinin zıt anlamlısı yoktur ?

- A) ■ B) ● C) ▲

2)

cevap - yanıt

Yukarıdaki kelimeler arasındaki anlam ilişkisi aşağıdakilerden hangisinde **yoktur**?

- A) zarar - fayda
B) görev - vazife
C) yoksul - fakir

- 3) □ gelir - gider
□ aşağı - yukarı
□ yüksek - kısa



Mert, yukarıdaki ilk kelimelerin yanına zıt anlamlılarını yazmış. Buna göre kelimelerin yanındaki kutuya doğru - yanlış diye yazdığımızda aşağıdaki sonuçlardan hangisini elde ederiz?

- A)

D
D
D

 B)

D
D
Y

 C)

D
Y
Y

4)

karanlık – siyah – hızlı - kafa
pis - dilek - kolay

Yukarıdaki kelimelerden kaç tanesinin hem zıt hem de eş anlamlısı vardır?

- A) 5 B) 3 C) 4

5) Aşağıdaki cümlelerin hangisinde zıt anlamlı kelimeler bir arada kullanılmıştır?

- A) Çetin, sıcak süt yerine ılık süt içmiş.
B) Çocuklar ön bahçede oyun oynuyorlar.
C) Pelin, geç yatmasına rağmen erken kalkmış.

6)

$$(26 + 35) + K = L + (35 + 18)$$

Yukarıdaki toplama işleminde K ve L yerine gelebilecek sayılar hangisinde doğru verilmiştir ?

- A) K = 18 , L= 35
B) K = 18 , L= 26
C) K = 35 , L= 26

7) Yandaki toplama işlemine göre P+R+S işleminin sonucu kaçtır?

3	4	5
1	8	7
+	4	2
6		

P	R	S

- A) 22 B) 23 C) 24

8)

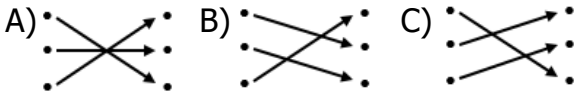
$$4 - 6 - 0$$

Yukarıdaki rakamlarla oluşturulabilecek en büyük sayı ile en küçük sayının farkı kaçtır?

- A) 234 B) 244 C) 236

- 9) $418 - 265 = \bullet$ • 310
 $825 - 637 = \bullet$ • 153
 $764 - 454 = \bullet$ • 188

Yukarıdaki çıkarma işlemleri sonuçlarıyla eşleştirildiğinde aşağıdaki sonuçlardan hangisi ortaya çıkar?



10) Aşağıdaki çıkarma işlemlerinden hangisinin sonucu diğerlerinden **farklıdır**?

- A) $611 - 324$
 B) $562 - 285$
 C) $830 - 543$

11) Okullarda " dilek kutusu " niçin konulmuştur?

- A) Sınıfta yaramazlık yapanları idareye bildirmek için.
 B) Defter ve kalemimiz bitince idareden istemek için.
 C) Okulla ilgili istekleri yazarak belirtmek için.

12) Elif: İsteklerimi nezaket kurallarına uyarak dile getiririm.

Arda: İsteklerimin gerçekleşmesi için kaba kuvvet uygularım.


Yiğit: Okulla ilgili isteklerimi yazarak dilek kutusuna atarım.


Öğrenciler istekleriyle ilgili düşüncelerini söylemiş. Buna göre kimin düşüncesi **yanlıştır**?


- A) Yiğit B) Elif C) Arda

13) Aşağıdakilerden hangisi demokratik bir davranıştır?

- A) Ozan'ın sınıf başkanlığı seçiminde arkadaşlarından zorla oy istemesi.
 B) Sude'nin sınıf başkanı seçilmese de tüm arkadaşlarına teşekkür etmesi.
 C) Gaye'nin sınıf başkanlığı seçiminde kendisine oy vermeyenleri öğrenmeye çalışması.

14)  Okulla ilgili isteklerim için önce öğretmenimle konuşurum.

 İsteklerimiz gerçekleşene kadar okula gelmeyeceğiz.

 İsteklerimiz için dilekçe hakkımızı kullanmalıyız.

Yukarıdaki ifadelerden hangi çocuğunki **yanlıştır**?

- A) Meral B) Yavuz C) Meral

15) Fatih, okul bahçesinde öğrencilerin su ihtiyacı için bir çeşme yapılmasına ilişkin yazdığı notu dilek kutusuna atmış.

Dilek kutusuna bırakılan bu istek kimler tarafından değerlendirilir?

- A) Okul idaresi
B) Öğrenci velileri
C) Okulun öğretmenleri

- 16) ● Köpek
▲ İnsan
■ Araba

Yukarıdakilerden hangisi dışarıdan etki olmadıkça hareket **edemez**?

- A) ▲ B) ■ C) ●

17) Bir atın aşağıdaki durumların hangisinde hareketi en **yüksek** seviyededir?

- A) Yürürken B) Koşarken
C) Su içerken

18) I – Fil II – Aslan III - Zebra

Yukarıdaki canlıların hareket hızları dikkate alındığında **hızlıdan yavaşa** doğru sıralanışı hangisinde doğru verilmiştir?

- A) III – I - II B) II – I - III
C) II – III - I

19) Aşağıdakilerden hangisinde **hızlanma** hareketi söz konusudur?

- A) Fren yapan araba
B) İniş yapan uçak
C) Yokuş aşağı inen bisiklet

20) Aşağıdakilerden hangisinin hareketi diğerlerinden farklıdır?



CEVAP ANAHTARI

TÜRKÇE	MATEMATİK	HAYAT BİL.	FEN BİLİM.
1) C	6) B	11) C	16) B
2) A	7) A	12) C	17) B
3) B	8) A	13) B	18) C
4) C	9) B	14) A	19) C
5) C	10) B	15) A	20) A