



## ZIT ANLAMLI KELİMELER

☞ Aşağıda verilen kelimenin zıt anlamlısını yazarak her ikisiyle de örnekteki gibi cümle kuralım.

Giriş ⇒ Mağazanın giriş kapısında insanlar birikmiş.

Çıkış ⇒ Babam çıkış kapısına doğru gitti.

Kuru ⇒ .....

..... ⇒ .....

Aydınlık ⇒ .....

..... ⇒ .....

Cesur ⇒ .....

..... ⇒ .....

Farklı ⇒ .....

..... ⇒ .....

Gerçek ⇒ .....

..... ⇒ .....

Taze ⇒ .....


..... ⇒ .....

Seyrek ⇒ .....

..... ⇒ .....



## ZIT ANLAMLI KELİMELER

 Aşağıda verilen kelimelerden zıt anlamlı olanları bulup örnekteki gibi tabloya yazalım. Kalan kelimelerin ilk harflerini sırayla yazarak şifreyi bulalım.

ödül	temiz	<del>cevap</del>	sevinç	gelecek
dost	ileri	kati	tenha	gerçek
iç	dik	neşeli	ceza	boş
yüksek	<del>soru</del>	düşman	sıvı	cimri
kirli	arka	geçmiş	alçak	dış
parlak	dolu	hayal	eğik	kalabalık

cevap	soru
.....	.....
.....	.....
.....	.....
.....	.....
.....	.....
.....	.....
.....	.....



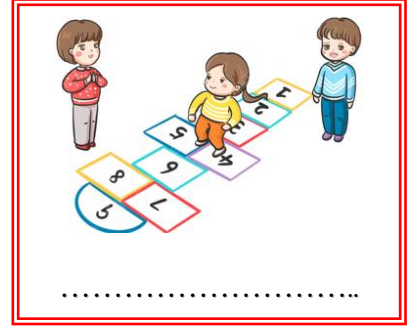


.....	.....
.....	.....
.....	.....
.....	.....
.....	.....
.....	.....
.....	.....

ŞİFRE : ( ) ( ) ( ) ( ) ( ) ( )



## GELENEKSEL ÇOCUK OYUNLARI

☁ Aşağıda verilen resimlerdeki çocuk oyunlarının ismini yazalım. Günümüzde oynanan oyunları kutuya yazalım.



.....

.....

.....



## BESİNLER VE ÖZELLİKLERİ

🌸 Aşağıda verilen besin maddelerinin içeriklerine uygun harfi örnekteki gibi boyayınız.  
(“P” Protein , “K” Karbonhidrat , “Y” Yağ )

ekmek P K Y	yumurta P K Y	ceviz P K Y	makarna P K Y
zeytin P K Y	pirinç P K Y	et P K Y	patates P K Y
peynir P K Y	ayçiçeği P K Y	tereyağı P K Y	bal P K Y
mısır P K Y	balık P K Y	bulgur P K Y	findık P K Y
fasulye P K Y	reçel P K Y	nohut P K Y	susam P K Y

🌸 Aşağıda verilen kelimeleri noktalı yerlere doğru bir şekilde yazalım.

tazeliğini - minerallere – dondurarak - su - yağlar – ömrü - vitaminler - hasar

1. Tüm besinlerin belli bir ..... vardır.
2. .... saklama için evlerimizde derin dondurucu kullanırız.
3. Ambalajlı besinlerin ambalajı ..... görmemiş olmalıdır.
4. Besinlerin ..... koruması için uygun koşullarda saklanması gerekir.
5. .... vücudumuzun direncini artırarak bizi hastalıklara karşı korur .
6. .... bütün besin maddelerinde bulunur ve düzenleyici olarak görev yapar.
7. Kemiklerimiz ve dişlerimiz için ..... ihtiyacımız vardır.
8. Vücutta depolanan ..... fazla kiloya neden olur.



## TOPLAMA İŞLEMİ PROBLEMLER

1.) Sinemaya ekim ayının 1. haftası 2847 , 2. haftası ise 1. Haftadan 758 seyirci gelmiş. İki haftada toplam kaç seyirci gelmiştir?

Çözüm:

2.) Bir simitçi dün 3675 liralık satış yapmış. Bugün ise dün 845 lira fazla satış yapmış. Simitçi iki günde toplam kaç liralık satış yapmıştır?

Çözüm:

3.) Babam ve 2 amcamın 6 yıl önce yaşları toplamı 125'tir. Buna göre 8 yıl sonra yaşları toplamı kaç olur?

Çözüm:

4.) Bir balıkçı birinci gün 1369 kg balık satmış. İkinci gün ise birinci günden 374 kg fazla balık satmış. Balıkçı iki günde toplam kaç kg balık satmıştır?

Çözüm:

5.) Umut her gün bir önceki günden 480 m daha fazla yürüyor. Birinci gün 1650 m yürüdüğüne göre üç gün sonunda toplam kaç m yürür?

Çözüm:

6.) Bir pazarcı bir haftada 2386 kg mandalina, 1673 kg elma ve 847 kg muz satmış. Pazarcı bir haftada toplam kaç kg meyve satmıştır?

Çözüm:

7.) Dayım 685 liraya bir pantolon, 2 pantolon fiyatına bir tane mont almış. Dayım hepsine kaç lira ödemiştir?

Çözüm:

8.) Beşer ardışık 4 sayının en küçüğü 2535 olduğuna göre bu 4 sayının toplamı kaçtır?

Çözüm:



## TOPLAMA İŞLEMİ PROBLEMLER

9.) Babam bu ay 3645 lira mutfak giderleri, 1285 lira doğalgaz ve 857 lira diğer faturalar için ödeme yapmış. Babam toplam kaç lira harcamıştır ?

Çözüm:

10.) Bir kasabada 1865 çocuk, 1158 kadın ve kadınlardan 392 fazla erkek yaşamaktadır. Bu kasabada toplam kaç kişi yaşamaktadır?

Çözüm:

11.) Boş olan bir kamyonet 1350 kg ağırlığındadır. Kamyonete 1685 kg odun, 2258 kg kömür yüklenmiş. Kamyonetin toplam ağırlığı kaç kg olmuştur ?

Çözüm:

12.) Bir hatıra ormanına 2639 çam fidanı, çam fidanından 753 fazla meşe fidanı dikilmiştir. Bu ormana toplam kaç fidan dikilmiştir?

Çözüm:

13.) Üçer yıl arayla doğan 3 kardeşten küçük olanı 14 yaşındadır. Bu üç kardeşin 7 yıl sonra yaşları toplamı kaçtır?

Çözüm:

14.) Bir fırında öğleden önce 2608 tane ekmek satılmış. Öğleden sonra ise öğleden öncekinden 564 tane fazla satılmış. Fırında toplam kaç tane ekmek satılmıştır?

Çözüm:

15.) Kütüphaneden geçen ay 3954 kitap ödünç alınmış. Bu ay ise geçen aydan 638 kitap daha fazla ödünç alınmış. İki ayda toplam kaç kitap ödünç alınmıştır ?

Çözüm:

16.) Bir birinci gün 953 , ikinci gün 1308 tane karpuz satmış. Geriye 846 tane karpuz kalmış. Satılmadan önce kaç tane karpuz vardı?

Çözüm:



## TOPLAMA İŞLEMİYLE İLGİLİ PROBLEM KURMA

☘ Aşağıda verilen sayılarla toplama işlemi gerektiren problemler kurup çözümünü yapalım.

$$39 - 45 - 16$$

Çözüm:

- 1.) .....
- .....
- .....
- .....
- .....

$$584 - 1368$$

Çözüm:

- 2.) .....
- .....
- .....
- .....
- .....

$$1750 - 685 - 830$$

Çözüm:

- 3.) .....
- .....
- .....
- .....
- .....

$$35 - 38 - 40$$

Çözüm:

- 4.) .....
- .....
- .....
- .....
- .....



## TOPLAMA İŞLEMİYLE İLGİLİ PROBLEM KURMA

$$3164 - 1572 - 2654$$

Çözüm:

5.) .....

.....

.....

.....

.....

$$1963 - 375$$

Çözüm:

2.) .....

.....

.....

.....

.....

$$755 - 935 - 1260$$

Çözüm:

3.) .....

.....

.....

.....

.....

$$486 - 657 - 554$$

Çözüm:

4.) .....

.....

.....

.....

.....