

Adı : .....  
Soyadı : .....  
Sınıfı : .....

## Matematik-2

Toplamı Tahmin Etme-1



**Bilgi:** Sayıların toplamı tahmin edilirken önce sayılar en yakın onluğa yuvarlanır.  
Daha sonra elde edilen onluklar toplanır.

İşlem	Tahmini Sonuç	Gerçek Sonuç	Fark
$\begin{array}{r} 38 \\ + 24 \\ \hline ? \end{array}$	$\begin{array}{r} 40 \\ + 20 \\ \hline 60 \end{array}$	$\begin{array}{r} 38 \\ + 24 \\ \hline 62 \end{array}$	$\begin{array}{r} 62 \\ - 60 \\ \hline 2 \end{array}$

**Not:** Tahmini sonuç ile gerçek sonuç arasındaki fark bulunurken büyük sayıdan küçük sayı çıkarılır.

Aşağıdaki toplama işlemlerinin tahmini sonucunu, gerçek sonucunu ve tahmini sonuç ile gerçek sonuç arasındaki farkı bulalım.

İşlem	Tahmini Sonuç	Gerçek Sonuç	Fark
$\begin{array}{r} 29 \\ + 32 \\ \hline ? \end{array}$	$\begin{array}{r} ..... \\ + ..... \\ \hline ..... \end{array}$	$\begin{array}{r} ..... \\ + ..... \\ \hline ..... \end{array}$	$\begin{array}{r} ..... \\ - ..... \\ \hline ..... \end{array}$

İşlem	Tahmini Sonuç	Gerçek Sonuç	Fark
$\begin{array}{r} 26 \\ + 43 \\ \hline ? \end{array}$	$\begin{array}{r} ..... \\ + ..... \\ \hline ..... \end{array}$	$\begin{array}{r} ..... \\ + ..... \\ \hline ..... \end{array}$	$\begin{array}{r} ..... \\ - ..... \\ \hline ..... \end{array}$

İşlem	Tahmini Sonuç	Gerçek Sonuç	Fark
$\begin{array}{r} 34 \\ + 54 \\ \hline ? \end{array}$	$\begin{array}{r} ..... \\ + ..... \\ \hline ..... \end{array}$	$\begin{array}{r} ..... \\ + ..... \\ \hline ..... \end{array}$	$\begin{array}{r} ..... \\ - ..... \\ \hline ..... \end{array}$

Adı : .....  
Soyadı : .....  
Sınıfı : .....

## Matematik-2

Toplamı Tahmin Etme-2



Aşağıdaki toplama işlemlerinde tahmini sonuç, gerçek sonuç ve farkı bulalım.

İşlem	Tahmini Sonuç	Gerçek Sonuç	Fark
$\begin{array}{r} 67 \\ + 23 \\ \hline ? \end{array}$	$\begin{array}{r} ..... \\ + ..... \\ \hline ..... \end{array}$	$\begin{array}{r} ..... \\ + ..... \\ \hline ..... \end{array}$	$\begin{array}{r} ..... \\ - ..... \\ \hline ..... \end{array}$

İşlem	Tahmini Sonuç	Gerçek Sonuç	Fark
$\begin{array}{r} 45 \\ + 37 \\ \hline ? \end{array}$	$\begin{array}{r} ..... \\ + ..... \\ \hline ..... \end{array}$	$\begin{array}{r} ..... \\ + ..... \\ \hline ..... \end{array}$	$\begin{array}{r} ..... \\ - ..... \\ \hline ..... \end{array}$

İşlem	Tahmini Sonuç	Gerçek Sonuç	Fark
$\begin{array}{r} 13 \\ + 84 \\ \hline ? \end{array}$	$\begin{array}{r} ..... \\ + ..... \\ \hline ..... \end{array}$	$\begin{array}{r} ..... \\ + ..... \\ \hline ..... \end{array}$	$\begin{array}{r} ..... \\ - ..... \\ \hline ..... \end{array}$

İşlem	Tahmini Sonuç	Gerçek Sonuç	Fark
$\begin{array}{r} 35 \\ + 52 \\ \hline ? \end{array}$	$\begin{array}{r} ..... \\ + ..... \\ \hline ..... \end{array}$	$\begin{array}{r} ..... \\ + ..... \\ \hline ..... \end{array}$	$\begin{array}{r} ..... \\ - ..... \\ \hline ..... \end{array}$

İşlem	Tahmini Sonuç	Gerçek Sonuç	Fark
$\begin{array}{r} 22 \\ + 49 \\ \hline ? \end{array}$	$\begin{array}{r} ..... \\ + ..... \\ \hline ..... \end{array}$	$\begin{array}{r} ..... \\ + ..... \\ \hline ..... \end{array}$	$\begin{array}{r} ..... \\ - ..... \\ \hline ..... \end{array}$

Adı : .....  
Soyadı : .....  
Sınıfı : .....



## Matematik-2



Toplamı Tahmin Etme-3







Aşağıda verilen sayılara göre toplama işlemlerinde tahmini sonuç, gerçek sonuç ve farkı bulalım.

								
47	36	18	25	51	63	22	13	79

İşlem	Tahmini Sonuç	Gerçek Sonuç	Fark
	.....	.....	.....
$+$ 	$+$ .....	$+$ .....	$-$ .....
$\frac{\quad}{?}$	$\frac{\quad}{\quad}$	$\frac{\quad}{\quad}$	$\frac{\quad}{\quad}$

İşlem	Tahmini Sonuç	Gerçek Sonuç	Fark
	.....	.....	.....
$+$ 	$+$ .....	$+$ .....	$-$ .....
$\frac{\quad}{?}$	$\frac{\quad}{\quad}$	$\frac{\quad}{\quad}$	$\frac{\quad}{\quad}$

İşlem	Tahmini Sonuç	Gerçek Sonuç	Fark
	.....	.....	.....
$+$ 	$+$ .....	$+$ .....	$-$ .....
$\frac{\quad}{?}$	$\frac{\quad}{\quad}$	$\frac{\quad}{\quad}$	$\frac{\quad}{\quad}$

İşlem	Tahmini Sonuç	Gerçek Sonuç	Fark
	.....	.....	.....
$+$ 	$+$ .....	$+$ .....	$-$ .....
$\frac{\quad}{?}$	$\frac{\quad}{\quad}$	$\frac{\quad}{\quad}$	$\frac{\quad}{\quad}$

Adı : .....  
Soyadı : .....  
Sınıfı : .....



## Matematik-2



Toplamı Tahmin Etme-4







Aşağıda verilen sayılara göre toplama işlemlerinde tahmini sonuç, gerçek sonuç ve farkı bulalım.

								
33	57	12	46	69	82	15	24	79

İşlem	Tahmini Sonuç	Gerçek Sonuç	Fark
	.....	.....	.....
	.....	.....	.....
+	+	+	-
<hr/>	<hr/>	<hr/>	<hr/>
?	.....	.....	.....

İşlem	Tahmini Sonuç	Gerçek Sonuç	Fark
	.....	.....	.....
	.....	.....	.....
+	+	+	-
<hr/>	<hr/>	<hr/>	<hr/>
?	.....	.....	.....

İşlem	Tahmini Sonuç	Gerçek Sonuç	Fark
	.....	.....	.....
	.....	.....	.....
+	+	+	-
<hr/>	<hr/>	<hr/>	<hr/>
?	.....	.....	.....

İşlem	Tahmini Sonuç	Gerçek Sonuç	Fark
	.....	.....	.....
	.....	.....	.....
+	+	+	-
<hr/>	<hr/>	<hr/>	<hr/>
?	.....	.....	.....