

Adı :

Soyadı:

4. Sınıf
Fen Bilimleri

Kuvvetin Etkileri
Etkinlikler

Etkinlik

12

Mıknatıs şekillerini çizerek kutuplarını belirleyelim.



U mıknatıs



Çubuk mıknatıs



Dörtgen mıknatıs



Yuvarlak mıknatıs

Etkinlik

13

Mıknatıs tarafından çekilen-çekilmeyen varlıkları yazınız. (çekerek-çekmez)



Mıknatıs Çeken Maddeler

.....
.....
.....
.....

Mıknatıs Çekmeyen Maddeler

.....
.....
.....
.....

Adı :

Soyadı:

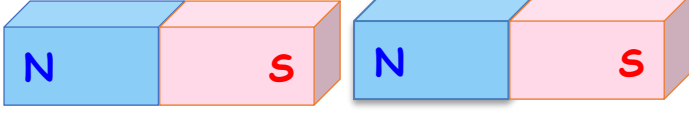
4. Sınıf
Fen Bilimleri

Kuvvetin Etkileri
Etkinlikler

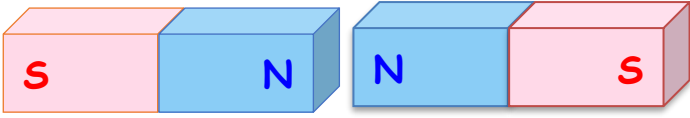
Etkinlik

14

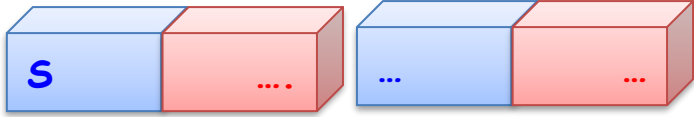
Aşağıdaki mıknatısların durumlarını yazalım. (Not: Renklere değil kutuplara dikkat edelim.)



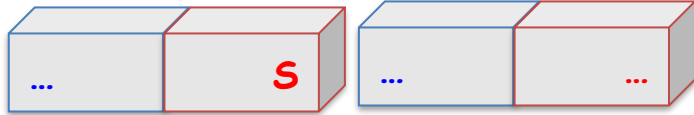
İki mıknatıs birbirini
Çünkü



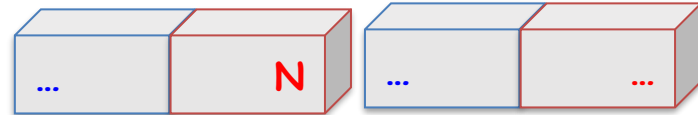
İki mıknatıs birbirini
Çünkü



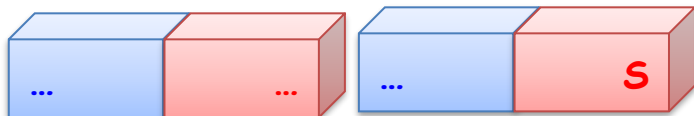
İki mıknatıs birbirini çekmektedir.



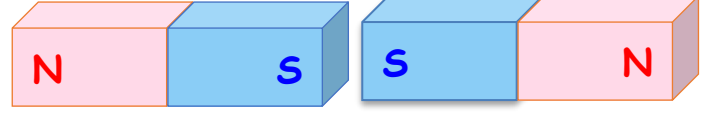
İki mıknatıs birbirini çekmektedir.



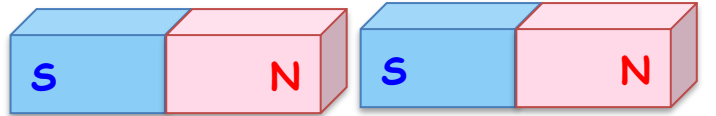
İki mıknatıs birbirini çekmektedir.



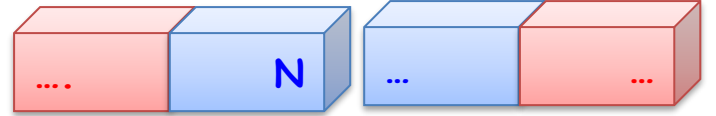
İki mıknatıs birbirini çekmektedir.



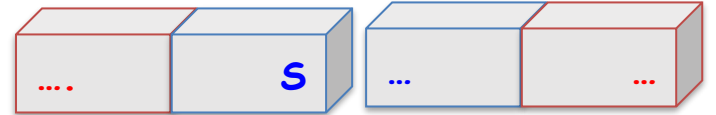
İki mıknatıs birbirini
Çünkü



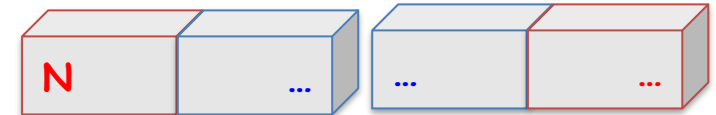
İki mıknatıs birbirini
Çünkü




İki mıknatıs birbirini itmektedir.



İki mıknatıs birbirini itmektedir.



İki mıknatıs birbirini itmektedir.



İki mıknatıs birbirini itmektedir.