



Adı Soyadı : .....

Numarası : .....

Konu: Saatler

## Saatler

Aşağıdaki dijital ve analog saatleri eşleştirelim.



01.25



22.40



13.55



06.45



10.50



19.00



16.30



07.10

Aşağıdaki saatlere belirtilen zamana göre akrep ve yelkovan çizelim.



13.20



06.10



23.30



09.25



20.05



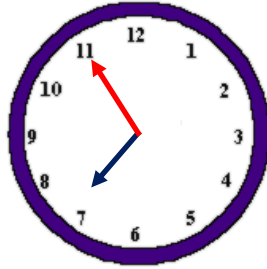
10.40

Aşağıdaki saatlerin öğleden önce ve öğleden sonra okunuşlarını altlarına yazalım.



Öğleden önce saat: ..... . .....

Öğleden sonra saat : ..... . .....



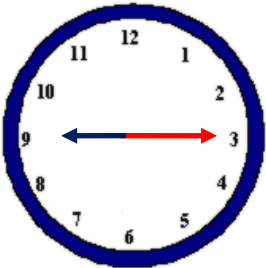
Öğleden önce saat: ..... . .....

Öğleden sonra saat : ..... . .....



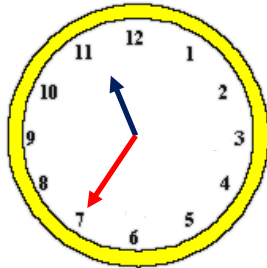
Öğleden önce saat: ..... . .....

Öğleden sonra saat : ..... . .....



Öğleden önce saat: ..... . .....

Öğleden sonra saat : ..... . .....



Öğleden önce saat: ..... . .....

Öğleden sonra saat : ..... . .....



Öğleden önce saat: ..... . .....

Öğleden sonra saat : ..... . .....

1 saat = ..... dakikadır.

Çeyrek saat = ..... dakikadır.

Yarım saat = ..... dakikadır.

1 saatte = ..... çeyrek saat vardır.