



Adı Soyadı :

Numarası :

Konu: Paralarımız

Aşağıdaki eşitliklerde boş bırakılan yerlere uygun ifadeler yazınız.

1 lira = kr.

2 lira = kr.

5 lira = kr.

7 lira = kr.

9 lira = kr.

525 kuruş = lira kuruş

750 kuruş = lira kuruş

630 kuruş = lira kuruş

350 kuruş = lira kuruş

480 kuruş = lira kuruş

1 lira 30 Kr = kr.

3 lira 40 Kr = kr.

5 lira 5 Kr = kr.

6 lira 10 Kr = kr.

8 lira 80 Kr = kr.

4 tane 5 kr. + 3 tane 25 kr. = kr.

6 tane 25 kr. + 2 tane 50 kr. = kr.

5 tane 10 kr. + 6 tane 25 kr. = TL

4 tane 25 kr. + 4 tane 50 kr. = TL

5 tane 10 kr. + 3 tane 50 kr. = TL

Aşağıdaki ürünlerin fiyatlarını lira ve kuruş olarak yazalım.



250 kr.

..... lira kuruş



755 kr.

..... lira kuruş



225 kr.

..... lira kuruş



525 kr.

..... lira kuruş



425 kr.

..... lira kuruş



875 kr.

..... lira kuruş



375 kr.




..... lira kuruş



615 kr.

..... lira kuruş

Aşağıdaki oyuncak fiyatlarına göre soruları yanıtlayınız.



10 TL'ye hangi oyuncakları alabiliriz?

.....



15 TL'ye hangi oyuncakları alabiliriz?

.....



20 TL'ye hangi oyuncakları alabiliriz?

.....



30 TL'ye hangi oyuncakları alabiliriz?

.....



40 TL'ye hangi oyuncakları alabiliriz?

.....



50 TL'ye hangi oyuncakları alabiliriz?

.....

Aşağıdaki para miktarlarını bularak tablonun altına yazınız.

 	 	 
.....