



Adı Soyadı :

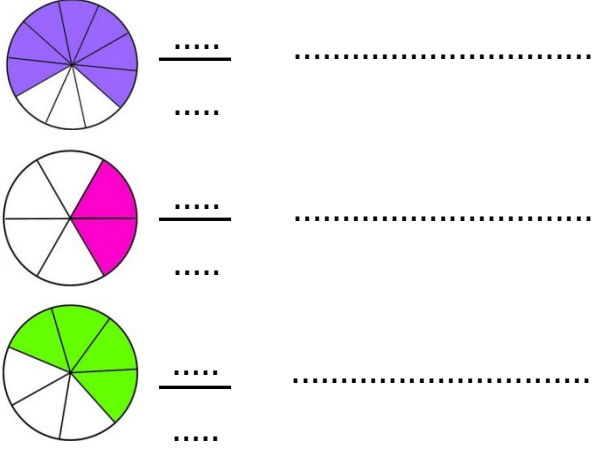
Numarası :

Çalışma Kağıdı 1

Konu: 4. Ünite Değerlendirmesi (Kesirler, Zaman Ölçme, Paralarımız ve Tartma)

Aşağıdaki soruları dikkatlice okuyalım ve cevaplayalım.

Aşağıdaki şekillerde boyalı kısmı ifade eden kesirleri ve okunuşlarını yazınız.



Aşağıdaki saatlerde gösterilen zamanların okunuşlarını altlarına yazınız.



Öğleden önce saat:

Öğleden sonra saat :



Öğleden önce saat:

Öğleden sonra saat :



Öğleden önce saat:

Öğleden sonra saat :

Aşağıdaki boşlukları uygun şekilde doldurunuz.

4 tane 5 kr. + 3 tane 25 kr. = kr.

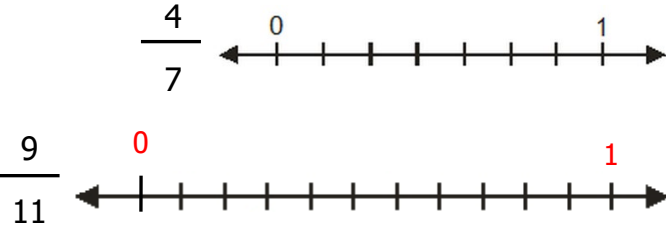
5 tane 10 kr. + 6 tane 25 kr. = TL

480 kuruş = lira kuruş

8 lira 80 Kr = kr.

Bir günde 28 kg pirinç satılan bir bakkalda, 4 haftada kaç kg pirinç satılmış olur?

Aşağıda verilen kesirleri sayı doğrusu üzerinde gösteriniz.



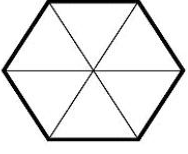
Saat 12.20'de Rize'den yola çıkan bir araç kesintisiz yol alarak 4 saat 15 dakikada Samsun'a ulaşır. Araç Samsun'a geldiğinde saat kaç olur?

Bir marketten tanesi 25 kuruştan 6 tane naneli şeker, 75 kuruştan 2 tane çikolata aldım. Geriye 2 lira param kaldı. Alışveriş yapmadan önce ne kadar param vardı?

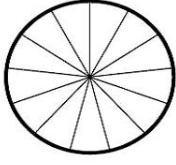
Aşağıda verilen kütle ölçme araçlarını gram olarak ifade ediniz.




Aşağıdaki şekillerin verilen kesir kadarını boyayalım.



$$\frac{2}{6}$$



$$\frac{10}{13}$$



$$\frac{4}{8}$$

Aşağıdaki dijital ve analog saatleri eşleştirelim.



07.10



22.40



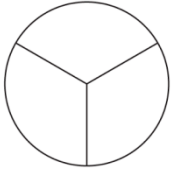
16.30

Aşağıda verilen ürünlerden hangisi daha pahalıdır?

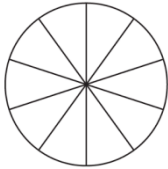


60 kilogramlık soğanın $\frac{1}{4}$ 'ini Hakan taşımıştır. Hakan kaç kilogram soğan taşımıştır?

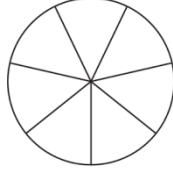
Aşağıda eş parçalara ayrılmış bütünlerin birim kesir kadarını boyayınız. Şekillere ait birim kesirleri yazınız.



.....
.....



.....
.....



.....
.....

Ağrı'dan havalanan ve 2 saat 20 dakika uçtuktan sonra saat 10.40'da İstanbul'a ulaşan bir uçak Ağrı'dan kaçta havalanmıştır?

Manavdan, kilosu 3 TL'den 4 kg patates ve kilosu 7 TL'den 3 kg muz aldım. Manavcıya 50 TL veririm kaç TL para üstü alırım?

Bir ağıldaki koyunların her biri 35 kg, keçilerin her biri ise 40 kg olduğuna göre, 4 koyun ve 6 keçi kaç kg olur?