



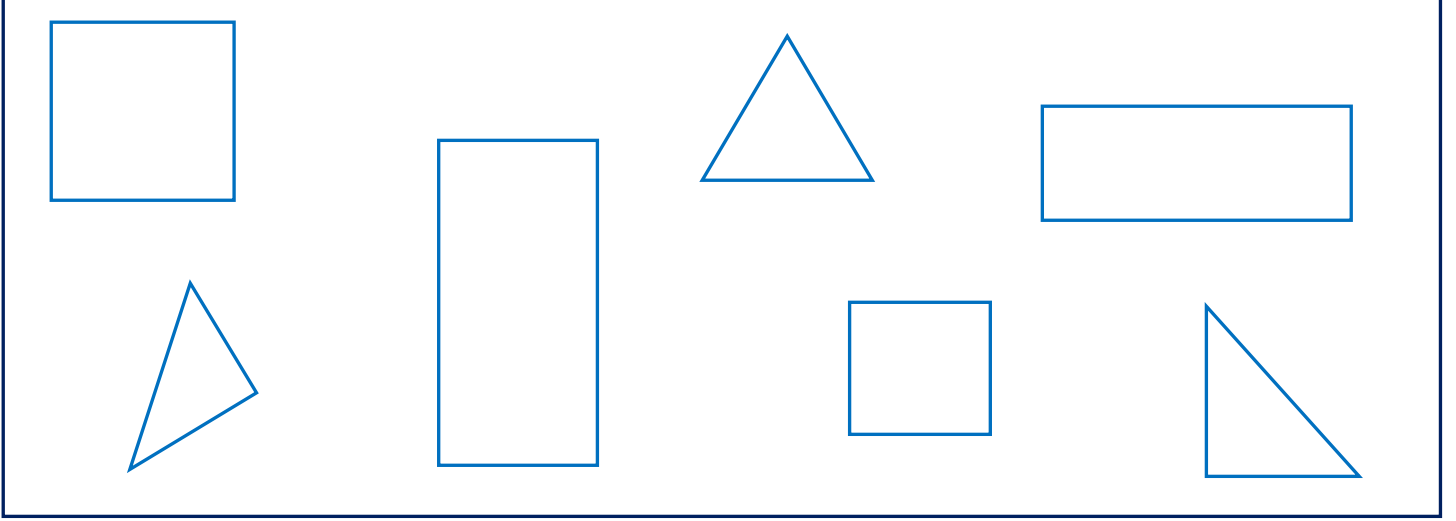
Adı Soyadı : .....

Numarası : .....

Konu: Kare, Dikdörtgen ve Üçgen

## Kare, Üçgen ve Dikdörtgen

Aşağıdaki geometrik şekillerden üçgenleri yeşile, kareleri maviye ve dikdörtgenleri sarıya boyayınız.



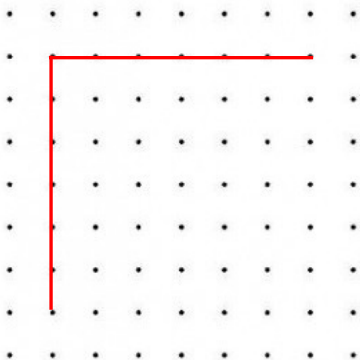
Aşağıdaki geometrik şekillerin özelliklerini noktalı yerlere yazınız.

..... köşesi  
..... kenarı  
..... açısı  
..... köşegeni


..... köşesi  
..... kenarı  
..... açısı  
..... köşegeni

..... köşesi  
..... kenarı  
..... açısı  
..... köşegeni


Aşağıdaki geometrik şekillerin, köşelerini cetvel kullanarak birleştirelim. Adlarını altlarına yazalım.



.....

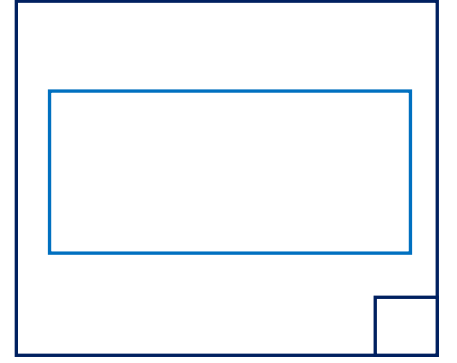
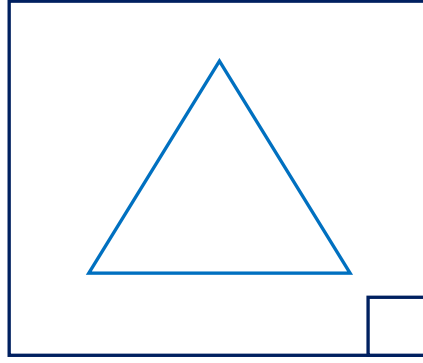
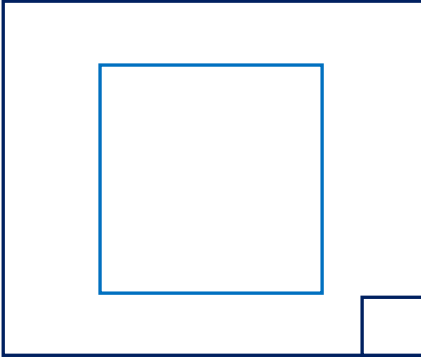


.....

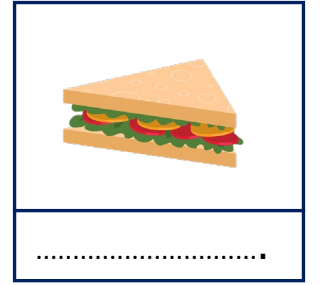
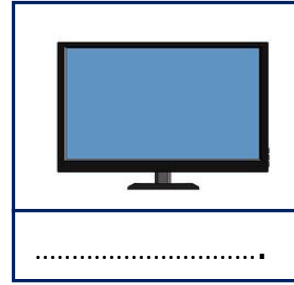





.....

Aşağıdaki geometrik şekillerden hangilerinin köşegenleri vardır. İşaretleyerek köşegenlerini çiziniz.



Aşağıdaki görsellerin hangi geometrik şekle benzediğini altlarına yazınız.



Aşağıdaki noktalı yerlere uygun sözcüklerle tamamlayınız.

- Karenin ..... köşesi vardır.
- Geometrik şekillerin köşelerini birleştiren çizgiye ..... denir.
- Dikdörtgenin ..... köşesi vardır.
- Üçgenin köşegeni .....
- Dikdörtgenin karşılıklı kenarları birbirine .....tir.
- Kare ve dikdörtgenin ..... tane köşegeni vardır.
- Üçgenin ..... tane köşesi vardır.
- Kare ve dikdörtgenin kenar sayıları birbirine ..... tir.
- Karenin ..... kenarlarının uzunlukları birbirine eşittir.