

1) Babamın yeni aldığı **blender** bozuldu.

Yukarıdaki cümlede altı çizili sözcük dilimize yabancı dilden geçmiştir. Bu kelimenin yeri-
aşağıdaki kelimelerden hangisini kullanma-
lıyız?

- A) pişirici B) kesici
C) temizleyici D) karıştırıcı

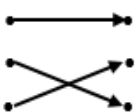
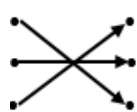
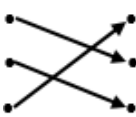
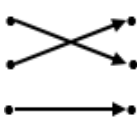
2) Başarımdaki en büyük faktör derslerde
öğretmenimi çok iyi dinlememdir.

Yukarıdaki cümlede dilimize yabancı bir dil-
den geçen kelime aşağıdakilerden hangisi-
dir?

- A) başarımdaki B) faktör
C) büyük D) öğretmenimi

3) metot • • sohbet
full • • yöntem
chatt • • tam

Yukarıdaki yabancı dilden dilimize geçmiş
kelimeler Türkçe karşılıklarıyla eşleştirildi-
ğinde hangi şekil ortaya çıkar?

- A)  B) 
- C)  D) 

4) □ sıcak - ılık
⊙ dize - mısra
◇ gece - karanlık
△ dolu - boş

Yukarıdaki kelime çiftlerinden hangisi eş an-
lamlıdır?

- A) ◇ B) ⊙
C) △ D) □

5) Elektrikler gidince onuncu kata kadar
zorunlu yürüdüm.

Yukarıdaki cümlede altı çizili kelimenin eş
anlamısı aşağıdakilerden hangisidir?

- A) mecburen B) hızlıca
C) isteyerek D) çabucak

6) Mert , hikaye kitabından her gün 27 say-
fa okumuş. Bir hafta sonra okunacak 36
sayfa kaldığını görmüş.

Yukarıdaki ifadeye göre hikaye kitabı kaç say-
fadır?

- A) 189 B) 215
C) 225 D) 220

7) 10 düzine kalemin 64 tanesi satılmış.

Yukarıda ifadeye göre geriye kaç tane kalem kalmıştır?

- A) 66 B) 54
C) 56 D) 64

8) Dedemin yaşı benim yaşımın 6 katının 7 fazlasıdır. Ben 9 yaşındayım.

Yukarıdaki ifadeye göre dedenin yaşı kaçtır?

- A) 61 B) 54
C) 63 D) 59

9) Bir manav kilosu 13 liradan 25 kg muz , kilosu 9 liradan 37 kg hurma satmış. Manav bu satıştan toplam kaç lira elde etmiştir?

Yukarıdaki ifadeye göre geriye kaç paket kalem kalmıştır?

- A) 648 B) 558
C) 668 D) 658

10) Her gün 9 saat uyurum.

Yukarıdaki ifadeye göre Elif bir hafta sonunda toplam kaç saat uyumaz ?

- A) 63 B) 105
C) 90 D) 100

11) 

Yukarıdaki resimde çocukların uyguladığı kuvvet aşağıdakilerden hangisidir?

- | | I | II |
|----|-------|-------|
| A) | itme | çekme |
| B) | çekme | itme |
| C) | çekme | çekme |
| D) | itme | itme |

12) Hareketli bir cisim hareket ettiği yöne doğru itiliyor.

Yukarıdaki ifadeye göre aşağıdakilerden hangisi gözlemlenir?

- A) Cisim durur.
B) Cisim yavaşlar.
C) Cisim döner.
D) Cisim hızlanır.

- 13) Uygulanan kuvvet ortadan kalkınca bazı cisimler ilk haline döner. Aşağıdaki cisimlere kuvvet uygulanıyor.

Yukarıdaki ifadeye göre aşağıdakilerden hangisi doğrudur?

	Teneke kutu	Yay	Sünger
A)	dönmez	dönmez	döner
B)	döner	dönmez	döner
C)	dönmez	döner	döner
D)	dönmez	döner	dönmez

- 14) Yandaki resimdeki topun hareketi aşağıdakilerden hangisine örnektir?



- A) Şekil değiştirme
B) Hızlanma
C) Yavaşlama
D) Yön değiştirme

- 15) Kuvvet ile ilgili aşağıdaki bilgilerden hangisi **yanlıştır**?

- A) Cansız varlıklar kuvvet uygulanmadan hareket edebilirler.
B) Cisimler kuvvetin etkisiyle yön değiştirebilir.
C) Kuvvet duran cisimleri hareket ettirebilir.
D) Kuvvet cisimlerin şeklini değiştirebilir.

- 16) Beşeri unsurların ortak özelliği aşağıdakilerden hangisidir?

- A) İnsan aklının ve emeğinin ürünü olması.
B) İşlerimizi kolaylaştırdıkları.
C) Dayanıklı malzemelerden yapılmaları.
D) Sadece yakın çevremizde bulunurlar.

- 17) Doğada kendiliğinden bulunur.

Oluşumunda insanların etkisi yoktur.

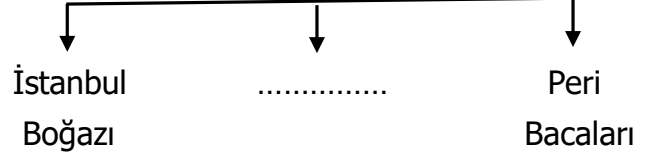
İnsanlar tarafından yapılmıştır.

Doğal unsurlara sahip çıkılmaması çevre sorunlarına neden olur.

Yukarıdaki bilgilerden hangisi doğal unsurlar için **söylenemez**?

- A) B)
C) D)

- 18) Ülkemizdeki Doğal Unsurlar



Yukarıdaki şemada noktalı yere hangisi yazılabilir?

- A) Topkapı Sarayı
B) Damlatay Mağarası
C) Efes Antik Kenti
D) Göbeklitepe

- 19) Göl →
Köprü →
Baraj →
Toprak →

Yukarıdaki kelimelerin karşısına beşeri unsurlar için , doğal unsurlar için yaparsak aşağıdakilerden hangisi ortaya çıkar?

- A) B)
C) D)

- 20) Aşağıdakilerden hangisi beşeri unsur **değildir**?

- A) fabrika B) yol
C) orman D) park

CEVAP ANAHTARI

TÜRKÇE	MATEMATİK	FEN BİLİM.	SOSYAL BİL.
1) D	6) C	11) B	16) A
2) B	7) C	12) D	17) A
3) C	8) A	13) C	18) B
4) B	9) D	14) D	19) D
5) A	10) B	15) A	20) C