

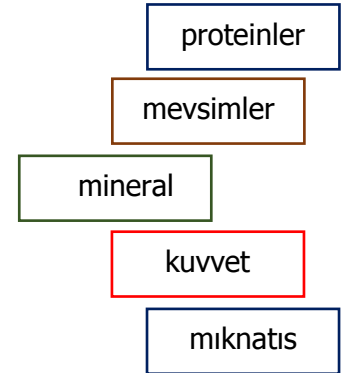
## SORULAR

Aşağıdaki cümlelerin başına doğru ise "D", yanlış ise "Y" yazınız. ( 3 Puan )

- ( ) Kuvvet, hareket eden bir cismi durdurabilir.
- ( ) Mıknatıs bütün cisimleri çeker.
- ( ) Alkol kullanan kişilerde zamanla geçici bilinç kaybı olabilir.
- ( ) Katkı maddesi içeren besinlerin tüketilmesinde sakınca yoktur.
- ( ) Bazı yağlar hayvanlardan bazıları ise bitkilerden elde edilir.
- ( ) Deniz ve göllerin tabanlarında fosiller bulunabilir.
- ( ) Dünya'mız kendi etrafında doğudan batıya doğru döner.

Aşağıdaki cümleleri uygun sözcüklerle eşleştiriniz. ( 1Puan )

- ✓ Duran bir cismi hareket ettirebilir.
- ✓ Taş, kaya ve toprakların farklı renklerde olmasını sağlar.
- ✓ Demir, nikel, kobalt gibi maddeleri çeker.
- ✓ Dünya'nın, Güneş etrafında dolanmasıyla oluşur.
- ✓ Vücudumuzda yapıcı – onarıcı besin içerikleridir.



Aşağıdaki noktalı yerlere yukarıdaki uygun sözcükleri yazarak cümleleri tamamlayınız. ( 3 Puan )

son kullanma	gece - gündüz	çekemez	yön değiştirme
fosil	itme	hızlanma	mineraller

- Kalecinin üzerine gelen topa vurması kuvvetin ..... etkisini gösterir.
- Mıknatısların aynı kutupları birbirine ..... kuvveti uygular.
- Paketlenmiş bir besin aldığımızda ..... tarihine bakmalıyız.
- Kemiklerin ve dişlerin güçlenmesi, yaraların iyileşmesinde ..... görevlidir.
- Geçmişte yaşamış canlıların taşlaşmış kalıntı ve izlerine ..... adı verilir.
- Dünya'nın kendi etrafındaki hareketi sonucu ..... oluşur.
- Kaydırdıktan kayan çocuklar ..... hareketi yapar.
- Mıknatıslar her uzaklıktaki cismi .....

1 Aşağıdakilerden hangisi kuvvetin "yön değiştirme" etkisine örnektir? 5 Puan

- A) Arabanın aniden durması
- B) Futbolcunun duran topa vurması
- C) Topun kale direğine çarpıp geri dönmesi
- D) Kapının anahtarla açılması

2 Aşağıda mıknatıslarla ilgili verilen ifadelerden hangisi yanlıştır? 5 Puan

- A) Zıt kutuplar birbirini çeker.
- B) Mıknatısların kuzey ve güney olmak üzere iki kutbu vardır.
- C) Aynı kutuplar birbirini çeker.
- D) Mıknatıslar demir ve nikel gibi maddeleri çekerler.

3 Gece ve gündüz aşağıdaki olayların hangisinin sonucunda oluşur? 5 Puan

- A) Dünya'nın Ay'ın etrafında dolanmasıyla
- B) Dünya'nın Güneş etrafında dolanmasıyla
- C) Dünya'nın kendi etrafında dönmesiyle
- D) Dünya ve Ay'ın Güneş etrafında dolanmasıyla

- Fosiller deniz ve göllerin tabanında da bulunur.
- Kayaçlar taş ve toprakların oluşumunu sağlar.
- Madenler toprak altından çıkarıldığı gibi kullanılır.

4 Yukarıdaki ifadelerden hangisi veya hangileri doğrudur? 5 Puan

- A) Yalnız I
- B) II ve III
- C) I ve II
- D) I, II ve III

5 Günlük hayatta yaptığımız birçok hareketi hangi besin içerikleriyle karşılarız? 5 Puan





- A) Protein
- B) Karbonhidratlar
- C) Maden suyu
- D) Mineraller

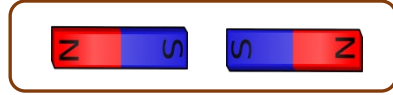
6 Sağlıklı beslenen bir kişi aşağıdakilerden hangisini yapmaz? 5 Puan

- A) Taze ve doğal besinler tüketmeliyiz.
- B) Paketlenmiş ürünlerin son kullanma tarihine dikkat etmeliyiz.
- C) Yağ ve şeker gibi enerji verici besinlere öncelik vermeliyiz.
- D) Her çeşit besinden yeteri kadar yemeliyiz.

"Esnek bir cisme kuvvet uygulandığında şekilleri değişir. Kuvvet ortadan katlığında eski haline geri döner."

7 Yukarıdaki bilgide hangi varlıktan bahsedilmiştir? 5 Puan

- A) 
- B) 
- C) 
- D) 



8 Yukarıdaki mıknatıslar için hangisi söylenemez? 5 Puan

- A) Mıknatıslar birbirini çeker.
- B) Mıknatıslar birbirini iter.
- C) S harfi güneyi gösterir.
- D) N harfi kuzeyi gösterir

9 Aşağıdakilerden hangisi maden değildir? 5 Puan

- A) Taş kömürü
- B) Kum
- C) Altın
- D) Krom

10 Sigaranın zararlarıyla ilgili aşağıda verilen bilgilerden hangisi yanlıştır? 5 Puan

- A) Sigara içen kişilerde ağız kokusu meydana gelir.
- B) Sigara akciğerlere zarar verir.
- C) Açık alanda sigara içmek insan sağlığını olumsuz yönde etkilemez.
- D) Sigara kullanımı zamanla öksürük ve nefes darlığına neden olur.