

1) Aşağıdaki cümlelerin hangisinde "ince" kelimesi farklı bir anlamda kullanılmıştır?

- A) Gaye **ince** sopayı çok kolay kırdı.
B) Arkadaşımın **ince** davranışına sevindik.
C) Bebeğin parmakları çok **ince**.

2) Ablam, aldığımız elbiseye **bayıldı**.

"bayıldı" kelimesi aşağıdaki cümlelerin hangisinde yukarıdakiyle aynı anlamda kullanılmıştır?

- A) Yaşlı adam ambulansa bindirilirken bayıldı.
B) Pelin susuzluktan neredeyse bayılacaktı.
C) Onur'un yaptığı resme tüm arkadaşlarım bayıldı.

3) Annem parkta arkadaşlarıma çok sıcak davrandı.

Yukarıdaki cümlede hangi kelime gerçek anlamı dışında, farklı bir anlamda kullanılmıştır?

- A) davrandı B) parkta C) sıcak

4) Aşağıdaki cümlelerin hangisinde "tatlı" kelimesi farklı bir anlamda kullanılmıştır?

- A) Taner'in çok **tatlı** bir dedesi var.
B) Kek çok **tatlı** olmuş.
C) Kardeşim **tatlı** sakızı çok sever.

5) Aşağıdaki cümlelerin hangisinde "dal" kelimesi farklı bir anlamda kullanılmıştır?

- A) Babam kalın **dalları** baltayla kırdı.
B) Umut korkmadan havuza **daldı**.
C) Kuş ağacın **dalına** yuva yapmış.

6) Aşağıdaki çarpma işlemlerinden hangisi yanlış yapılmıştır?

- A) $70 \times 10 = 70$
B) $9 \times 100 = 900$
C) $6 \times 10 = 600$

7) $\triangleright 15 \times 10 = K$ $\triangleright 5 \times 100 = L$

Yukarıdaki işlemlere göre $K + L$ işleminin sonucu aşağıdakilerden hangisidir?

- A) 700 B) 600 C) 650

8) Aşağıdaki sayılardan hangisinin 10 katı 800 eder?

- A) 800 B) 80 C) 8

- 9) Yandaki çarpma işleminde ikinci çarpan 1 artırıldığında çarpım nasıl değişir ?

$$\begin{array}{r} 4 \\ \times 5 \\ \hline 20 \end{array}$$




- 10) Yandaki çarpma işleminde birinci çarpan 1 azaltıldığında çarpım nasıl değişir?

$$\begin{array}{r} 3 \\ \times 7 \\ \hline 21 \end{array}$$

- 11) Umut'un çanta ihtiyacı vardı. Umut fiyatı uygun olan bir çanta seçti.

Yukarıdaki ifadeye göre Umut çantayı alırmeyi düşünmüş olabilir?

- A) Çantanın rengini
B) Arkadaşlarının beğenip beğenmeyeceğini
C) Aile bütçesini
- 12) Aşağıdakilerden hangisi bir ihtiyaçtır?
A) Paten B) Tablet C) Ayakkabı

- 13)  Ağaç yaşken eğilir.
 Ayağını yorganına göre uzat.
 Damlaya damlaya göl olur.

Yukarıdaki atasözlerinden hangileri aile bütçemizle ilgilidir?

- A)   B)   C)  

- 14) Defter, kalem ve silgi ihtiyaçtır.
 Harcama yapılırken aile bütçesine dikkat etmeyiz.
 Balon bir istektir.

Yukarıdaki ifadelerin yanındaki boşluğa doğru - yanlış diye yazdığımızda doğru sıralama aşağıdakilerden hangisi olur?

- A)

D
D
D

 B)

D
Y
D

 C)

D
Y
Y

- 15) Aşağıdaki davranışlardan hangisi doğrudur?
A) Şeyma kantinden harçlığı kadar harcama yaptı.
B) Mert harçlığından fazla harcama yapmak için arkadaşından borç aldı.
C) Ilgar iki günlük harçlığını bir günde harcadı.

- 16) S – Taş İ – Duman A – Süt
E – Silgi Y – Ayran B – Hava
Z – Sirke M – Kaşık Ş - Sis

Yukarıdaki sıvı maddelerin başındaki harflerle aşağıdaki kelimelerden hangisi yazılabilir?

- A) BAY B) YAZ C) BAŞ

- 17) I – Sıvı .
II- Kırılğan
III-Katı

Yukarıdakilerden hangileri maddenin hallerindedir?

- A) I ve II B) I , II ve III C) I ve III

- 18) Aşağıdaki maddelerden hangisinin belli bir şekli **yoktur**?

- A) Bardak
B) Limonata
C) Kalem

- 19) Aşağıdakilerden hangisinde maddenin hallerine doğru örnekler verilmiştir?

- | | <u>Sıvı</u> | <u>Katı</u> | <u>Gaz</u> |
|----|-------------|-------------|------------|
| A) | pekmez | su buharı | ceviz |
| B) | su buharı | ceviz | pekmez |
| C) | pekmez | ceviz | su buharı |

- 20) ⊙ Hava △ Ses
 ⊠ Işık ◇ Toprak

Boşlukta yer kaplayan ve kütlesi olan her şey maddedir. Buna göre yukarıdakilerden hangileri maddedir?

- A) ⊙ ◇ B) ◇ ⊠ C) ⊠ △

CEVAP ANAHTARI

TÜRKÇE	MATEMATİK	HAYAT BİL.	FEN BİLİM.
1) B	6) A	11) C	16) B
2) C	7) C	12) C	17) C
3) C	8) B	13) A	18) B
4) A	9) B	14) B	19) C
5) B	10) A	15) A	20) A